


تدریس خصوصی ریاضی به صورت حضوری و آنلاین با دبیران حرفه ای و پیگیری قدرتمند در مدرسه

۸۸۹۰۴۰۰۲ - ۸۸۹۰۶۹۰۹ - ۲۶۵۷۰۸۱۰ - ۴۴۰۲۵۸۶۰

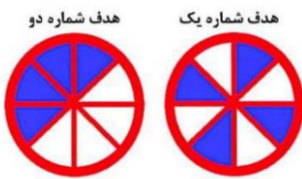
کد تهران ۰۲۱



. ۱

(۱۰ نمره)

دو هدف تیراندازی زیر را در نظر بگیرید. در کدام هدف احتمال این که تیر به قسمت رنگ شده بخورد، بیشتر است؟ چرا؟ (دبستان سرای دانش-تهران ۱۴۰۲)



. ۲

(۱۰ نمره)

در داخل کیسه ای ۷ تیره قرمز و ۵ تیره آبی است. اگر یک تیره از داخل کیسه بیرون بیاوریم، احتمال اینکه کدام رنگ در بیاید بیشتر است؟ (دبستان سرای دانش-تهران ۱۴۰۲)

. ۳

(۱۰ نمره)

در داخل کیسه ای ۷ تیره قرمز و ۵ تیره آبی است. (دبستان سرای دانش-تهران ۱۴۰۲)
 «..... قسمت از قسمت، آبی است.»

. ۴

(۱۰ نمره)



تدریس خصوصی ریاضی به صورت حضوری و آنلاین با دبیران حرفه ای و پیگیری قدرتمند در مدرسه

۸۸۹۰۴۰۰۲ - ۸۸۹۰۶۹۰۹ - ۲۶۵۷۰۸۱۰ - ۴۴۰۲۵۸۶۰

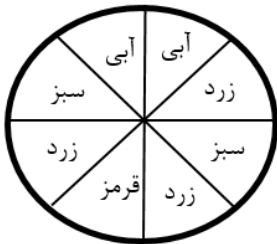
کد تهران ۰۲۱

سارا و مریم دو کیک یکسان خریدند. سارا کیک خود را ۳ قسمت کرد و ۲ قسمت آن را خورد. مریم کیک خود را ۴ قسمت کرد و ۳ قسمت آن را خورد. کدام یک کیک بیشتری خورده است؟ (با کمک شکل)

. ۵

(۱۰ نمره)

شانس ایستادن عقربه روی کدام رنگ‌های چرخنده برابر است؟ شانس ایستادن عقربه روی کدام رنگ‌های چرخنده از همه کمتر است؟ شانس ایستادن عقربه روی کدام رنگ‌های چرخنده از همه بیشتر است؟



. ۶

(۱۰ نمره)

کدام شکل مربوط به عبارت (۴ قسمت از ۷ قسمت مساوی) است ؟

. ۷

(۱۰ نمره)

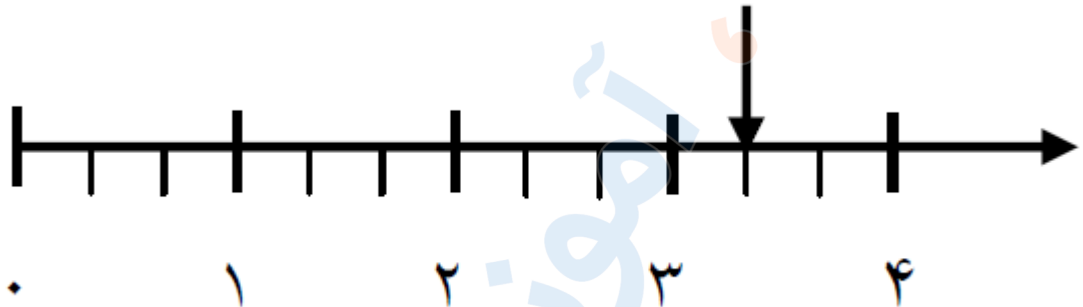


تدریس خصوصی ریاضی به صورت حضوری و آنلاین با دبیران حرفه ای و پیگیری قدرتمند در مدرسه

۸۸۹۰۴۰۰۲ - ۸۸۹۰۶۹۰۹ - ۲۶۵۷۰۸۱۰ - ۴۴۰۲۵۸۶۰

کد تهران ۰۲۱

نقطه ی مشخص شده در محور زیر واحد و قسمت از قسمت مساوی را نشان می دهد .

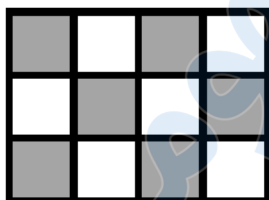


. ۸

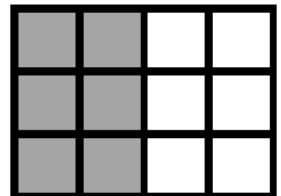
(۱۰ نمره)

در کدام هدف تیر با شانس بیشتری به قسمت سفید برخورد می کند ؟

هدف (۱)



هدف (۲)



. ۹

(۱۰ نمره)



تدریس خصوصی ریاضی به صورت حضوری و آنلاین با دبیران حرفه ای و پیگیری قدرتمند در مدرسه

۸۸۹۰۴۰۰۲ - ۸۸۹۰۶۹۰۹ - ۲۶۵۷۰۸۱۰ - ۴۴۰۲۵۸۶۰

کد تهران ۰۲۱

با توجه به شکل جمله را کامل کنید



..... قسمت از قسمت مساوی رنگ شده است.

. ۱۰

(۱۰ نمره)

دو هدف تیراندازی زیر را در نظر بگیرید. چند قسمت از هدف یک رنگ نشده است؟

(دبستان سرای دانش-تهران ۱۴۰۲)

هدف شماره دو



هدف شماره یک

