

تدریس خصوصی ریاضی به صورت حضوری و آنلاین با دبیران حرفه ای و پیگیری قدرتمند در مدرسه

۸۸۹۰۴۰۰۲ - ۸۸۹۰۶۹۰۹ - ۲۶۵۷۰۸۱۰ - ۴۴۰۲۵۸۶۰

کد تهران ۰۲۱

. ۱

(۱۰ نمره)

بهترین وسیله برای کشیدن دایره است. (دنیای تربیت ۱۴۰۰)

. ۲

(۱۰ نمره)

مکعب از مربع درست شده است. (دنیای تربیت ۱۴۰۰)

. ۳

(۱۰ نمره)

محیط مثلث متساوی الاضلاع زیر چند است؟ (دبستان یاس-لاهیجان ۱۴۰۲)



. ۴

(۱۰ نمره)

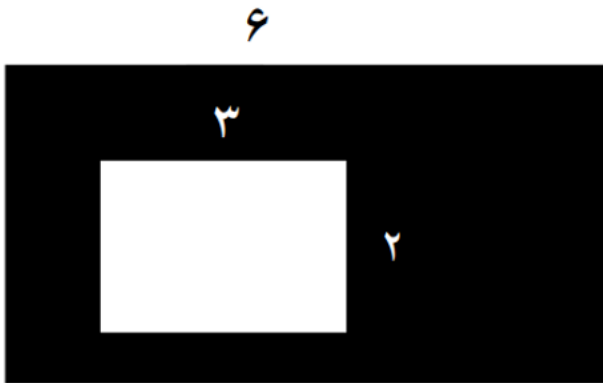


تدریس خصوصی ریاضی به صورت حضوری و آنلاین با دبیران حرفه ای و پیگیری قدرتمند در مدرسه

۸۸۹۰۴۰۰۲ - ۸۸۹۰۶۹۰۹ - ۲۶۵۷۰۸۱۰ - ۴۴۰۲۵۸۶۰

کد تهران ۰۲۱

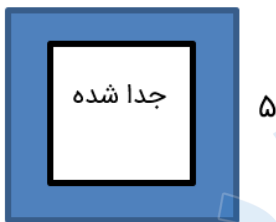
مساحت قسمت رنگی را بیابید. (دبستان یاس-لاهیجان ۱۴۰۲)



۵.

(۱۰ نمره)

در شکل روبه‌رو، اگر بخواهیم مساحت باقی‌مانده ۹ سانتی‌متر مربع باشد، طول ضلع قسمت جدا شده، چند سانتی‌متر مربع است؟



۶.

(۱۰ نمره)

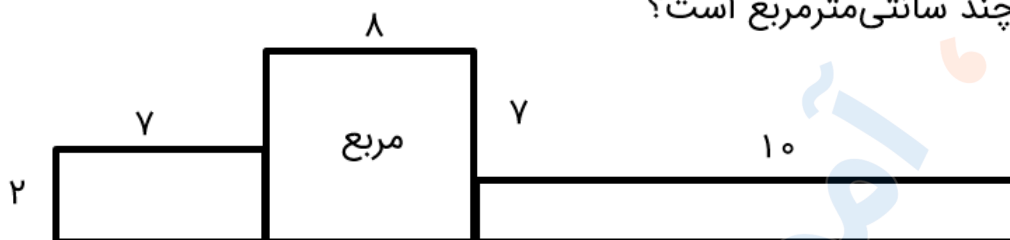


تدریس خصوصی ریاضی به صورت حضوری و آنلاین با دبیران حرفه ای و پیگیری قدرتمند در مدرسه

۴۴۰۲۵۸۶۰ - ۲۶۵۷۰۸۱۰ - ۸۸۹۰۶۹۰۹ - ۸۸۹۰۴۰۰۲

کد تهران ۰۲۱

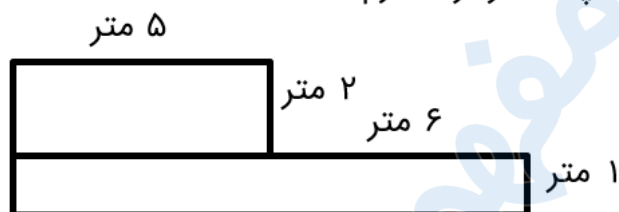
مساحت شکل مقابل چند سانتی متر مربع است؟



.۷

(۱۰ نمره)

می‌خواهیم دور باغچه‌ای به شکل روبه‌رو نرده بکشیم. چند متر نرده لازم است؟



.۸

(۱۰ نمره)

محیط مربعی ۸ سانتی متر است. مساحت آن چند سانتی متر مربع است؟





تدریس خصوصی ریاضی به صورت حضوری و آنلاین با دبیران حرفه ای و پیگیری قدرتمند در مدرسه

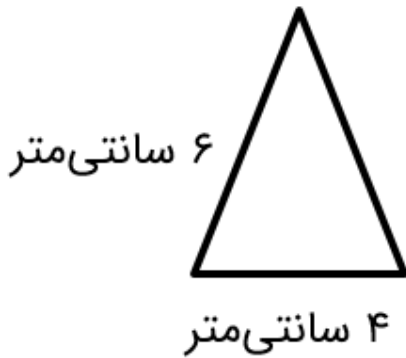
۸۸۹۰۴۰۰۲ - ۸۸۹۰۶۹۰۹ - ۲۶۵۷۰۸۱۰ - ۴۴۰۲۵۸۶۰

کد تهران ۰۲۱

.۹

(۱۰ نمره)

محیط مثلث متساوی الساقین زیر را پیدا کنید.



.۱۰

(۱۰ نمره)

محیط مثلث زیر را پیدا کنید.

