



تدریس خصوصی ریاضی به صورت حضوری و آنلاین با دبیران حرفه ای و پیگیری قدرتمند در مدرسه

۸۸۹۰۴۰۰۲ - ۸۸۹۰۶۹۰۹ - ۲۶۵۷۰۸۱۰ - ۴۴۰۲۵۸۶۰

کد تهران ۰۲۱

. ۱

(۱۰ نمره)

در عدد ۵۴۹۰۰۰۷۱۲ کدام رقم در مرتبه مکانی دهگان میلیون قرار دارد؟ (دبستان یاس - ۱۴۰۱)

. ۲

(۱۰ نمره)

عدد «پانصد و چهل و نه میلیون و هفتصد و دوازده» را به رقم بنویسید. (دبستان یاس - ۱۴۰۱)

. ۳

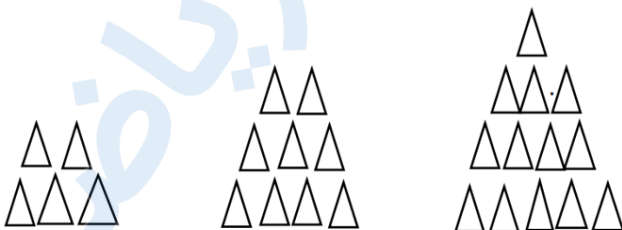
(۱۰ نمره)


بزرگ‌ترین عدد فرد شش رقمی را با اعداد غیر تکراری بنویسید. (دبستان روش نوین یزد - ۱۴۰۲)

. ۴

(۱۰ نمره)

شکل هشتم الگوی زیر از چند مثلث تشکیل شده است؟ (دبستان روش نوین یزد - ۱۴۰۲)





تدریس خصوصی ریاضی به صورت حضوری و آنلاین با دبیران حرفه ای و پیگیری قدرتمند در مدرسه

۴۴۰۲۵۸۶۰ - ۲۶۵۷۰۸۱۰ - ۸۸۹۰۶۹۰۹ - ۸۸۹۰۴۰۰۲

کد تهران ۰۲۱

۵.


(۱۰ نمره)

در عدد ۵۱۳۴۰۹۲۶۸ کدام عدد کمترین ارزش را دارد؟ (دبستان روش نوین یزد - ۱۴۰۲)

۶.

(۱۰ نمره)

شکل مرحله هشتم الگوی زیر با چند دایره ساخته می‌شود؟ (دبستان پور چندقی - رفسنجان ۱۴۰۲)



۷.

(۱۰ نمره)

بزرگ‌ترین عدد سه‌رقمی که رقم سمت راست آن دو برابر رقم وسط و رقم وسط آن دو برابر رقم سمت چپ آن باشد چه عددی است؟

۸.

(۱۰ نمره)

کدام گزینه عدد «هفتصد و هفده میلیون و چهارده هزار و نه» را به درستی نشان می‌دهد؟



تدریس خصوصی ریاضی به صورت حضوری و آنلاین با دبیران حرفه ای و پیگیری قدرتمند در مدرسه

۴۴۰۲۵۸۶۰ - ۲۶۵۷۰۸۱۰ - ۸۸۹۰۶۹۰۹ - ۸۸۹۰۴۰۰۲

کد تهران ۰۲۱

۹.

(۱۰ نمره)

شکل هفتم الگوی زیر از چند چوب کبریت درست می شود؟



شکل (۱)



شکل (۲)



شکل (۳)

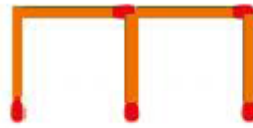
۱۰.

(۱۰ نمره)

الگوی زیر را ادامه دهید.



شکل (۱)



شکل (۲)



شکل (۳)