



تدریس خصوصی ریاضی به صورت حضوری و آنلاین با دبیران حرفه ای و پیگیری قدرتمند در مدرسه

۴۴۰۲۵۸۶۰ - ۲۶۵۷۰۸۱۰ - ۸۸۹۰۶۹۰۹ - ۸۸۹۰۴۰۰۲

کد تهران ۰۲۱

. ۱

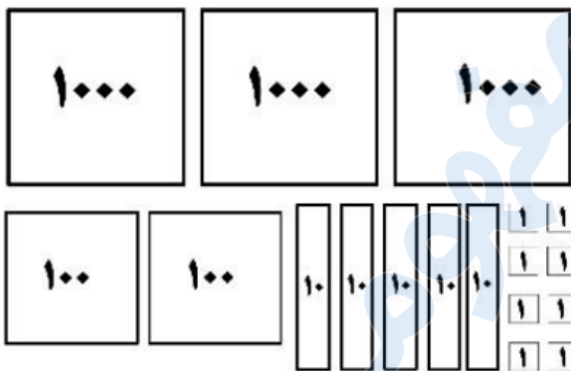
(۱۰ نمره)

تمام عددهای سه رقمی که رقم صدگان آن ۸ و ۲، رقم دهگان آن ۵ و ۰ و رقم یکان آن ۱ و ۴ باشد را بنویسید.
(دنیای تربیت ۱۴۰۰)

. ۲

(۱۰ نمره)

شکل زیر نشان دهنده چه عددی است؟ (دنیای تربیت ۱۴۰۰)



. ۳

(۱۰ نمره)

الگوی عددی زیر را ادامه دهید. (تالیفی)

۱۸۰۰، ۱۵۰۰، ۱۲۰۰، ...



تدریس خصوصی ریاضی به صورت حضوری و آنلاین با دبیران حرفه ای و پیگیری قدرتمند در مدرسه

۴۴۰۲۵۸۶۰ - ۲۶۵۷۰۸۱۰ - ۸۸۹۰۶۹۰۹ - ۸۸۹۰۴۰۰۲

کد تهران ۰۲۱

۴.

(۱۰ نمره)

عدد به حروف می شود «سه هزار و نود و نه». (تالیفی)

۵.

(۱۰ نمره)

عدد زیر را به صورت گسترده بنویسید. (سرای دانش - تهران ۱۴۰۲)

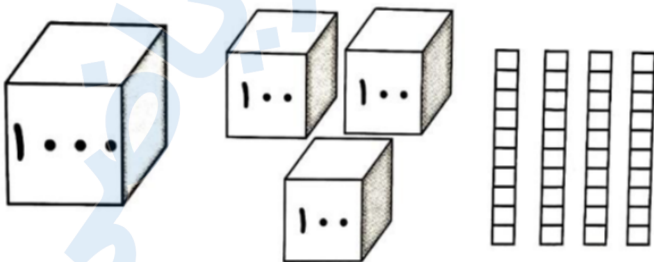
$$۲۱۴۹ = \dots$$


۶.

(۱۰ نمره)

با توجه به شکل مقابل عدد را در جدول ارزش مکانی قرار دهید و آنرا به حروف بنویسید.

(سرای دانش - تهران ۱۴۰۲)





تدریس خصوصی ریاضی به صورت حضوری و آنلاین با دبیران حرفه ای و پیگیری قدرتمند در مدرسه

۸۸۹۰۴۰۰۲ - ۸۸۹۰۶۹۰۹ - ۲۶۵۷۰۸۱۰ - ۴۴۰۲۵۸۶۰

کد تهران ۰۲۱

۷ .
(۱۰ نمره)
کوچکترین عددهای چهاررقمی که رقم یکان ۲، رقم دهگان ۳ و ۴، رقم صدگان ۵ و ۶ و ۰ و رقم هزارگان ۷ باشد را بنویسید. (دبستان پورجندق - رفسنجان ۱۴۰۲)

۸ .
(۱۰ نمره)
با ارقام ۵، ۳، ۱ و ۹ کوچکترین و بزرگترین عدد چهاررقمی را بسازید و اختلاف میانشان را به دست آورید. (دبستان یاس- لاهیجان ۱۴۰۲)

۹ .
(۱۰ نمره)
همه اعداد سه رقمی را بنویسید که یکان آنها ۲ یا ۵، دهگان آنها ۱ یا ۶ و صدگان آنها ۴ باشد.

۱۰ .
(۱۰ نمره)



تدریس خصوصی ریاضی به صورت حضوری و آنلاین با دبیران حرفه ای و پیگیری قدرتمند در مدرسه

۸۸۹۰۴۰۰۲ - ۸۸۹۰۶۹۰۹ - ۲۶۵۷۰۸۱۰ - ۴۴۰۲۵۸۶۰

کد تهران ۰۲۱

جعبه روبه‌رو چند گرم است؟

