



تدریس خصوصی ریاضی به صورت حضوری و آنلاین با دبیران حرفه ای و پیگیری قدرتمند در مدرسه

۴۴۰۲۵۸۶۰ - ۲۶۵۷۰۸۱۰ - ۸۸۹۰۶۹۰۹ - ۸۸۹۰۴۰۰۲

کد تهران ۰۲۱

۱.

(۱۰ نمره)

تمام عددهای سه رقمی که رقم صدگان آن ۸ و ۲، رقم دهگان آن ۵ و ۰ و رقم یکان آن ۱ و ۴ باشد را بنویسید.
(دنیای تربیت ۱۴۰۰)

پاسخ:

۸۰۱، ۲۰۱، ۸۵۱، ۲۵۱، ۸۰۴، ۲۰۴، ۲۵۴، ۸۵۴

۲.

(۱۰ نمره)

شکل زیر نشان دهنده چه عددی است؟ (دنیای تربیت ۱۴۰۰)



پاسخ:



تدریس خصوصی ریاضی به صورت حضوری و آنلاین با دبیران حرفه ای و پیگیری قدرتمند در مدرسه

۴۴۰۲۵۸۶۰ - ۲۶۵۷۰۸۱۰ - ۸۸۹۰۶۹۰۹ - ۸۸۹۰۴۰۰۲

کد تهران ۰۲۱

۳۲۵۸

(۱۰ نمره)

الگوی عددی زیر را ادامه دهید. (تالیفی)

۱۸۰۰، ۱۵۰۰، ۱۲۰۰، ...

پاسخ :

۹۰۰، ۶۰۰، ۳۰۰

(۱۰ نمره)

عدد به حروف می شود «سه هزار و نود و نه». (تالیفی)

پاسخ :



تدریس خصوصی ریاضی به صورت حضوری و آنلاین با دبیران حرفه ای و پیگیری قدرتمند در مدرسه

۸۸۹۰۴۰۰۲ - ۸۸۹۰۶۹۰۹ - ۲۶۵۷۰۸۱۰ - ۴۴۰۲۵۸۶۰

کد تهران ۰۲۱

۳۰۹۹

(۱۰ نمره)

عدد زیر را به صورت گسترده بنویسید. (سرای دانش - تهران ۱۴۰۲)

$$۲۱۴۹ = \dots$$

پاسخ:

$$۲۰۰۰ + ۱۰۰ + ۴۰ + ۹$$

(۱۰ نمره)




تدریس خصوصی ریاضی به صورت حضوری و آنلاین با دبیران حرفه ای و پیگیری قدرتمند در مدرسه

۴۴۰۲۵۸۶۰ - ۲۶۵۷۰۸۱۰ - ۸۸۹۰۶۹۰۹ - ۸۸۹۰۴۰۰۲

کد تهران ۰۲۱

با توجه به شکل مقابل عدد را در جدول ارزش مکانی قرار دهید و آنرا به حروف بنویسید.

(سرای دانش - تهران ۱۴۰۲)



پاسخ :

| هزارگان | صدگان | دهگان | یکان |
|---------|-------|-------|------|
| ۱ | ۳ | ۴ | ۰ |

۷.

(۱۰ نمره)

کوچکترین عددهای چهار رقمی که رقم یکان ۲، رقم دهگان ۳ و ۴، رقم صدگان ۵ و ۶ و ۰ و رقم هزارگان ۷ باشد را بنویسید. (دبستان پورجندق - رفسنجان ۱۴۰۲)

پاسخ :

۷۰۳۲



تدریس خصوصی ریاضی به صورت حضوری و آنلاین با دبیران حرفه ای و پیگیری قدرتمند در مدرسه

۴۴۰۲۵۸۶۰ - ۲۶۵۷۰۸۱۰ - ۸۸۹۰۶۹۰۹ - ۸۸۹۰۴۰۰۲

کد تهران ۰۲۱

. ۸

(۱۰ نمره)

با ارقام ۱، ۳، ۵ و ۹ کوچکترین و بزرگترین عدد چهاررقمی را بسازید و اختلاف میانشان را به دست آورید.

(دبستان یاس-لاهیجان ۱۴۰۲)

پاسخ :

بزرگ ترین ۹۵۳۱

کوچک ترین ۱۳۵۹

$$۹۵۳۱ - ۱۳۵۹ = ۸۱۷۲$$

. ۹

(۱۰ نمره)

همه اعداد سه رقمی را بنویسید که یکان آن‌ها ۲ یا ۵، دهگان آن‌ها ۱ یا ۶ و صدگان آن‌ها ۴ باشد.

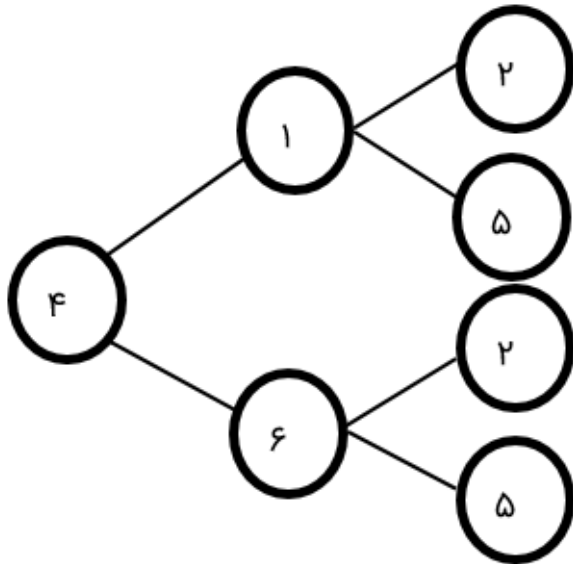
پاسخ :



تدریس خصوصی ریاضی به صورت حضوری و آنلاین با دبیران حرفه ای و پیگیری قدرتمند در مدرسه

۸۸۹۰۴۰۰۲ - ۸۸۹۰۶۹۰۹ - ۲۶۵۷۰۸۱۰ - ۴۴۰۲۵۸۶۰

کد تهران ۰۲۱

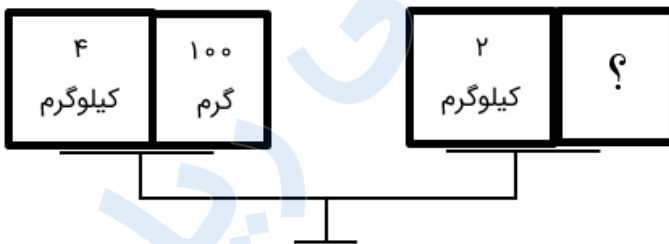


۴۱۲ - ۴۱۵ - ۴۶۲ - ۴۶۵

(۱۰ نمره)

. ۱۰

جعبه روبه‌رو چند گرم است؟



پاسخ :



تدریس خصوصی ریاضی به صورت حضوری و آنلاین با دبیران حرفه ای و پیگیری قدرتمند در مدرسه

۸۸۹۰۴۰۰۲ - ۸۸۹۰۶۹۰۹ - ۲۶۵۷۰۸۱۰ - ۴۴۰۲۵۸۶۰

کد تهران ۰۲۱

$$۲۱۰۰ \text{ گرم} = \text{جعبه} \Rightarrow ۲۱۰۰ \text{ گرم} + ۲۰۰۰ \text{ گرم} = ۴۱۰۰ \text{ گرم}$$