



تدریس خصوصی ریاضی به صورت حضوری و آنلاین با دبیران حرفه ای و پیگیری قدرتمند در مدرسه

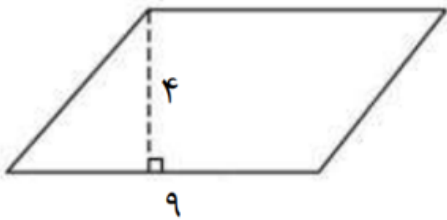
۸۸۹۰۴۰۰۲ - ۸۸۹۰۶۹۰۹ - ۲۶۵۷۰۸۱۰ - ۴۴۰۲۵۸۶۰

کد تهران ۰۲۱

. ۱

(۱۰ نمره)

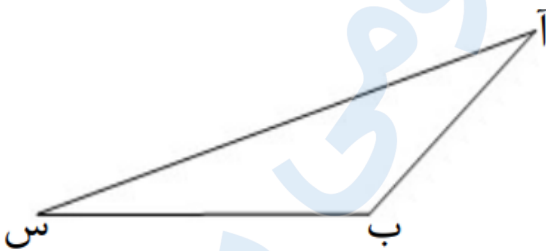
مساحت متوازی الاضلاع زیر را پیدا کنید. (نور فلق تبریز)



. ۲

(۱۰ نمره)

ارتفاع مثلث زیر را از رأس «آ» رسم کنید. (نور فلق تبریز)



. ۳

(۱۰ نمره)

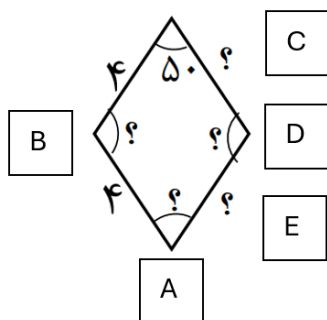


تدریس خصوصی ریاضی به صورت حضوری و آنلاین با دبیران حرفه ای و پیگیری قدرتمند در مدرسه

۴۴۰۲۵۸۶۰ - ۲۶۵۷۰۸۱۰ - ۸۸۹۰۶۹۰۹ - ۸۸۹۰۴۰۰۲

کد تهران ۰۲۱

در شکل داده شده، اندازه ضلعها و زاویه‌هایی که با علامت سوال مشخص شده است را بنویسید. (نور فلق تبریز)



. ۴

(۱۰ نمره)

مستطیل، متوازی‌الاضلاع است که (دبستان پور جندقی - رفسنجان ۱۴۰۲)

. ۵

(۱۰ نمره)

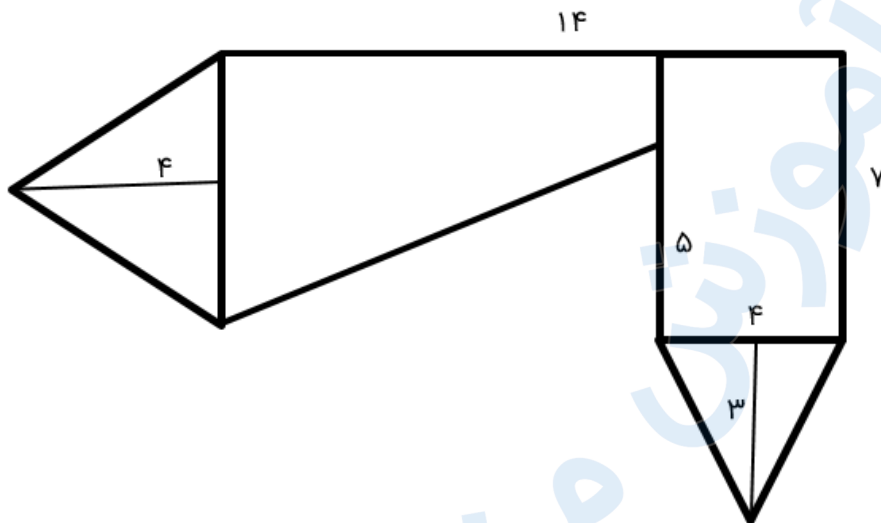


تدریس خصوصی ریاضی به صورت حضوری و آنلاین با دبیران حرفه ای و پیگیری قدرتمند در مدرسه

۸۸۹۰۴۰۰۲ - ۸۸۹۰۶۹۰۹ - ۲۶۵۷۰۸۱۰ - ۴۴۰۲۵۸۶۰

کد تهران ۰۲۱

مساحت شکل زیر را پیدا کنید.




۶.

(۱۰ نمره)

محیط شکل زیر چند متر و مساحت آن چند سانتی متر مربع است؟

۴/۲



۱/۸



تدریس خصوصی ریاضی به صورت حضوری و آنلاین با دبیران حرفه ای و پیگیری قدرتمند در مدرسه

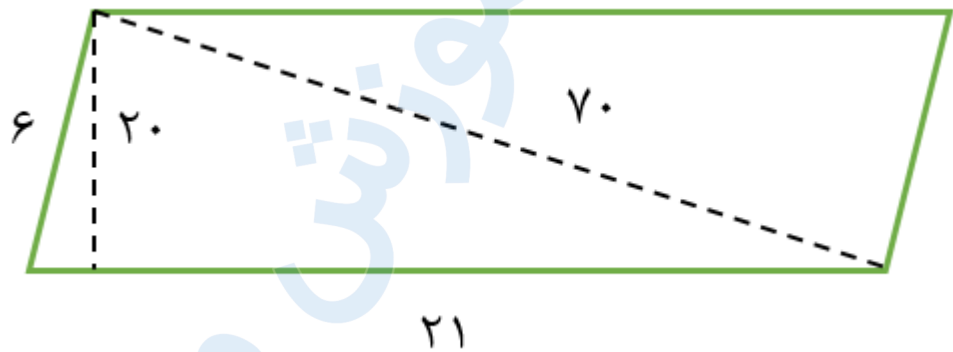
۸۸۹۰۴۰۰۲ - ۸۸۹۰۶۹۰۹ - ۲۶۵۷۰۸۱۰ - ۴۴۰۲۵۸۶۰

کد تهران ۰۲۱

۷.

(۱۰ نمره)

مساحت شکل زیر کدام است؟



۸.

(۱۰ نمره)

ارتفاع مثلثی ۲۰ سانتی‌متر و قاعده آن ۱۵ سانتی‌متر است. مساحت این مثلث چند سانتی‌متر مربع است؟

۹.

(۱۰ نمره)



تدریس خصوصی ریاضی به صورت حضوری و آنلاین با دبیران حرفه ای و پیگیری قدرتمند در مدرسه

۸۸۹۰۴۰۰۲ - ۸۸۹۰۶۹۰۹ - ۲۶۵۷۰۸۱۰ - ۴۴۰۲۵۸۶۰

کد تهران ۰۲۱

می‌خواهیم دور این مستطیل را ۳ دور سیم خاردار بکشیم. چند متر سیم خاردار نیاز داریم؟



۷/۴

۹/۲

. ۱۰

(۱۰ نمره)

یک مربع نوعی لوزی است که