



تدریس خصوصی ریاضی به صورت حضوری و آنلاین با دبیران حرفه ای و پیگیری قدرتمند در مدرسه

۸۸۹۰۴۰۰۲ - ۸۸۹۰۶۹۰۹ - ۲۶۵۷۰۸۱۰ - ۴۴۰۲۵۸۶۰

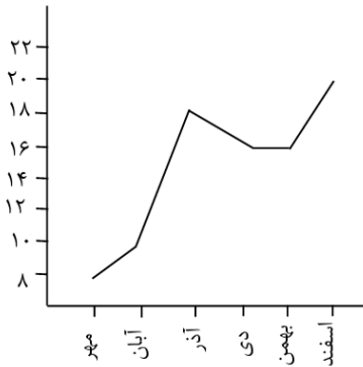
کد تهران ۰۲۱

۱.

(۱۰ نمره)

نمودار زیر نمرات یک دانش‌آموز را نشان می‌دهد. نمره این دانش‌آموز بین چه ماه‌هایی کاهش یافته است؟

(دبستان پور جندقی - رفسنجان ۱۴۰۲)



۲.

(۱۰ نمره)

از نمودار ستونی برای و از نمودار خط شکسته برای استفاده می‌شود.

۳.

(۱۰ نمره)

یک سکه را می‌اندازیم، حالت ممکن است اتفاق بیفتد.

۴.

(۱۰ نمره)

یک تاس را می‌اندازیم. احتمال این که عددی زوج بیاید را با یک عبارت مناسب بیان کنید.



تدریس خصوصی ریاضی به صورت حضوری و آنلاین با دبیران حرفه ای و پیگیری قدرتمند در مدرسه

۴۴۰۲۵۸۶۰ - ۲۶۵۷۰۸۱۰ - ۸۸۹۰۶۹۰۹ - ۸۸۹۰۴۰۰۲

کد تهران ۰۲۱

۵.

(۱۰ نمره)


نمرات یک دانش آموز در نوبت اول سال تحصیلی به صورت زیر است، تعیین کنید در کدام ماه ها دانش آموز پیشرفت تحصیلی نداشته است؟

اسفند	بهمن	دی	آذر	آبان	مهر	ماه
۲۰	۱۸	۱۹	۱۶	۱۸	۱۶	نمره

۶.

(۱۰ نمره)

شکل زیر چند درجه باید بچرخد تا دوباره روی خودش قرار بگیرد؟



۷.

(۱۰ نمره)

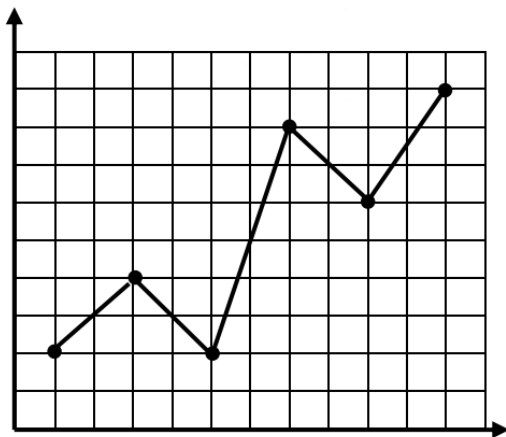


تدریس خصوصی ریاضی به صورت حضوری و آنلاین با دبیران حرفه ای و پیگیری قدرتمند در مدرسه

۴۴۰۲۵۸۶۰ - ۲۶۵۷۰۸۱۰ - ۸۸۹۰۶۹۰۹ - ۸۸۹۰۴۰۰۲

کد تهران ۰۲۱

با توجه به نمودار زیر در چه ماهی بیشترین افزایش بارندگی را داشته ایم؟



اسفند بهمن دی آذر آبان مهر

. ۸

(۱۰ نمره)

داخل یک کیسه تعداد مساوی چینه های رنگی ریخته ایم و هر بار یکی از آن ها را بیرون می آوریم و با آمار جدول زیر رو به رو می شویم اگر یک بار دیگر از داخل کیسه یک چینه بیرون بیاوریم به احتمال زیاد چینه چه رنگی خواهد بود؟

زرد	قرمز	سبز	رنگ
۷	۳	۹	تعداد



تدریس خصوصی ریاضی به صورت حضوری و آنلاین با دبیران حرفه ای و پیگیری قدرتمند در مدرسه

۴۴۰۲۵۸۶۰ - ۲۶۵۷۰۸۱۰ - ۸۸۹۰۶۹۰۹ - ۸۸۹۰۴۰۰۲

کد تهران ۰۲۱

.۹

(۱۰ نمره)

نمودار مربوط به جدول زیر کدام گزینه است؟

باغ ۳		باغ ۲		باغ ۱	
سیب	گلابی	سیب	گلابی	سیب	گلابی
۲۱۰	۲۷۰	۱۹۰	۲۳۰	۲۵۰	۲۰۰



.۱۰

(۱۰ نمره)

اگر چرخنده زیر را بچرخانیم ، احتمال قرار گرفتن عقربه روی کدام رنگ بیشتر است؟

