



تدریس خصوصی ریاضی به صورت حضوری و آنلاین با دبیران حرفه ای و پیگیری قدرتمند در مدرسه

۴۴۰۲۵۸۶۰ - ۲۶۵۷۰۸۱۰ - ۸۸۹۰۶۹۰۹ - ۸۸۹۰۴۰۰۲

کد تهران ۰۲۱

. ۱

(۱۰ نمره)

درستی یا نادرستی عبارت زیر را مشخص کنید. (سرای دانش - بندر دیلم)  
«اگر شعاع دایره‌ای ۶ باشد قطر آن ۱۰ خواهد بود.»

. ۲

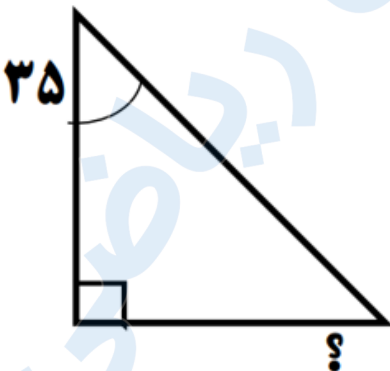
(۱۰ نمره)

مربع همان ..... است که قطرهای برابر دارد. (سرای دانش - بندر دیلم)

. ۳

(۱۰ نمره)

زاویه خواسته شده را بدست آورید. (سرای دانش - بندر دیلم)





تدریس خصوصی ریاضی به صورت حضوری و آنلاین با دبیران حرفه ای و پیگیری قدرتمند در مدرسه

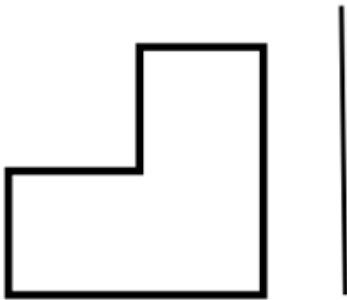
۴۴۰۲۵۸۶۰ - ۲۶۵۷۰۸۱۰ - ۸۸۹۰۶۹۰۹ - ۸۸۹۰۴۰۰۲

کد تهران ۰۲۱

۴.

(۱۰ نمره)

نسبت به خط تقارن شکل را قرینه کنید. (سرای دانش - بندر دیلم)



۵.

(۱۰ نمره)

اندازه‌ی زاویه خواسته شده را بدست آورید. (دبستان مهرگان - بابل ۱۴۰۲)





تدریس خصوصی ریاضی به صورت حضوری و آنلاین با دبیران حرفه ای و پیگیری قدرتمند در مدرسه

۴۴۰۲۵۸۶۰ - ۲۶۵۷۰۸۱۰ - ۸۸۹۰۶۹۰۹ - ۸۸۹۰۴۰۰۲

کد تهران ۰۲۱

۶.

(۱۰ نمره)

اندازه‌ی زاویه خواسته شده را بدست آورید. (دبستان مهرگان - بابل ۱۴۰۲)



۷.

(۱۰ نمره)

درستی یا نادرستی عبارت زیر را مشخص کنید. (دبستان مهرگان - بابل ۱۴۰۲)  
«مثلث متسوی الاضلاع مرکز تقارن دارد»

۸.

(۱۰ نمره)

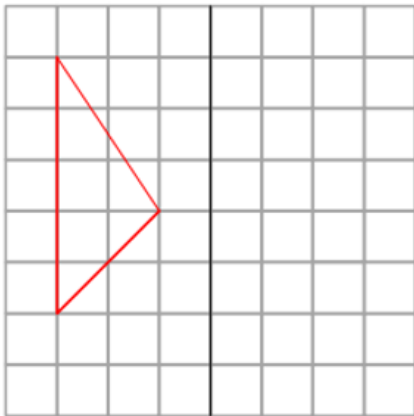


تدریس خصوصی ریاضی به صورت حضوری و آنلاین با دبیران حرفه ای و پیگیری قدرتمند در مدرسه

۴۴۰۲۵۸۶۰ - ۲۶۵۷۰۸۱۰ - ۸۸۹۰۶۹۰۹ - ۸۸۹۰۴۰۰۲

کد تهران ۰۲۱

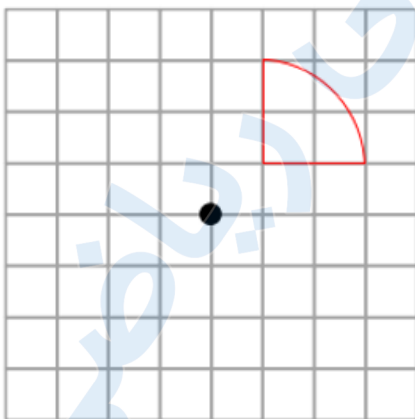
قرینه شکل را نسبت به خط رسم کنید. (دبستان حسینی - تهران ۱۴۰۲)



.۹

(۱۰ نمره)

قرینه شکل را نسبت به نقطه رسم کنید. (دبستان حسینی - تهران ۱۴۰۲)





تدریس خصوصی ریاضی به صورت حضوری و آنلاین با دبیران حرفه ای و پیگیری قدرتمند در مدرسه

۴۴۰۲۵۸۶۰ - ۲۶۵۷۰۸۱۰ - ۸۸۹۰۶۹۰۹ - ۸۸۹۰۴۰۰۲

کد تهران ۰۲۱

(۱۰ نمره)

. ۱۰

اندازه زاویه خواسته شده را به دست آورید. (دبستان حسینی - تهران ۱۴۰۲)

