



تدریس خصوصی ریاضی به صورت حضوری و آنلاین با دبیران حرفه ای و پیگیری قدرتمند در مدرسه

۸۸۹۰۴۰۰۲ - ۸۸۹۰۶۹۰۹ - ۲۶۵۷۰۸۱۰ - ۴۴۰۲۵۸۶۰

کد تهران ۰۲۱

۱.

(۱۰ نمره)

محیط شکل زیر چند سانتی متر است



۲.

(۱۰ نمره)

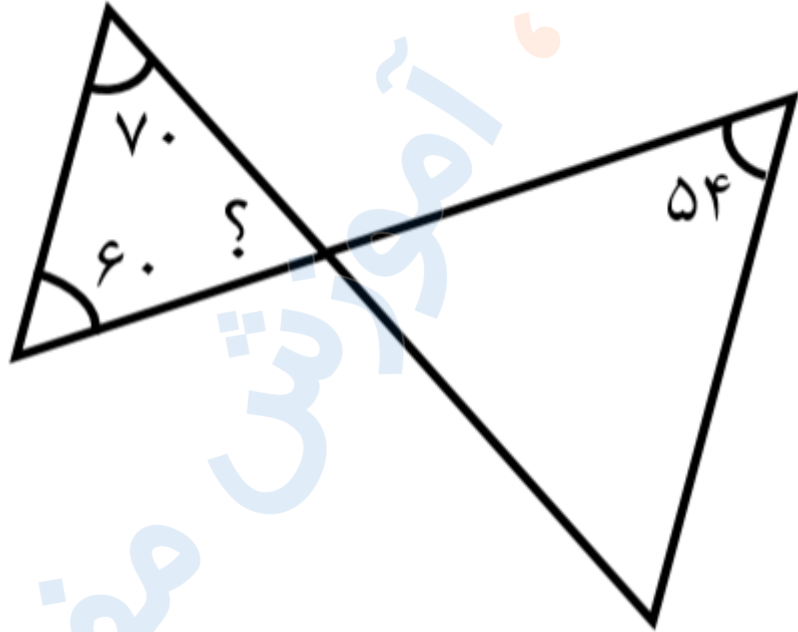


تدریس خصوصی ریاضی به صورت حضوری و آنلاین با دبیران حرفه ای و پیگیری قدرتمند در مدرسه

۸۸۹۰۴۰۰۲ - ۸۸۹۰۶۹۰۹ - ۲۶۵۷۰۸۱۰ - ۴۴۰۲۵۸۶۰

کد تهران ۰۲۱

اندازه زاویه خواسته شده در علامت سوال را به دست بیاورید



. ۳

(۱۰ نمره)

زمین مربع شکلی داریم که محیط آن $7/2$ متر است. مساحت این زمین چند سانتی متر مربع است؟

. ۴

(۱۰ نمره)

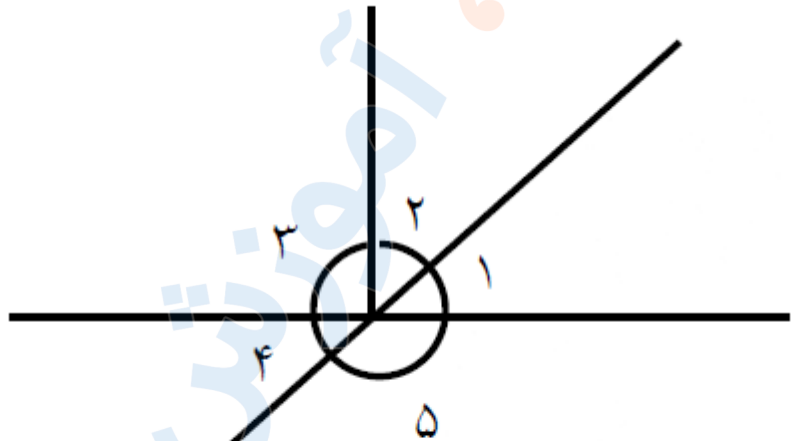


تدریس خصوصی ریاضی به صورت حضوری و آنلاین با دبیران حرفه ای و پیگیری قدرتمند در مدرسه

۸۸۹۰۴۰۰۲ - ۸۸۹۰۶۹۰۹ - ۲۶۵۷۰۸۱۰ - ۴۴۰۲۵۸۶۰

کد تهران ۰۲۱

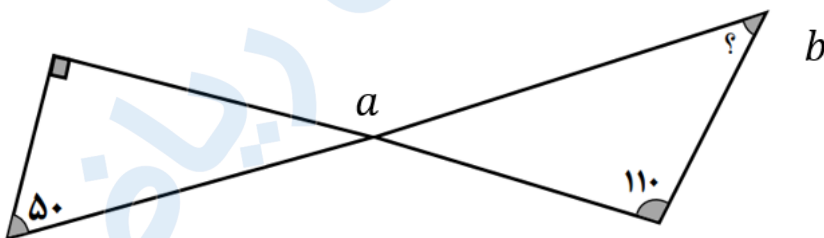
در شکل مقابل اگر اندازه زاویه ۴ ، مساوی با ۳۶ درجه باشد، اندازه زاویه ۲ چند خواهد شد؟



۵.

(۱۰ نمره)

اندازه زاویه مشخص شده را پیدا کنید. (سرای دانش - ایلام)





تدریس خصوصی ریاضی به صورت حضوری و آنلاین با دبیران حرفه ای و پیگیری قدرتمند در مدرسه

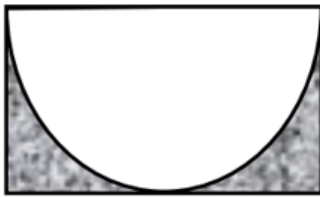
۴۴۰۲۵۸۶۰ - ۲۶۵۷۰۸۱۰ - ۸۸۹۰۶۹۰۹ - ۸۸۹۰۴۰۰۲

کد تهران ۰۲۱

۶.

(۱۰ نمره)

مساحت قسمت رنگی را به دست آورید. (سرای دانش - ایلام)



۱۰ سانتی متر

۲۰ سانتی متر

۷.

(۱۰ نمره)

عدد بزرگتر را مشخص کنید. (دبستان فرشتگان - کنگان ۱۴۰۱)

۸.

(۱۰ نمره)

۳/۶۵۲ دسی متر مربع چند سانتی متر مربع است؟ (دبستان فرشتگان - کنگان ۱۴۰۱)

۹.

(۱۰ نمره)



تدریس خصوصی ریاضی به صورت حضوری و آنلاین با دبیران حرفه ای و پیگیری قدرتمند در مدرسه

۴۴۰۲۵۸۶۰ - ۲۶۵۷۰۸۱۰ - ۸۸۹۰۶۹۰۹ - ۸۸۹۰۴۰۰۲

کد تهران ۰۲۱

لیتر همان سانتی متر مکعب است. (دبستان سرای دانش - تهران ۱۴۰۲)

(۱۰ نمره)

. ۱۰

۴۵ کیلوگرم برابر گرم است. (دبستان سرای دانش - تهران ۱۴۰۲)