




تدریس خصوصی ریاضی به صورت حضوری و آنلاین با دبیران حرفه ای و پیگیری قدرتمند در مدرسه

۸۸۹۰۴۰۰۲ - ۸۸۹۰۶۹۰۹ - ۲۶۵۷۰۸۱۰ - ۴۴۰۲۵۸۶۰

کد تهران ۰۲۱

۱.

(۱۰ نمره)




چند  $\Delta$  در شکل بینی؟

۲.

(۱۰ نمره)

برای جای خالی مقابل علامت مناسب را انتخاب کنید.

$$۲۸ - ۹$$



$$۳۰ - ۱۰$$

۳.

(۱۰ نمره)

نام شکل زیر چیست؟





تدریس خصوصی ریاضی به صورت حضوری و آنلاین با دبیران حرفه ای و پیگیری قدرتمند در مدرسه

۴۴۰۲۵۸۶۰ - ۲۶۵۷۰۸۱۰ - ۸۸۹۰۶۹۰۹ - ۸۸۹۰۴۰۰۲

کد تهران ۰۲۱

۴.

(۱۰ نمره)

در جاهای خالی چه عددی قرار می گیرد؟

$$0 \quad - \quad 8 \quad - \quad 16 \quad - \quad 24 \quad - \quad 32$$

.....      .....      .....      .....

۵.

(۱۰ نمره)

علامت مناسب برای عبارت مقابل را انتخاب کنید.


$$8 + 6 + 10 \quad \square \quad 20 + 5 + 2$$

۶.

(۱۰ نمره)

کدام علامت در مربع قرار می گیرد؟

$$50 - 20 \quad \square \quad 40 - 10$$



تدریس خصوصی ریاضی به صورت حضوری و آنلاین با دبیران حرفه ای و پیگیری قدرتمند در مدرسه

۸۸۹۰۴۰۰۲ - ۸۸۹۰۶۹۰۹ - ۲۶۵۷۰۸۱۰ - ۴۴۰۲۵۸۶۰

کد تهران ۰۲۱

۷.

(۱۰ نمره)

علی ۵ بسته ی ۴ تایی شکلات گردویی و ۳ بسته ی ۳ تایی شکلات فندقی دارد. علی روی هم چند شکلات دارد؟

۸.

(۱۰ نمره)

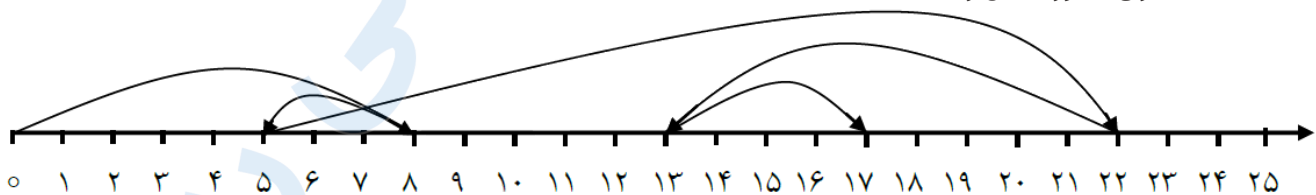
حاصل عبارت مقابل چند می شود؟

$$۲۰ + ۶ + ۱۰ = \square$$

۹.

(۱۰ نمره)

عملیات مناسب برای محور مقابل را انتخاب کنید.



۱۰.

(۱۰ نمره)

کتابی ۲۸ صفحه دارد. مریم ۱۵ صفحه از این کتاب را خوانده است. چند صفحه باقی مانده است؟