



تدریس خصوصی ریاضی به صورت حضوری و آنلاین با دبیران حرفه ای و پیگیری قدرتمند در مدرسه


۴۴۰۲۵۸۶۰ - ۲۶۵۷۰۸۱۰ - ۸۸۹۰۶۹۰۹ - ۸۸۹۰۴۰۰۲

کد تهران ۰۲۱


۱.

(۱۰ نمره)

چند Δ در شکل بینی؟



پاسخ:



۲.

(۱۰ نمره)



تدریس خصوصی ریاضی به صورت حضوری و آنلاین با دبیران حرفه ای و پیگیری قدرتمند در مدرسه

۸۸۹۰۴۰۰۲ - ۸۸۹۰۶۹۰۹ - ۲۶۵۷۰۸۱۰ - ۴۴۰۲۵۸۶۰

کد تهران ۰۲۱

برای جای خالی مقابل علامت مناسب را انتخاب کنید.

$$28 - 9 \quad \square \quad 30 - 10$$

پاسخ :

$$\underbrace{28 - 9}_{19} \quad \square \quad \underbrace{30 - 10}_{20}$$

۳.

(۱۰ نمره)

نام شکل زیر چیست؟



پاسخ :



تدریس خصوصی ریاضی به صورت حضوری و آنلاین با دبیران حرفه ای و پیگیری قدرتمند در مدرسه

۸۸۹۰۴۰۰۲ - ۸۸۹۰۶۹۰۹ - ۲۶۵۷۰۸۱۰ - ۴۴۰۲۵۸۶۰

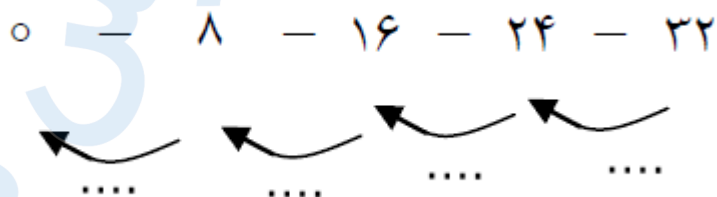
کد تهران ۰۲۱

مستطیل

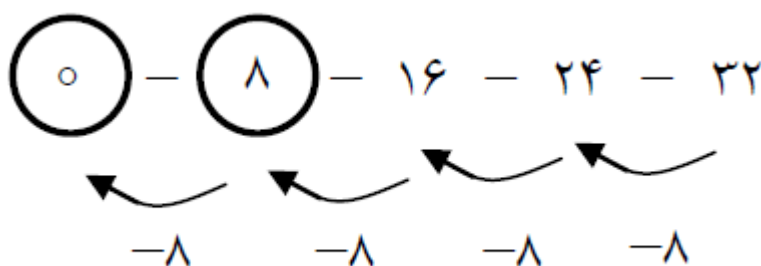
۴.

(۱۰ نمره)

در جاهای خالی چه عددی قرار می گیرد؟



پاسخ:



۵.

(۱۰ نمره)



تدریس خصوصی ریاضی به صورت حضوری و آنلاین با دبیران حرفه ای و پیگیری قدرتمند در مدرسه

۸۸۹۰۴۰۰۲ - ۸۸۹۰۶۹۰۹ - ۲۶۵۷۰۸۱۰ - ۴۴۰۲۵۸۶۰

کد تهران ۰۲۱

علامت مناسب برای عبارت مقابل را انتخاب کنید.

$$۸+۶+۱۰ \quad \square \quad ۲۰+۵+۲$$

پاسخ :

$$\underbrace{۸+۶+۱۰}_{۲۴} \quad \square \quad \underbrace{۲۰+۵+۲}_{۲۷}$$

۶.

(۱۰ نمره)

کدام علامت در مربع قرار می گیرد؟

$$۵۰-۲۰ \quad \square \quad ۴۰-۱۰$$

پاسخ :



تدریس خصوصی ریاضی به صورت حضوری و آنلاین با دبیران حرفه ای و پیگیری قدرتمند در مدرسه

۸۸۹۰۴۰۰۲ - ۸۸۹۰۶۹۰۹ - ۲۶۵۷۰۸۱۰ - ۴۴۰۲۵۸۶۰

کد تهران ۰۲۱

$$\underbrace{50 - 20}_{30} = \boxed{\quad} = \underbrace{40 - 10}_{30}$$

. ۷

(۱۰ نمره)

علی ۵ بسته ی ۴ تایی شکلات گردویی و ۳ بسته ی ۳ تایی شکلات فندقی دارد. علی روی هم چند شکلات دارد؟

پاسخ :

شکلات گردویی $\boxed{20} =$ ○○○○ ○○○○ ○○○○ ○○○○ ○○○○

شکلات فندقی $\boxed{9} =$ ○○○ ○○○ ○○○

علی روی هم ۲۹ شکلات دارد. $20 + 9 = 29$

. ۸



تدریس خصوصی ریاضی به صورت حضوری و آنلاین با دبیران حرفه ای و پیگیری قدرتمند در مدرسه

۸۸۹۰۴۰۰۲ - ۸۸۹۰۶۹۰۹ - ۲۶۵۷۰۸۱۰ - ۴۴۰۲۵۸۶۰

کد تهران ۰۲۱

(۱۰ نمره)

حاصل عبارت مقابل چند می شود؟

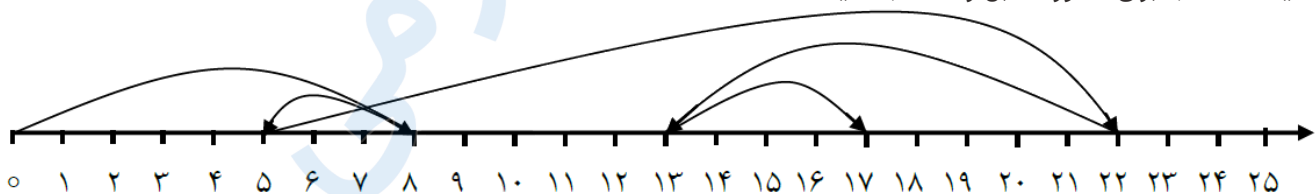
$$۲۰ + ۶ + ۱۰ = \square$$

پاسخ :

$$۲۰ + ۶ + ۱۰ = \square ۳۶$$

(۱۰ نمره)

عملیات مناسب برای محور مقابل را انتخاب کنید.



پاسخ :



تدریس خصوصی ریاضی به صورت حضوری و آنلاین با دبیران حرفه ای و پیگیری قدرتمند در مدرسه

۸۸۹۰۴۰۰۲ - ۸۸۹۰۶۹۰۹ - ۲۶۵۷۰۸۱۰ - ۴۴۰۲۵۸۶۰

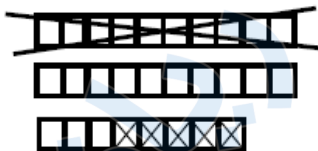
کد تهران ۰۲۱

$$\begin{array}{c} 13 \\ \underbrace{\hspace{10em}} \\ 8 - 3 + 17 - 9 + 4 = 17 \\ \underbrace{\hspace{2em}} \\ 5 \\ \underbrace{\hspace{10em}} \\ 22 \end{array}$$

۱۰.

(۱۰ نمره)
کتابی ۲۸ صفحه دارد. مریم ۱۵ صفحه از این کتاب را خوانده است. چند صفحه باقی مانده است؟

پاسخ:



$$28 - 15 = 13$$

۱۳ صفحه باقی مانده است.