



تدریس خصوصی ریاضی به صورت حضوری و آنلاین با دبیران حرفه ای و پیگیری قدرتمند در مدرسه

۸۸۹۰۴۰۰۲ - ۸۸۹۰۶۹۰۹ - ۲۶۵۷۰۸۱۰ - ۴۴۰۲۵۸۶۰

کد تهران ۰۲۱

. ۱

(۱۰ نمره)

در بشقاب ششم چند سیب قرار دارد؟



بشقاب اول



بشقاب دوم



بشقاب سوم

. ۲

(۱۰ نمره)

عددهای قبلی را با روش دلخواه بنویس.

..... - ۱۵ - ۱۸ - ۲۱

. ۳

(۱۰ نمره)

تعداد انگشت های دست و پای دو نفر چند تا است؟

. ۴

(۱۰ نمره)



تدریس خصوصی ریاضی به صورت حضوری و آنلاین با دبیران حرفه ای و پیگیری قدرتمند در مدرسه

۸۸۹۰۴۰۰۲ - ۸۸۹۰۶۹۰۹ - ۲۶۵۷۰۸۱۰ - ۴۴۰۲۵۸۶۰

کد تهران ۰۲۱

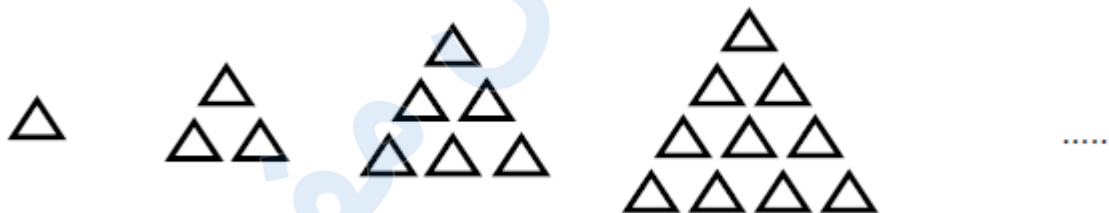
عملیات مناسب شکل زیر را انتخاب کنید.



۵.

(۱۰ نمره)

شکل بعدی در الگوی مقابل را مشخص نمایید.



۶.

(۱۰ نمره)

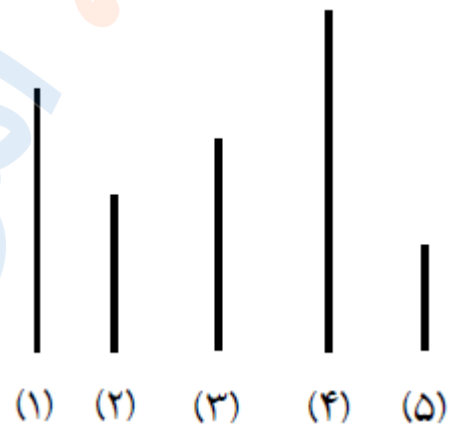


تدریس خصوصی ریاضی به صورت حضوری و آنلاین با دبیران حرفه ای و پیگیری قدرتمند در مدرسه

۴۴۰۲۵۸۶۰ - ۲۶۵۷۰۸۱۰ - ۸۸۹۰۶۹۰۹ - ۸۸۹۰۴۰۰۲

کد تهران ۰۲۱

به خط های زیر نگاه کنید:
خط شماره (۱) کوتاه تر از خط شماره است.

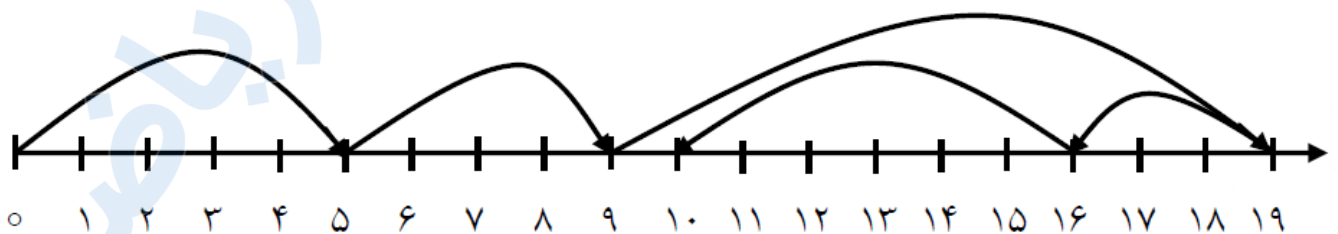


(۱۰ نمره)

در تنگ ۴ ماهی قرمز و ۸ ماهی سفید بود. ۹ تا از ماهی ها مردند چند ماهی باقی مانده است؟

(۱۰ نمره)

عملیات مناسب محور مقابل کدام گزینه است؟





تدریس خصوصی ریاضی به صورت حضوری و آنلاین با دبیران حرفه ای و پیگیری قدرتمند در مدرسه

۸۸۹۰۴۰۰۲ - ۸۸۹۰۶۹۰۹ - ۲۶۵۷۰۸۱۰ - ۴۴۰۲۵۸۶۰

کد تهران ۰۲۱

۹.

(۱۰ نمره)

حاصل جمع زیر چند می شود؟

$$۳۰ + ۳۰ + ۱۰ =$$

۱۰.

(۱۰ نمره)

در الگوی زیر شکل بعدی کدام گزینه می شود؟

