



تدریس خصوصی ریاضی به صورت حضوری و آنلاین با دبیران حرفه ای و پیگیری قدرتمند در مدرسه

۸۸۹۰۴۰۰۲ - ۸۸۹۰۶۹۰۹ - ۲۶۵۷۰۸۱۰ - ۴۴۰۲۵۸۶۰

کد تهران ۰۲۱

۱.

(۱۰ نمره)

در بشقاب ششم چند سیب قرار دارد؟



بشقاب اول



بشقاب دوم



بشقاب سوم

پاسخ :



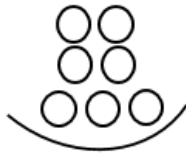
۱



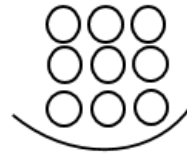
۳



۵



۷



۹



۱۱

۲.

(۱۰ نمره)

عددهای قبلی را با روش دلخواه بنویس.

..... - ۱۵ - ۱۸ - ۲۱

پاسخ :



تدریس خصوصی ریاضی به صورت حضوری و آنلاین با دبیران حرفه ای و پیگیری قدرتمند در مدرسه

۸۸۹۰۴۰۰۲ - ۸۸۹۰۶۹۰۹ - ۲۶۵۷۰۸۱۰ - ۴۴۰۲۵۸۶۰

کد تهران ۰۲۱

۳ - ۶ - ۹ - ۱۲ - ۱۵ - ۱۸ - ۲۱

۳.

(۱۰ نمره)

تعداد انگشت های دست و پای دو نفر چند تا است؟

پاسخ :

۴۰

۴.

(۱۰ نمره)

عملیات مناسب شکل زیر را انتخاب کنید.



پاسخ :

$۶ - ۴ + ۳ = ۵$



تدریس خصوصی ریاضی به صورت حضوری و آنلاین با دبیران حرفه ای و پیگیری قدرتمند در مدرسه

۴۴۰۲۵۸۶۰ - ۲۶۵۷۰۸۱۰ - ۸۸۹۰۶۹۰۹ - ۸۸۹۰۴۰۰۲

کد تهران ۰۲۱

۵.

(۱۰ نمره)

شکل بعدی در الگوی مقابل را مشخص نمایید.



پاسخ :



۶.

(۱۰ نمره)

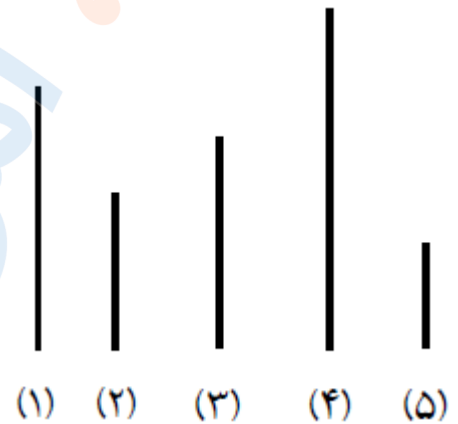


تدریس خصوصی ریاضی به صورت حضوری و آنلاین با دبیران حرفه ای و پیگیری قدرتمند در مدرسه

۸۸۹۰۴۰۰۲ - ۸۸۹۰۶۹۰۹ - ۲۶۵۷۰۸۱۰ - ۴۴۰۲۵۸۶۰

کد تهران ۰۲۱

به خط های زیر نگاه کنید:
خط شماره (۱) کوتاه تر از خط شماره است.



پاسخ :

۴

. ۷

(۱۰ نمره)

در تنگ ۴ ماهی قرمز و ۸ ماهی سفید بود. ۹ تا از ماهی ها مردند چند ماهی باقی مانده است؟

پاسخ :



تدریس خصوصی ریاضی به صورت حضوری و آنلاین با دبیران حرفه ای و پیگیری قدرتمند در مدرسه

۸۸۹۰۴۰۰۲ - ۸۸۹۰۶۹۰۹ - ۲۶۵۷۰۸۱۰ - ۴۴۰۲۵۸۶۰

کد تهران ۰۲۱

$$۴ + ۸ = \boxed{۱۲}$$

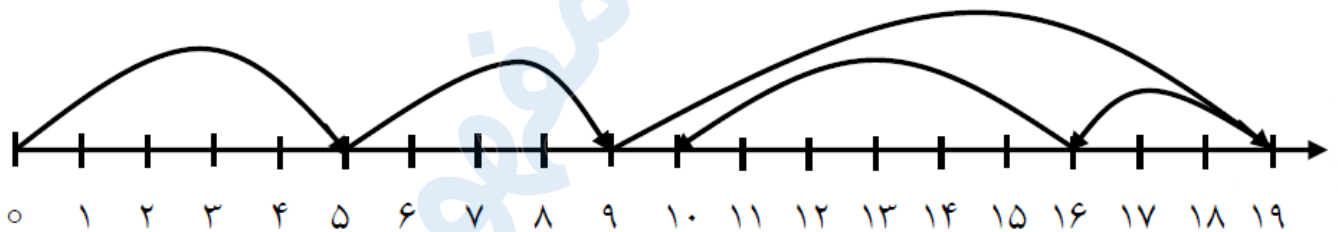
۱۲ ماهی در تنگ است.

$$۱۲ - ۹ = \boxed{۳}$$

۳ ماهی باقی مانده است.

(۱۰ نمره)

عملیات مناسب محور مقابل کدام گزینه است؟



پاسخ :

$$۵ + ۴ + ۱۰ - ۳ - ۶ = \boxed{۱۰}$$

.۹



تدریس خصوصی ریاضی به صورت حضوری و آنلاین با دبیران حرفه ای و پیگیری قدرتمند در مدرسه

۸۸۹۰۴۰۰۲ - ۸۸۹۰۶۹۰۹ - ۲۶۵۷۰۸۱۰ - ۴۴۰۲۵۸۶۰

کد تهران ۰۲۱

(۱۰ نمره)

حاصل جمع زیر چند می شود؟

$$۳۰ + ۳۰ + ۱۰ =$$

پاسخ :

$$۳۰ + ۳۰ + ۱۰ = ۷۰$$

. ۱۰

(۱۰ نمره)

در الگوی زیر شکل بعدی کدام گزینه می شود؟



پاسخ :

به ترتیب ابتدا ۲ دایره اضافه می شود، سپس یک دایره کم می شود. بنابراین شکل بعدی ۵ دایره دارد.

