



تدریس خصوصی ریاضی به صورت حضوری و آنلاین با دبیران حرفه ای و پیگیری قدرتمند در مدرسه

۸۸۹۰۴۰۰۲ - ۸۸۹۰۶۹۰۹ - ۲۶۵۷۰۸۱۰ - ۴۴۰۲۵۸۶۰

کد تهران ۰۲۱

۱.

(۱۰ نمره)


علامت مناسب را انتخاب کنید.

$$۲۰ + ۴۰ \quad \square \quad ۱۰ + ۱۰ + ۳۰$$

۲.

(۱۰ نمره)

در الگوی زیر شکل بعدی کدام شکل است؟



.....

۳.

(۱۰ نمره)




تدریس خصوصی ریاضی به صورت حضوری و آنلاین با دبیران حرفه ای و پیگیری قدرتمند در مدرسه

۸۸۹۰۴۰۰۲ - ۸۸۹۰۶۹۰۹ - ۲۶۵۷۰۸۱۰ - ۴۴۰۲۵۸۶۰

کد تهران ۰۲۱

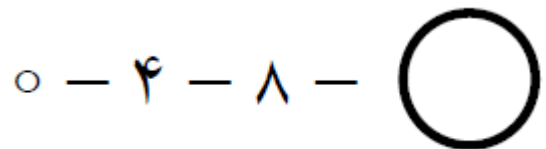
جمع مناسب شکل زیر را انتخاب کنید.



۴.

(۱۰ نمره)

عدد بعدی در الگوی زیر چند می شود؟



۵.

(۱۰ نمره)

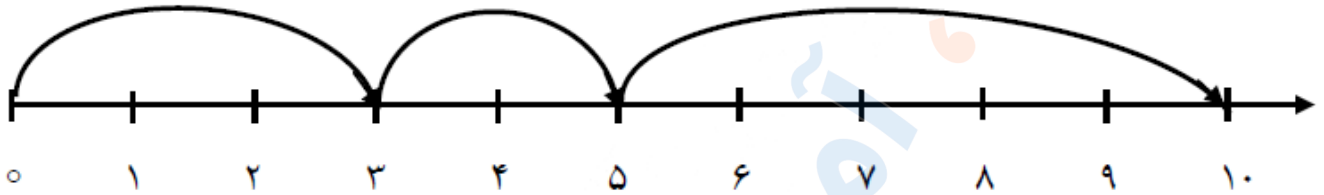


تدریس خصوصی ریاضی به صورت حضوری و آنلاین با دبیران حرفه ای و پیگیری قدرتمند در مدرسه

۸۸۹۰۴۰۰۲ - ۸۸۹۰۶۹۰۹ - ۲۶۵۷۰۸۱۰ - ۴۴۰۲۵۸۶۰

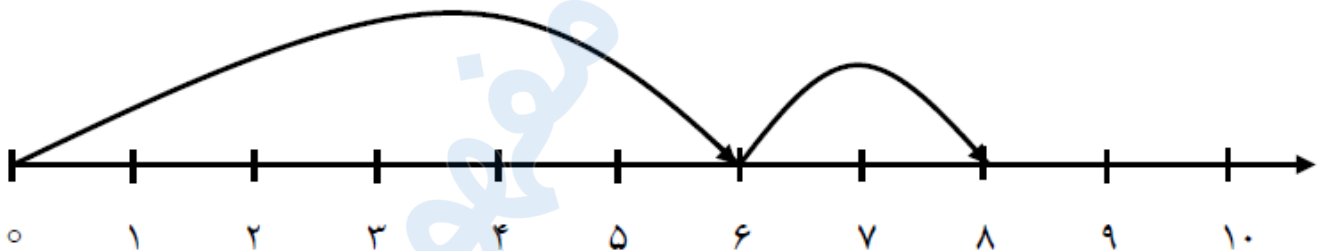
کد تهران ۰۲۱

کدام عملیات برای محور مقابل است ؟



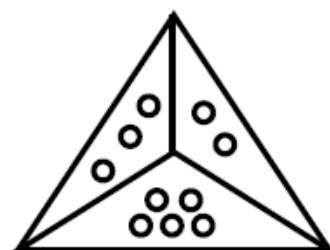
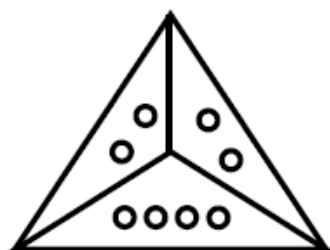
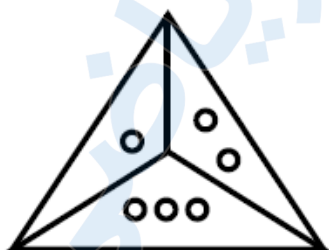
(۱۰ نمره)

کدام حاصل جمع برای محور مقابل است ؟



(۱۰ نمره)

شکل بعدی کدام است ؟



?



تدریس خصوصی ریاضی به صورت حضوری و آنلاین با دبیران حرفه ای و پیگیری قدرتمند در مدرسه

۸۸۹۰۴۰۰۲ - ۸۸۹۰۶۹۰۹ - ۲۶۵۷۰۸۱۰ - ۴۴۰۲۵۸۶۰

کد تهران ۰۲۱

. ۸

(۱۰ نمره)

علی ۸ گل دارد یکی بیشتر از گل های او چند تاست؟

. ۹

(۱۰ نمره)

سارا ۲ تا مداد دارد. پدرش هم به اندازه مدادهای سارا به او مداد می دهد. سارا چند مداد دارد؟

. ۱۰

(۱۰ نمره)

مریم خانم و همسرشان ۳ نفر مهمان دارند. چند بشقاب برای شام باید روی میز بگذارند؟