



تدریس خصوصی ریاضی به صورت حضوری و آنلاین با دبیران حرفه ای و پیگیری قدرتمند در مدرسه

۴۴۰۲۵۸۶۰ - ۲۶۵۷۰۸۱۰ - ۸۸۹۰۶۹۰۹ - ۸۸۹۰۴۰۰۲

کد تهران ۰۲۱

۱.

(۱۰ نمره)

علامت مناسب را انتخاب کنید.

$$۲۰ + ۴۰ \quad \square \quad ۱۰ + ۱۰ + ۳۰$$

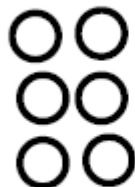
پاسخ:

$$\underbrace{۲۰ + ۴۰}_{۶۰} \quad \square \quad \underbrace{۱۰ + ۱۰ + ۳۰}_{۵۰}$$

۲.

(۱۰ نمره)

در الگوی زیر شکل بعدی کدام شکل است؟



.....

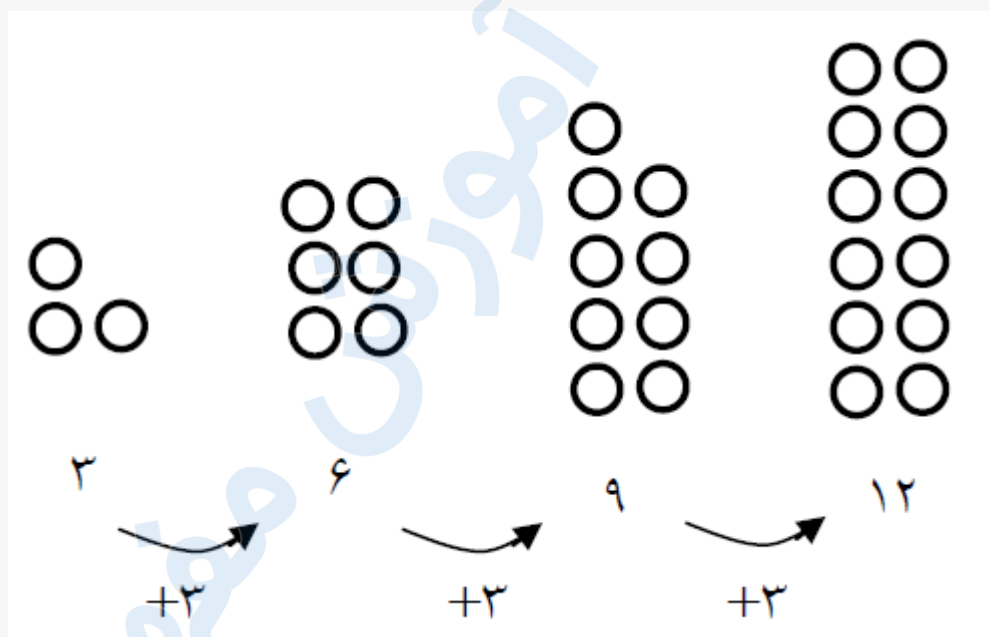


تدریس خصوصی ریاضی به صورت حضوری و آنلاین با دبیران حرفه ای و پیگیری قدرتمند در مدرسه

۸۸۹۰۴۰۰۲ - ۸۸۹۰۶۹۰۹ - ۲۶۵۷۰۸۱۰ - ۴۴۰۲۵۸۶۰

کد تهران ۰۲۱

پاسخ :



. ۳

(۱۰ نمره)




تدریس خصوصی ریاضی به صورت حضوری و آنلاین با دبیران حرفه ای و پیگیری قدرتمند در مدرسه


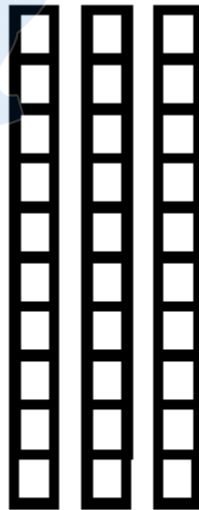
۸۸۹۰۴۰۰۲ - ۸۸۹۰۶۹۰۹ - ۲۶۵۷۰۸۱۰ - ۴۴۰۲۵۸۶۰

کد تهران ۰۲۱

جمع مناسب شکل زیر را انتخاب کنید.



پاسخ :



$$۳۰ + ۴۰ =$$

۷۰



تدریس خصوصی ریاضی به صورت حضوری و آنلاین با دبیران حرفه ای و پیگیری قدرتمند در مدرسه

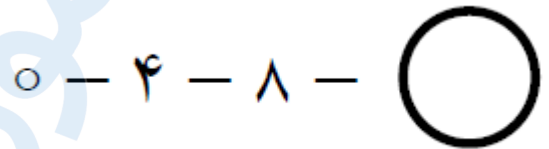
۸۸۹۰۴۰۰۲ - ۸۸۹۰۶۹۰۹ - ۲۶۵۷۰۸۱۰ - ۴۴۰۲۵۸۶۰

کد تهران ۰۲۱

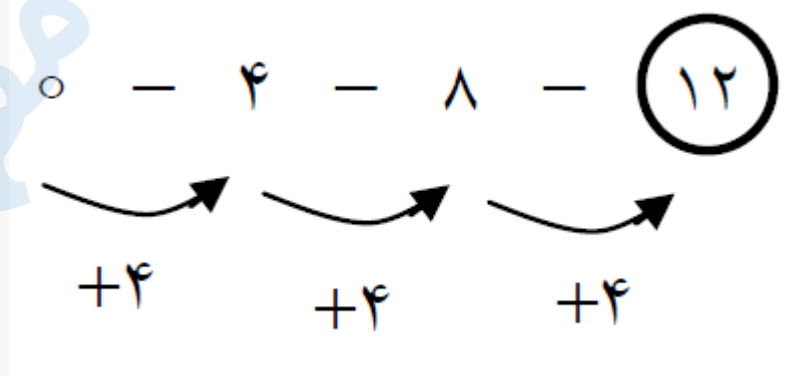
۴ .

(۱۰ نمره)

عدد بعدی در الگوی زیر چند می شود ؟



پاسخ :



۵ .

(۱۰ نمره)

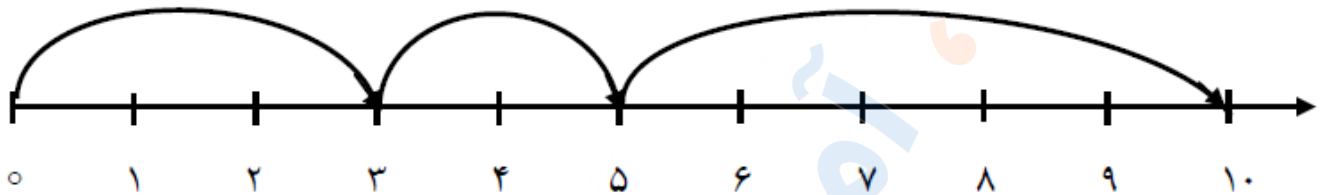


تدریس خصوصی ریاضی به صورت حضوری و آنلاین با دبیران حرفه ای و پیگیری قدرتمند در مدرسه

۸۸۹۰۴۰۰۲ - ۸۸۹۰۶۹۰۹ - ۲۶۵۷۰۸۱۰ - ۴۴۰۲۵۸۶۰

کد تهران ۰۲۱

کدام عملیات برای محور مقابل است ؟

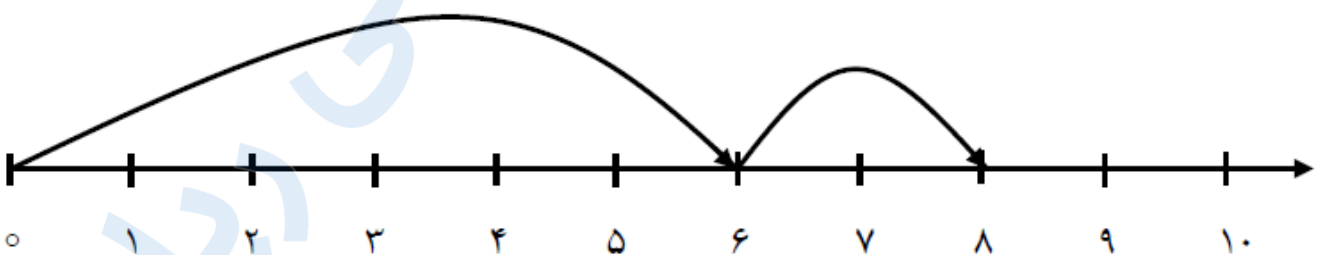


پاسخ :

$$۳+۲+۵ = \boxed{۱۰}$$

(۱۰ نمره)

کدام حاصل جمع برای محور مقابل است ؟



پاسخ :

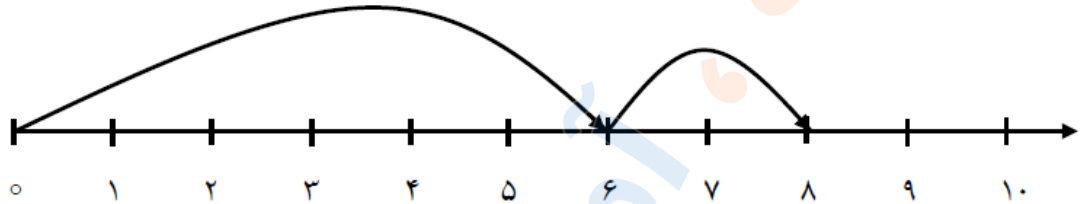


تدریس خصوصی ریاضی به صورت حضوری و آنلاین با دبیران حرفه ای و پیگیری قدرتمند در مدرسه

۸۸۹۰۴۰۰۲ - ۸۸۹۰۶۹۰۹ - ۲۶۵۷۰۸۱۰ - ۴۴۰۲۵۸۶۰

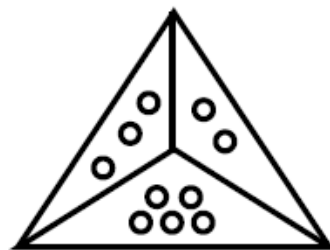
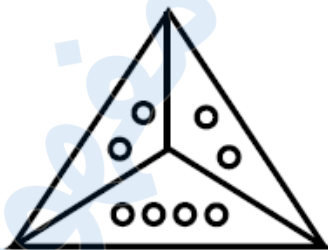
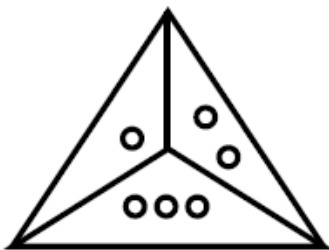
کد تهران ۰۲۱

$6 + 2 = \boxed{8}$



(۱۰ نمره)

شکل بعدی کدام است؟

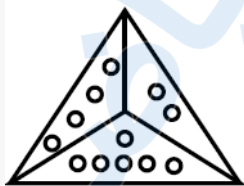


?

پاسخ :

در هر مثلث به تعداد دایره‌هایی که در دو قسمت بالا کشیده شده، در قسمت پایین نیز دایره رسم شده است.

بنابراین شکل (د) صحیح است.



زیرا $\rightarrow 4 + 2 = 6$



تدریس خصوصی ریاضی به صورت حضوری و آنلاین با دبیران حرفه ای و پیگیری قدرتمند در مدرسه

۴۴۰۲۵۸۶۰ - ۲۶۵۷۰۸۱۰ - ۸۸۹۰۶۹۰۹ - ۸۸۹۰۴۰۰۲

کد تهران ۰۲۱

. ۸

(۱۰ نمره)

علی ۸ گل دارد یکی بیشتر از گل های او چند تاست؟

پاسخ :

۹

. ۹

(۱۰ نمره)

سارا ۲ تا مداد دارد. پدرش هم به اندازه مدادهای سارا به او مداد می دهد. سارا چند مداد دارد؟

پاسخ :

$۲+۲ = ۴$

. ۱۰

(۱۰ نمره)

مریم خانم و همسرشان ۳ نفر مهمان دارند. چند بشقاب برای شام باید روی میز بگذارند؟

پاسخ :



تدریس خصوصی ریاضی به صورت حضوری و آنلاین با دبیران حرفه ای و پیگیری قدرتمند در مدرسه

۸۸۹۰۴۰۰۲ - ۸۸۹۰۶۹۰۹ - ۲۶۵۷۰۸۱۰ - ۴۴۰۲۵۸۶۰

کد تهران ۰۲۱

۵ عدد بشقاب برای مریم خانم و همسرشان و ۳ نفر مهمان لازم است.