



تدریس خصوصی ریاضی به صورت حضوری و آنلاین با دبیران حرفه ای و پیگیری قدرتمند در مدرسه

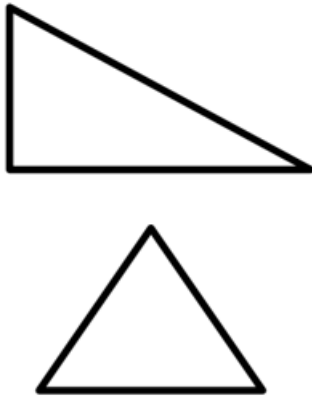
۴۴۰۲۵۸۶۰ - ۲۶۵۷۰۸۱۰ - ۸۸۹۰۶۹۰۹ - ۸۸۹۰۴۰۰۲

کد تهران ۰۲۱

۱.

(۱۰ نمره)

تفاوت و شباهت دو شکل زیر را بنویسید. (الناز منصف)



پاسخ :

هر دو شکل مثلث هستند و از سه ضلع و سه زاویه داخلی تشکیل شده‌اند اما با این تفاوت که شکل پایین متساوی‌الاضلاع بود و سه ضلع برابر دارد در صورتی که شکل بالا قائم‌الزاویه است.

۲.

(۱۰ نمره)

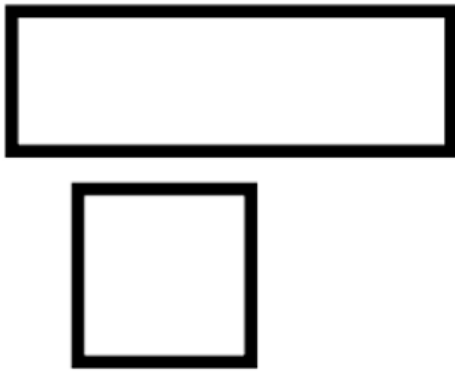


تدریس خصوصی ریاضی به صورت حضوری و آنلاین با دبیران حرفه ای و پیگیری قدرتمند در مدرسه

۴۴۰۲۵۸۶۰ - ۲۶۵۷۰۸۱۰ - ۸۸۹۰۶۹۰۹ - ۸۸۹۰۴۰۰۲

کد تهران ۰۲۱

شباهت شکل‌های زیر را بنویسید. (دبستان سما - ۱۴۰۱)



پاسخ :

هر دو شکل ۴ ضلع و ۴ زاویه دارند.

(۱۰ نمره)

خط تقارن شکل زیر را رسم کنید. (دبستان سما - ۱۴۰۱)






تدریس خصوصی ریاضی به صورت حضوری و آنلاین با دبیران حرفه ای و پیگیری قدرتمند در مدرسه

۸۸۹۰۴۰۰۲ - ۸۸۹۰۶۹۰۹ - ۲۶۵۷۰۸۱۰ - ۴۴۰۲۵۸۶۰

کد تهران ۰۲۱


پاسخ :




. ۴

(۱۰ نمره)

کدام یک از شکل‌های زیر خط تقارن ندارد؟ (دبستان سما - ۱۴۰۱)



پاسخ :





تدریس خصوصی ریاضی به صورت حضوری و آنلاین با دبیران حرفه ای و پیگیری قدرتمند در مدرسه

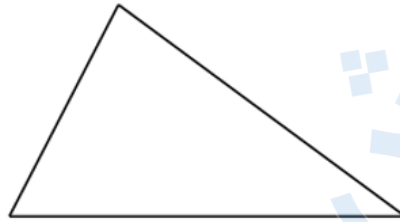
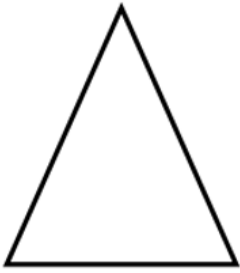
۴۴۰۲۵۸۶۰ - ۲۶۵۷۰۸۱۰ - ۸۸۹۰۶۹۰۹ - ۸۸۹۰۴۰۰۲

کد تهران ۰۲۱

۵.

(۱۰ نمره)

تفاوت شکل‌های زیر را بنویسید. (دبستان روش نوین - دی ۱۴۰۲)



پاسخ:

تفاوت: مثلث اول دارای سه ضلع برابر می‌باشد اما این در مثلث دوم صادق نیست.

۶.

(۱۰ نمره)

شکل پنج ضلعی را رسم کرده و خط تقارنی برای آن بیابید. (سرای دانش - خرداد ۱۴۰۲)

پاسخ:



تدریس خصوصی ریاضی به صورت حضوری و آنلاین با دبیران حرفه ای و پیگیری قدرتمند در مدرسه

۸۸۹۰۴۰۰۲ - ۸۸۹۰۶۹۰۹ - ۲۶۵۷۰۸۱۰ - ۴۴۰۲۵۸۶۰


کد تهران ۰۲۱



. ۷

(۱۰ نمره)

نام شکل زیر را بنویسید. (دبستان فدک نور - آذرشهر ۱۴۰۰)



پاسخ :

مثلث

. ۸



تدریس خصوصی ریاضی به صورت حضوری و آنلاین با دبیران حرفه ای و پیگیری قدرتمند در مدرسه

۴۴۰۲۵۸۶۰ - ۲۶۵۷۰۸۱۰ - ۸۸۹۰۶۹۰۹ - ۸۸۹۰۴۰۰۲

کد تهران ۰۲۱

(۱۰ نمره)

درستی یا نادرستی جمله زیر را مشخص کنید. (دبستان سرای دانش الغدیر - تهران ۱۴۰۲)  
«در شکل‌های هندسی، تعداد ضلع‌ها و تعداد گوشه‌ها با هم برابر است.»

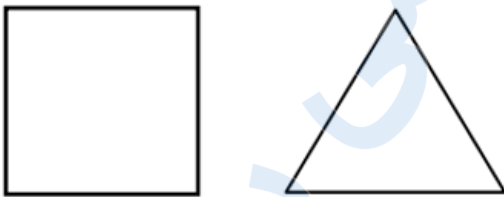
پاسخ:

درست

.۹

(۱۰ نمره)

تفاوت شکل‌های زیر را بنویسید. (دبستان شهید پورجندقی - رفسنجان ۱۴۰۲)



پاسخ:

مربع ۴ ضلع و ۴ گوشه دارد ولی مثلث ۳ ضلع و ۳ گوشه دارد.



تدریس خصوصی ریاضی به صورت حضوری و آنلاین با دبیران حرفه ای و پیگیری قدرتمند در مدرسه

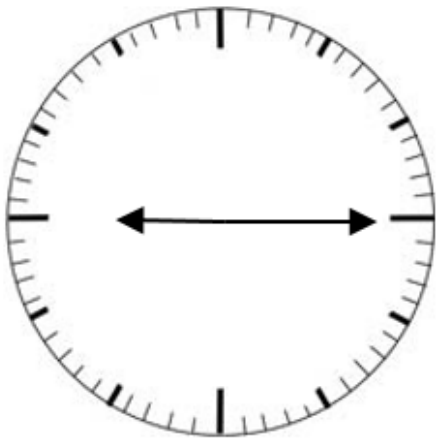
۴۴۰۲۵۸۶۰ - ۲۶۵۷۰۸۱۰ - ۸۸۹۰۶۹۰۹ - ۸۸۹۰۴۰۰۲

کد تهران ۰۲۱

۱۰.

(۱۰ نمره)

ساعت نشان داده شده را بیابید.



پاسخ:

ساعت: ۹ و ۱۵ دقیقه یا ۹ و ربع