



تدریس خصوصی ریاضی به صورت حضوری و آنلاین با دبیران حرفه ای و پیگیری قدرتمند در مدرسه

۸۸۹۰۴۰۰۲ - ۸۸۹۰۶۹۰۹ - ۲۶۵۷۰۸۱۰ - ۴۴۰۲۵۸۶۰

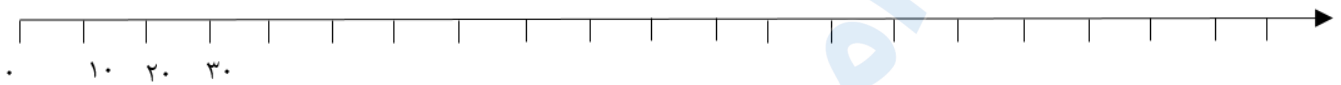
کد تهران ۰۲۱

۱.

(۱۰ نمره)

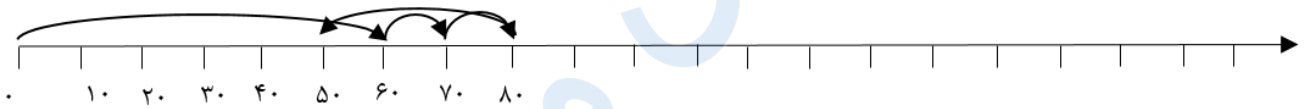
$$۶۰ + ۲۰ - ۳۰ =$$

روی محور نشان دهید و جواب را بنویسید. (محور را کامل کنید).



پاسخ :

$$۶۰ + ۲۰ - ۳۰ = ۵۰$$



۲.

(۱۰ نمره)

جاهای خالی را پر کنید.

$$۱۰ - ۲۰ - ۳۰ - \dots - \dots - \dots$$

پاسخ :

$$۱۰ - ۲۰ - ۳۰ - ۴۰ - ۵۰ - ۶۰ - ۷۰ - ۸۰ - ۹۰$$



تدریس خصوصی ریاضی به صورت حضوری و آنلاین با دبیران حرفه ای و پیگیری قدرتمند در مدرسه

۸۸۹۰۴۰۰۲ - ۸۸۹۰۶۹۰۹ - ۲۶۵۷۰۸۱۰ - ۴۴۰۲۵۸۶۰

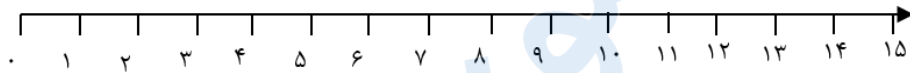
کد تهران ۰۲۱

۳.

(۱۰ نمره)

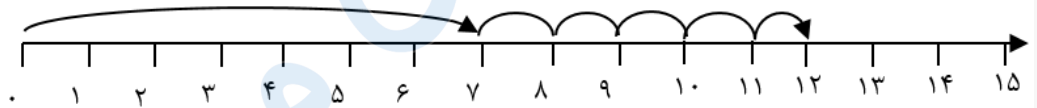
با کمک محور جواب دهید.

$7 + 5 =$



پاسخ:

$7 + 5 = 12$



۴.

(۱۰ نمره)



آلگورا ادامه بده

پاسخ:





تدریس خصوصی ریاضی به صورت حضوری و آنلاین با دبیران حرفه ای و پیگیری قدرتمند در مدرسه

۸۸۹۰۴۰۰۲ - ۸۸۹۰۶۹۰۹ - ۲۶۵۷۰۸۱۰ - ۴۴۰۲۵۸۶۰

کد تهران ۰۲۱

۵.

(۱۰ نمره)

علی زیر میز قایم شده بود که ۴ نفر دور میز نشستند. علی چند پا در زیر میز می بیند؟

پاسخ :


۸

۶.

(۱۰ نمره)

۳ تا فیل و ۲ زرافه در یک باغ وحش بودند. اگر از هر نوع حیوان ، یکی کم شود، چند حیوان می ماند؟

پاسخ :



۷.

(۱۰ نمره)




تدریس خصوصی ریاضی به صورت حضوری و آنلاین با دبیران حرفه ای و پیگیری قدرتمند در مدرسه

۸۸۹۰۴۰۰۲ - ۸۸۹۰۶۹۰۹ - ۲۶۵۷۰۸۱۰ - ۴۴۰۲۵۸۶۰

کد تهران ۰۲۱

آقای احمدی و همسرشان ۳ نفر مهمان دارند و اگر بخواهند دور میز شام بخورند ، چند بشقاب و قاشق و چنگال روی میز چیده است؟

پاسخ :



۱۵ تا

۸ .

(۱۰ نمره)

در جای خالی کدام عدد قرار می گیرد؟

$$\square - ۱۲ - ۱۶ - ۲۰$$

پاسخ :



تدریس خصوصی ریاضی به صورت حضوری و آنلاین با دبیران حرفه ای و پیگیری قدرتمند در مدرسه

۴۴۰۲۵۸۶۰ - ۲۶۵۷۰۸۱۰ - ۸۸۹۰۶۹۰۹ - ۸۸۹۰۴۰۰۲

کد تهران ۰۲۱

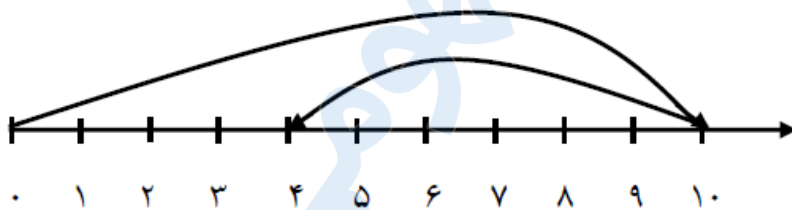


۹.

(۱۰ نمره)

سارا ۱۰ گل خرید. ۶ تا از گل ها سفید و بقیه گل ها قرمز بودند سارا چند گل قرمز خرید؟ ( به کمک محور)

پاسخ :



سارا ۴ گل قرمز خریده است.

$$10 - 6 = 4$$

۴

۱۰.

(۱۰ نمره)



تدریس خصوصی ریاضی به صورت حضوری و آنلاین با دبیران حرفه ای و پیگیری قدرتمند در مدرسه

۸۸۹۰۴۰۰۲ - ۸۸۹۰۶۹۰۹ - ۲۶۵۷۰۸۱۰ - ۴۴۰۲۵۸۶۰

کد تهران ۰۲۱

علامت مناسب را انتخاب کنید.

$$۲۰ + ۴۰ \quad \square \quad ۱۰ + ۱۰ + ۳۰$$

پاسخ :

$$\underbrace{۲۰ + ۴۰}_{۶۰} \quad \square \quad \underbrace{۱۰ + ۱۰ + ۳۰}_{۵۰}$$