



تدریس خصوصی ریاضی به صورت حضوری و آنلاین با دبیران حرفه ای و پیگیری قدرتمند در مدرسه

۸۸۹۰۴۰۰۲ - ۸۸۹۰۶۹۰۹ - ۲۶۵۷۰۸۱۰ - ۴۴۰۲۵۸۶۰

کد تهران ۰۲۱

۱.

(۱۰ نمره)

با روش دلخواه جواب دهید.

$$\_\_\_ + 5 = 8$$

پاسخ:

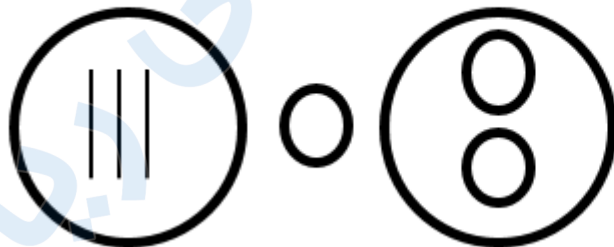
$$3 + 5 = 8$$



۲.

(۱۰ نمره)

مقایسه کنید.



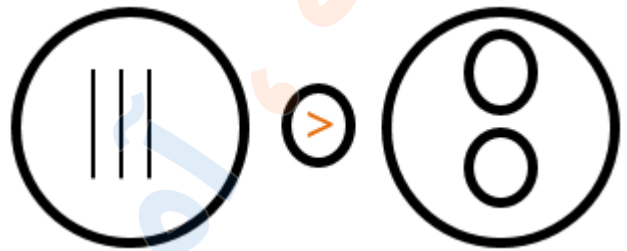
پاسخ:



تدریس خصوصی ریاضی به صورت حضوری و آنلاین با دبیران حرفه ای و پیگیری قدرتمند در مدرسه

۸۸۹۰۴۰۰۲ - ۸۸۹۰۶۹۰۹ - ۲۶۵۷۰۸۱۰ - ۴۴۰۲۵۸۶۰

کد تهران ۰۲۱



۳.

(۱۰ نمره)

جاهای خالی را با چوبخط پر کنید.



پاسخ :



۴.

(۱۰ نمره)



تدریس خصوصی ریاضی به صورت حضوری و آنلاین با دبیران حرفه ای و پیگیری قدرتمند در مدرسه

۸۸۹۰۴۰۰۲ - ۸۸۹۰۶۹۰۹ - ۲۶۵۷۰۸۱۰ - ۴۴۰۲۵۸۶۰

کد تهران ۰۲۱

برای شکل زیر تفریق مناسب را انتخاب کنید.



پاسخ :

$$۶ - ۵ = ۱$$

. ۵

(۱۰ نمره)

سه تا بیش تر از مکعب های زیر چند تا است؟



پاسخ :

$$۵ + ۳ = ۸$$

. ۶

(۱۰ نمره)

حاصل تفریق زیر چند می شود؟

$$۹ - ۷ = \square$$



تدریس خصوصی ریاضی به صورت حضوری و آنلاین با دبیران حرفه ای و پیگیری قدرتمند در مدرسه

۴۴۰۲۵۸۶۰ - ۲۶۵۷۰۸۱۰ - ۸۸۹۰۶۹۰۹ - ۸۸۹۰۴۰۰۲

کد تهران ۰۲۱

پاسخ :

۲

۷ .

(۱۰ نمره)

عملیات مناسب شکل زیر را انتخاب کنید.



پاسخ :

$$(۳+۲)+(۱+۲)=۸$$

۸ .

(۱۰ نمره)

کدام یک از اعداد زیر می تواند در جای خالی قرار بگیرد تا تساوی صحیح باشد؟





تدریس خصوصی ریاضی به صورت حضوری و آنلاین با دبیران حرفه ای و پیگیری قدرتمند در مدرسه

۸۸۹۰۴۰۰۲ - ۸۸۹۰۶۹۰۹ - ۲۶۵۷۰۸۱۰ - ۴۴۰۲۵۸۶۰

کد تهران ۰۲۱

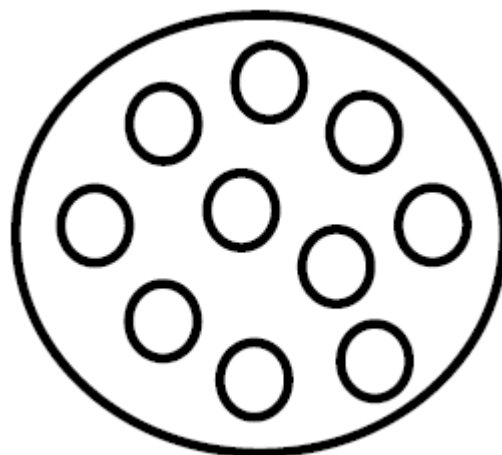
پاسخ :

$۸ < ۱۲$

۹.

(۱۰ نمره)

یکی کمتر از عددی که در شکل نشان داده شده است را مشخص کنید.



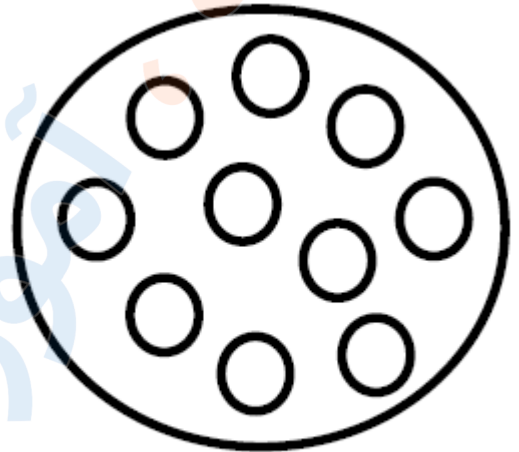
پاسخ :



تدریس خصوصی ریاضی به صورت حضوری و آنلاین با دبیران حرفه ای و پیگیری قدرتمند در مدرسه

۴۴۰۲۵۸۶۰ - ۲۶۵۷۰۸۱۰ - ۸۸۹۰۶۹۰۹ - ۸۸۹۰۴۰۰۲

کد تهران ۰۲۱



۹

۱۰.

(۱۰ نمره)

طول ضلع مداد برابر با چند مربع است؟



پاسخ :

۶