





تدریس خصوصی ریاضی به صورت حضوری و آنلاین با دبیران حرفه ای و پیگیری قدرتمند در مدرسه

۸۸۹۰۴۰۰۲ - ۸۸۹۰۶۹۰۹ - ۲۶۵۷۰۸۱۰ - ۴۴۰۲۵۸۶۰

کد تهران ۰۲۱

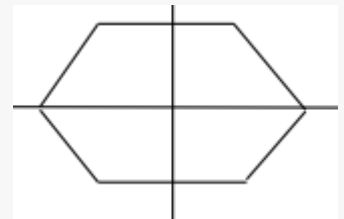
۳.

(۱۰ نمره)

اگر برای شکل زیر خط تقارن رسم کنیم کدام گزینه صحیح است؟



پاسخ:



۴.

(۱۰ نمره)

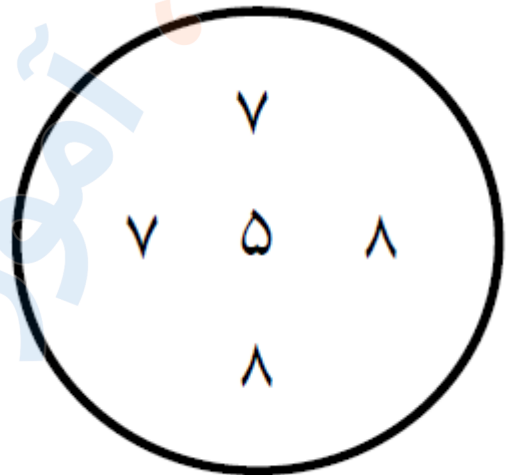


تدریس خصوصی ریاضی به صورت حضوری و آنلاین با دبیران حرفه ای و پیگیری قدرتمند در مدرسه

۸۸۹۰۴۰۰۲ - ۸۸۹۰۶۹۰۹ - ۲۶۵۷۰۸۱۰ - ۴۴۰۲۵۸۶۰

کد تهران ۰۲۱

حاصل جمع اعداد درون دایره را بطور ذهنی به دست آورید .



پاسخ :

$$\begin{array}{c} 15 \quad 15 \\ \frown \quad \frown \\ 7 + 8 + 7 + 8 + 5 = 35 \end{array}$$

(۱۰ نمره)

. ۵

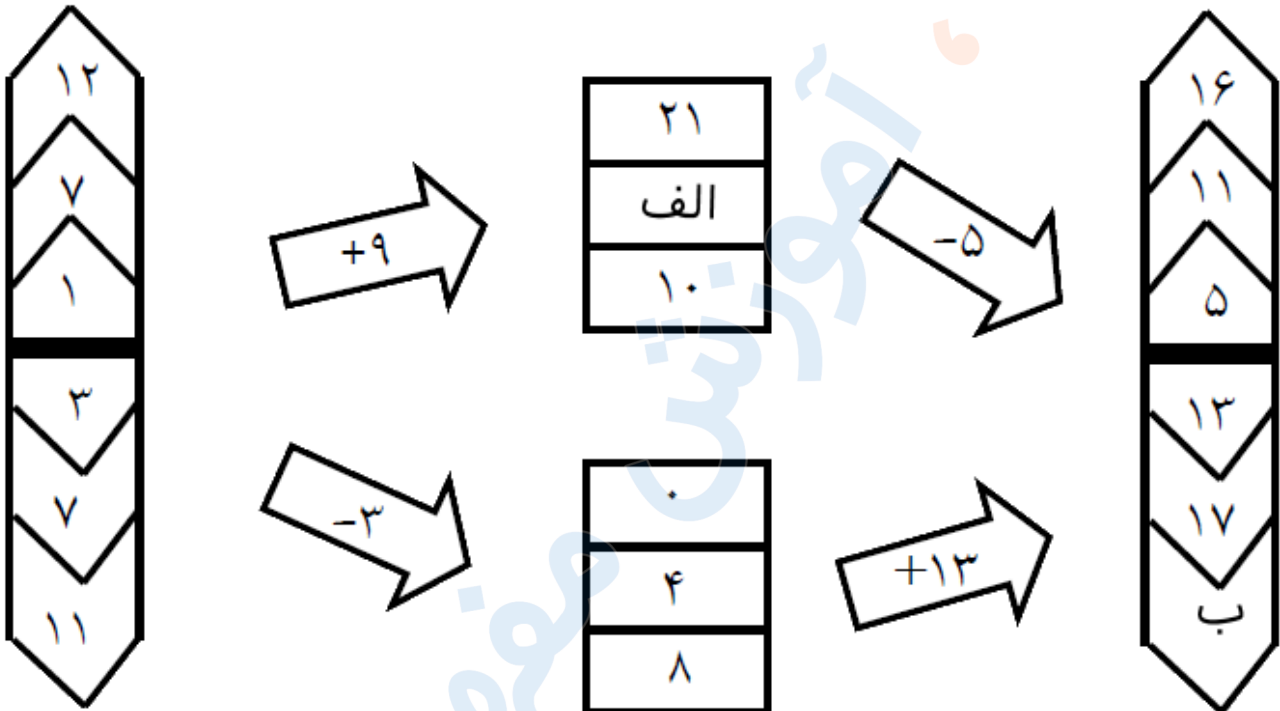


تدریس خصوصی ریاضی به صورت حضوری و آنلاین با دبیران حرفه ای و پیگیری قدرتمند در مدرسه

۸۸۹۰۴۰۰۲ - ۸۸۹۰۶۹۰۹ - ۲۶۵۷۰۸۱۰ - ۴۴۰۲۵۸۶۰

کد تهران ۰۲۱

در شکل زیر به جای ( الف و ب ) چه اعدادی قرار دهیم تا جدول صحیح باشد ؟



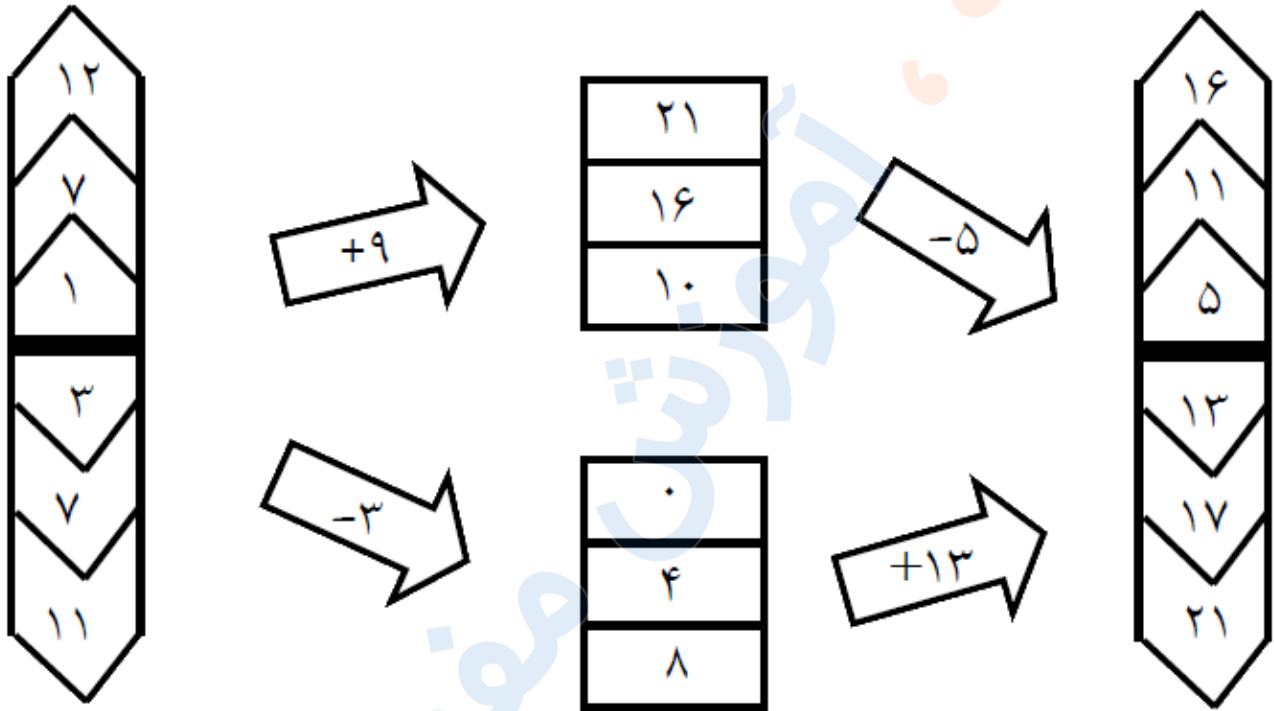
پاسخ :



تدریس خصوصی ریاضی به صورت حضوری و آنلاین با دبیران حرفه ای و پیگیری قدرتمند در مدرسه

۸۸۹۰۴۰۰۲ - ۸۸۹۰۶۹۰۹ - ۲۶۵۷۰۸۱۰ - ۴۴۰۲۵۸۶۰

کد تهران ۰۲۱



۶.

(۱۰ نمره)

به چند حالت می توان با سکه های ۱۰ و ۱۰۰ ریالی ، ۲۵۰ ریال درست کرد؟

پاسخ :



تدریس خصوصی ریاضی به صورت حضوری و آنلاین با دبیران حرفه ای و پیگیری قدرتمند در مدرسه

۸۸۹۰۴۰۰۲ - ۸۸۹۰۶۹۰۹ - ۲۶۵۷۰۸۱۰ - ۴۴۰۲۵۸۶۰

کد تهران ۰۲۱

۱۰۰	۱۰
۲	۵
۱	۱۵
.	۲۵

. ۷

(۱۰ نمره)

اگر اعداد زیر را با هم جمع کنیم ، چه عددی را خواهیم داشت؟



پاسخ :

$$۱۰۰۰ + ۴۰۰ + ۲۰ + ۳ = ۱۴۲۳$$

. ۸

(۱۰ نمره)

۷ کیلوگرم و ۳۶۰ گرم یعنی ..... گرم



تدریس خصوصی ریاضی به صورت حضوری و آنلاین با دبیران حرفه ای و پیگیری قدرتمند در مدرسه

۴۴۰۲۵۸۶۰ - ۲۶۵۷۰۸۱۰ - ۸۸۹۰۶۹۰۹ - ۸۸۹۰۴۰۰۲

کد تهران ۰۲۱

پاسخ :

۷ کیلوگرم و ۳۶۰ گرم یعنی **۷۳۶۰** گرم.

. ۹

(۱۰ نمره)

۴ کیلوگرم و ۹۰ گرم می شود ..... گرم .

پاسخ :

۴ کیلوگرم و ۹۰ گرم می شود ۴۰۹۰ گرم .

. ۱۰

(۱۰ نمره)

بزرگترین و کوچکترین عدد چهار رقمی بدون تکرار ارقام را بنویسید.

پاسخ :

بزرگترین: ۹۸۷۶

کوچکترین: ۱۰۲۳