



تدریس خصوصی ریاضی به صورت حضوری و آنلاین با دبیران حرفه ای و پیگیری قدرتمند در مدرسه

۴۴۰۲۵۸۶۰ - ۲۶۵۷۰۸۱۰ - ۸۸۹۰۶۹۰۹ - ۸۸۹۰۴۰۰۲

کد تهران ۰۲۱

۱.

(۳ نمره)

با توجه به تعداد چوب خط ها، گزینه صحیح را انتخاب کنید.



ب.



الف.



د.

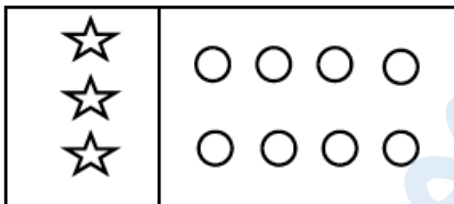


ج.

۲.

(۳ نمره)

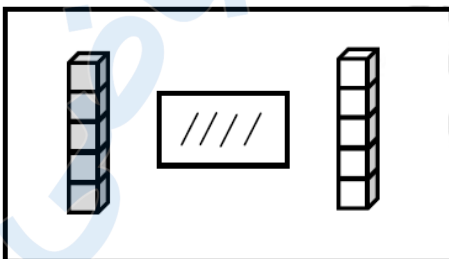
به تعداد شکل های سمت چپ، از دایره های سمت راست رنگ کن.



۳.

(۳ نمره)

از چینه های رنگی به تعداد چوب خط ها خط بزن. به تعداد باقی مانده از چینه های سمت راست رنگ کن:

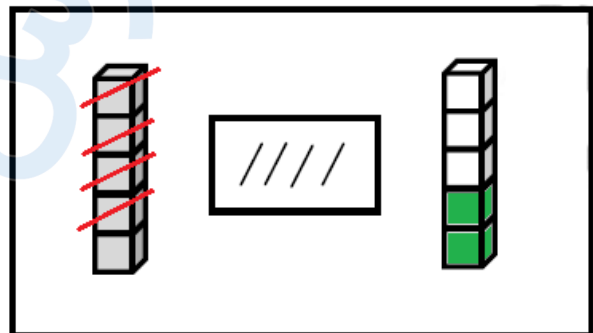
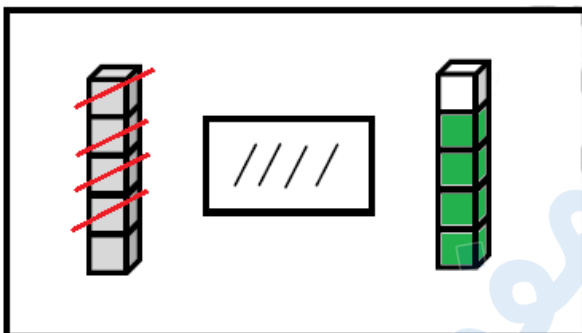
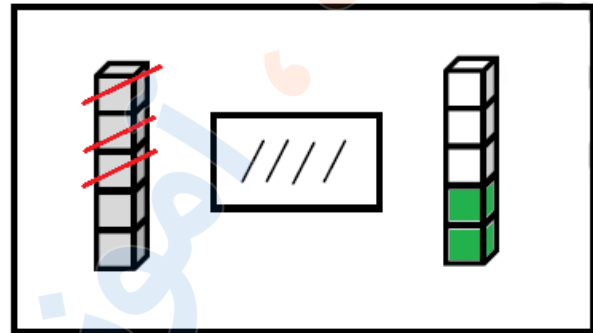
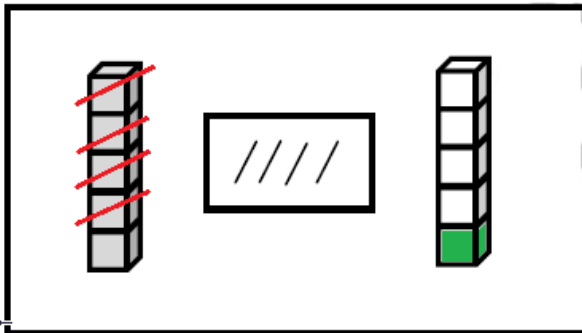




تدریس خصوصی ریاضی به صورت حضوری و آنلاین با دبیران حرفه ای و پیگیری قدرتمند در مدرسه

۸۸۹۰۴۰۰۲ - ۸۸۹۰۶۹۰۹ - ۲۶۵۷۰۸۱۰ - ۴۴۰۲۵۸۶۰

کد تهران ۰۲۱



الف .

ب .

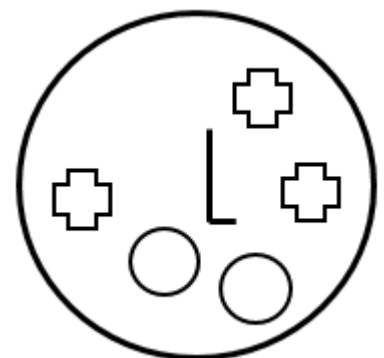
ج .

د .

۴ .

(۳ نمره)

شکلی که مشابهی ندارد را مشخص کنید.





تدریس خصوصی ریاضی به صورت حضوری و آنلاین با دبیران حرفه ای و پیگیری قدرتمند در مدرسه

۴۴۰۲۵۸۶۰ - ۲۶۵۷۰۸۱۰ - ۸۸۹۰۶۹۰۹ - ۸۸۹۰۴۰۰۲

کد تهران ۰۲۱



ب .



الف .



ج .

۵ .

(۵ نمره)





شکل مناسب را وصل کن.



۶ .

(۵ نمره)



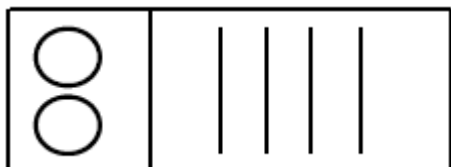
به شکل‌ها دو تا  اضافه کن و چوب خط بکش.



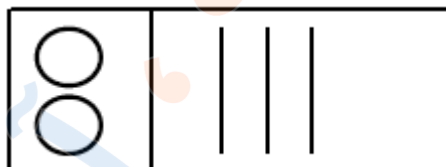
تدریس خصوصی ریاضی به صورت حضوری و آنلاین با دبیران حرفه ای و پیگیری قدرتمند در مدرسه

۴۴۰۲۵۸۶۰ - ۲۶۵۷۰۸۱۰ - ۸۸۹۰۶۹۰۹ - ۸۸۹۰۴۰۰۲

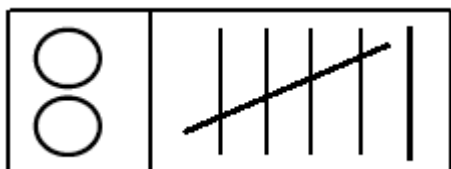
کد تهران ۰۲۱



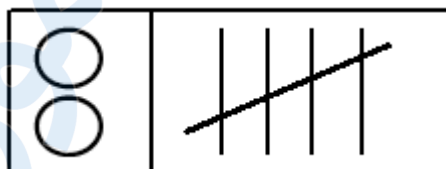
ب .



الف .



د .

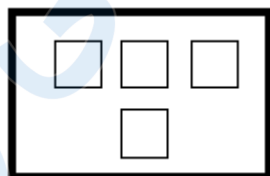
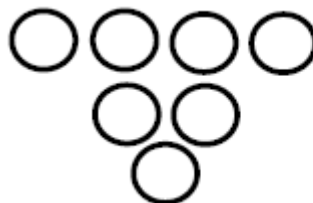


ج .

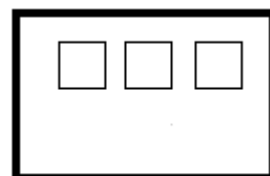
۷ .

(۵ نمره)

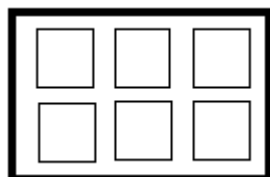
به اندازه چوب خط ها از دایره ها خط بزنید. سپس یک واحد به تعداد باقی مانده اضافه کنید. حاصل چند مربع است؟



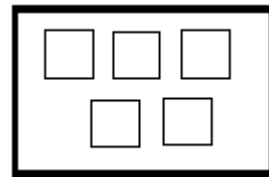
ب .



الف .



د .



ج .



تدریس خصوصی ریاضی به صورت حضوری و آنلاین با دبیران حرفه ای و پیگیری قدرتمند در مدرسه

۸۸۹۰۴۰۰۲ - ۸۸۹۰۶۹۰۹ - ۲۶۵۷۰۸۱۰ - ۴۴۰۲۵۸۶۰

کد تهران ۰۲۱

۸ .

(۵ نمره)

کدام دسته از شکل های زیر الگو هستند ؟



۹ .

(۵ نمره)

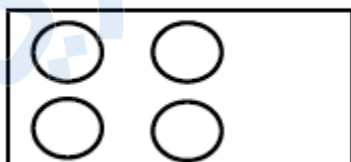
شکل های قبل و بعد را بکش.



۱۰ .

(۵ نمره)

به شکل های یکی  اضافه کن و رنگ کن.





تدریس خصوصی ریاضی به صورت حضوری و آنلاین با دبیران حرفه ای و پیگیری قدرتمند در مدرسه

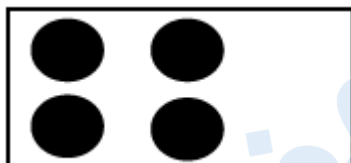
۴۴۰۲۵۸۶۰ - ۲۶۵۷۰۸۱۰ - ۸۸۹۰۶۹۰۹ - ۸۸۹۰۴۰۰۲

کد تهران ۰۲۱


۱۱.

(۵ نمره)

به شکل‌های یکی  اضافه کن و رنگ کن.




ب.



الف.



د.



ج.

۱۲.

(۵ نمره)

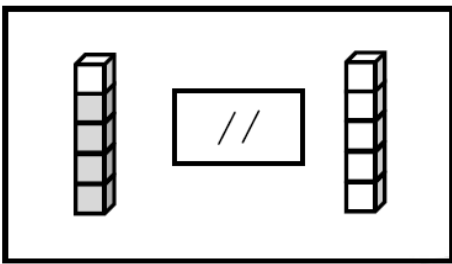


تدریس خصوصی ریاضی به صورت حضوری و آنلاین با دبیران حرفه ای و پیگیری قدرتمند در مدرسه

۴۴۰۲۵۸۶۰ - ۲۶۵۷۰۸۱۰ - ۸۸۹۰۶۹۰۹ - ۸۸۹۰۴۰۰۲

کد تهران ۰۲۱

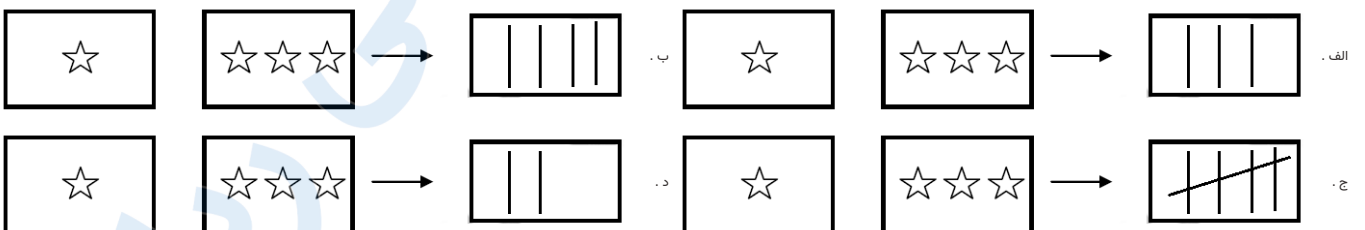
از چینه‌های رنگی به تعداد چوب‌خطها خط بزن. به تعداد باقی‌مانده از چینه‌های سمت راست رنگ کن:



۱۳.

(۵ نمره)

با کشیدن چوب‌خط بگو شکل‌های سمت راست و چپ با هم چندتا است؟



۱۴.

(۵ نمره)

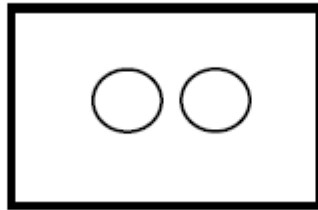
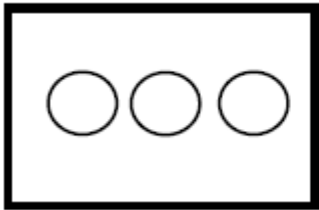


تدریس خصوصی ریاضی به صورت حضوری و آنلاین با دبیران حرفه ای و پیگیری قدرتمند در مدرسه

۸۸۹۰۴۰۰۲ - ۸۸۹۰۶۹۰۹ - ۲۶۵۷۰۸۱۰ - ۴۴۰۲۵۸۶۰

کد تهران ۰۲۱

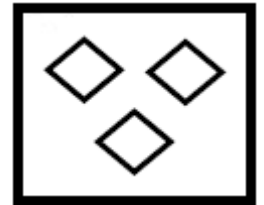
با کشیدن چوب خط بگو شکل های سمت راست و چپ با هم چندتا است؟



۱۵ .

(۵ نمره)

یک واحد از شکل کم کنید و حاصل را با عدد مشخص کنید.



الف . ۱

ج . ۳

ب . ۲

د . ۴

۱۶ .

(۵ نمره)

در جای خالی مقابل چه عددی قرار می گیرد؟

۱, ۲, — —, ۴, ۵

الف . ۲

ج . ۶

ب . ۳

د . ۱



تدریس خصوصی ریاضی به صورت حضوری و آنلاین با دبیران حرفه ای و پیگیری قدرتمند در مدرسه

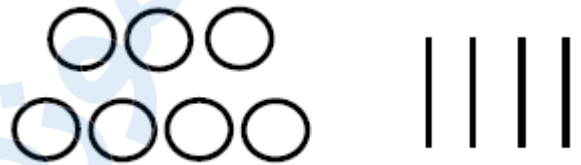
۸۸۹۰۴۰۰۲ - ۸۸۹۰۶۹۰۹ - ۲۶۵۷۰۸۱۰ - ۴۴۰۲۵۸۶۰

کد تهران ۰۲۱

۱۷ .

(۵ نمره)

اگر به اندازه چوب خط ها از دایره ها خط بزنید، حاصل چند دایره است؟



ب . ۴

د . ۰


الف . ۳

ج . ۲

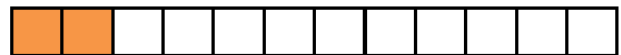
۱۸ .

(۵ نمره)

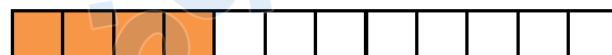
اگر به تعداد شکل یک واحد اضافه کنیم و مربع ها را رنگ بزنیم کدام گزینه مربع های رنگ زده را نشان می دهد ؟




ب .



الف .



د .



ج .

۱۹ .



تدریس خصوصی ریاضی به صورت حضوری و آنلاین با دبیران حرفه ای و پیگیری قدرتمند در مدرسه

۸۸۹۰۴۰۰۲ - ۸۸۹۰۶۹۰۹ - ۲۶۵۷۰۸۱۰ - ۴۴۰۲۵۸۶۰

کد تهران ۰۲۱

(۱۸ نمره)

جاهای خالی را پر کنید.

ب.

الف.

د.

ج.