



تدریس خصوصی ریاضی به صورت حضوری و آنلاین با دبیران حرفه ای و پیگیری قدرتمند در مدرسه


۴۴۰۲۵۸۶۰ - ۲۶۵۷۰۸۱۰ - ۸۸۹۰۶۹۰۹ - ۸۸۹۰۴۰۰۲

کد تهران ۰۲۱

۱.

(۳ نمره)

با توجه به تعداد چوب خط ها، گزینه صحیح را انتخاب کنید.



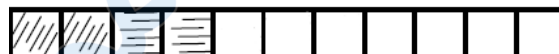
ب.



الف.



د.



ج.

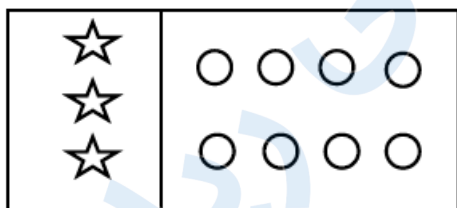
پاسخ :



۲.

(۳ نمره)

به تعداد شکل های سمت چپ، از دایره های سمت راست رنگ کن.



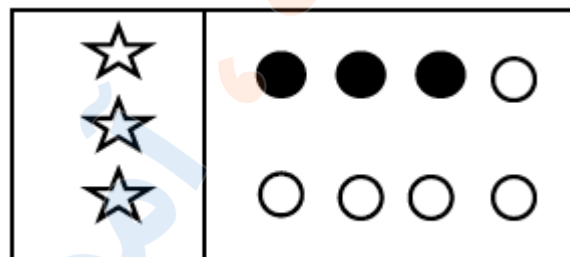
پاسخ :



تدریس خصوصی ریاضی به صورت حضوری و آنلاین با دبیران حرفه ای و پیگیری قدرتمند در مدرسه

۸۸۹۰۴۰۰۲ - ۸۸۹۰۶۹۰۹ - ۲۶۵۷۰۸۱۰ - ۴۴۰۲۵۸۶۰

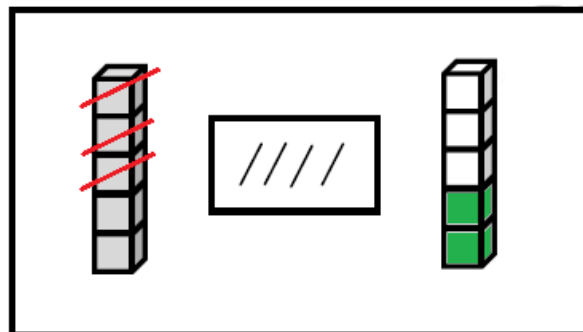
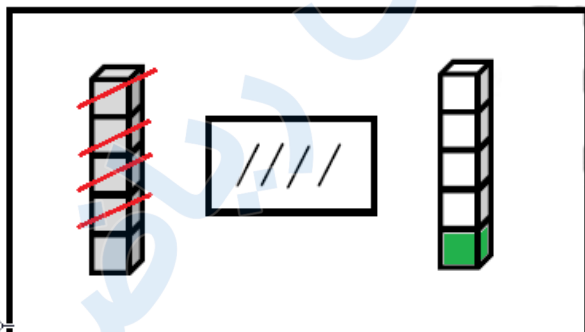
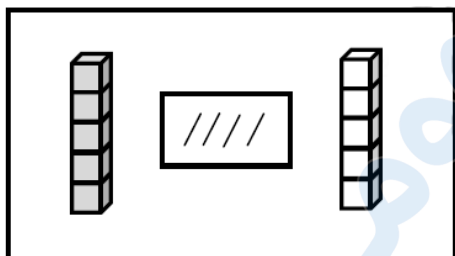
کد تهران ۰۲۱



۳.

(۳ نمره)

از چینه‌های رنگی به تعداد چوب‌خطها خط بزن. به تعداد باقی‌مانده از چینه‌های سمت راست رنگ کن:



ب.

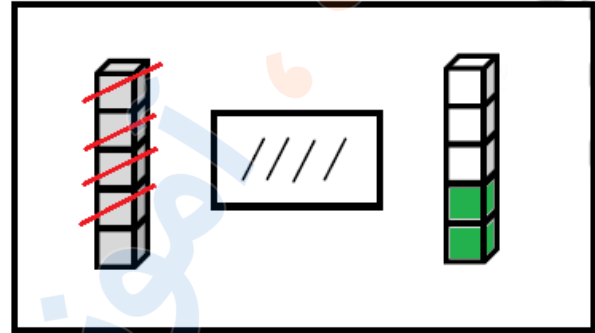
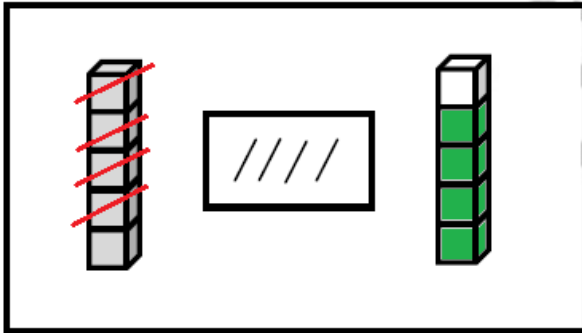
الف.



تدریس خصوصی ریاضی به صورت حضوری و آنلاین با دبیران حرفه ای و پیگیری قدرتمند در مدرسه

۸۸۹۰۴۰۰۲ - ۸۸۹۰۶۹۰۹ - ۲۶۵۷۰۸۱۰ - ۴۴۰۲۵۸۶۰

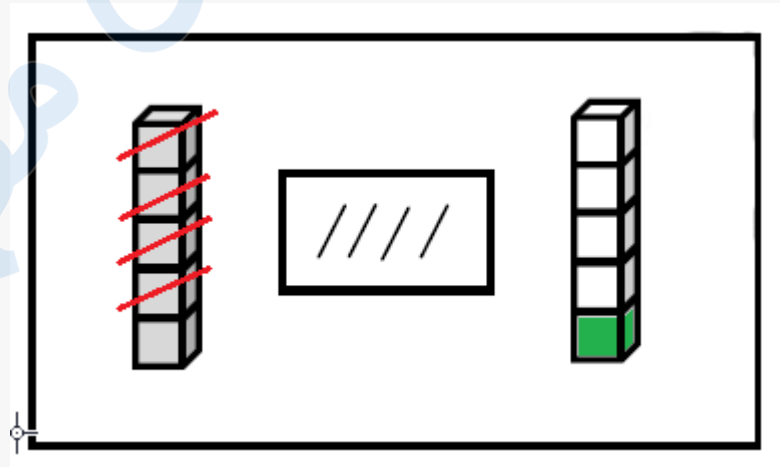
کد تهران ۰۲۱



د

ج

پاسخ :



۴

(۳ نمره)




تدریس خصوصی ریاضی به صورت حضوری و آنلاین با دبیران حرفه ای و پیگیری قدرتمند در مدرسه

۸۸۹۰۴۰۰۲ - ۸۸۹۰۶۹۰۹ - ۲۶۵۷۰۸۱۰ - ۴۴۰۲۵۸۶۰

کد تهران ۰۲۱

شکلی که مشابهی ندارد را مشخص کنید.



ب .



الف .



ج .

پاسخ :



۵ .

(۵ نمره)

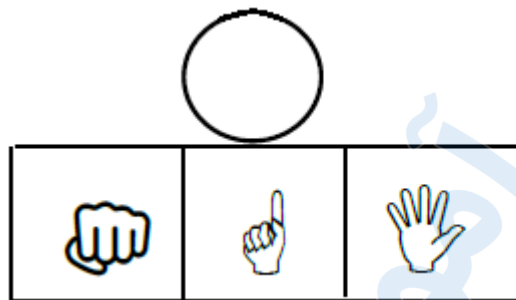


تدریس خصوصی ریاضی به صورت حضوری و آنلاین با دبیران حرفه ای و پیگیری قدرتمند در مدرسه

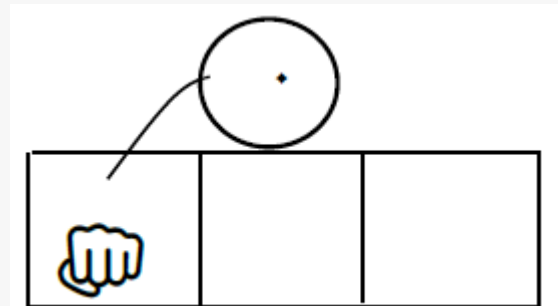
۸۸۹۰۴۰۰۲ - ۸۸۹۰۶۹۰۹ - ۲۶۵۷۰۸۱۰ - ۴۴۰۲۵۸۶۰

کد تهران ۰۲۱

شکل مناسب را وصل کن.




پاسخ :



.۶

(۵ نمره)



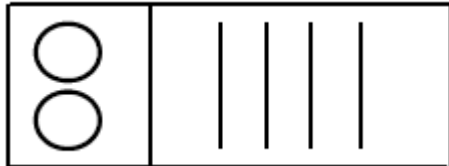
به شکل‌ها دو تا  اضافه کن و چوب خط بکش.



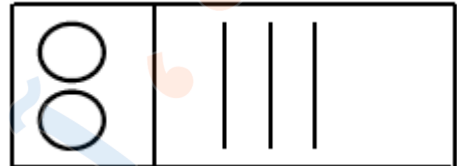
تدریس خصوصی ریاضی به صورت حضوری و آنلاین با دبیران حرفه ای و پیگیری قدرتمند در مدرسه

۴۴۰۲۵۸۶۰ - ۲۶۵۷۰۸۱۰ - ۸۸۹۰۶۹۰۹ - ۸۸۹۰۴۰۰۲

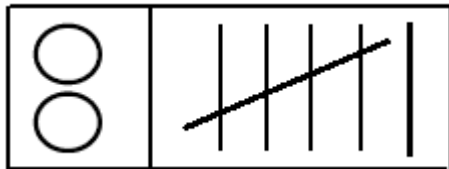
کد تهران ۰۲۱



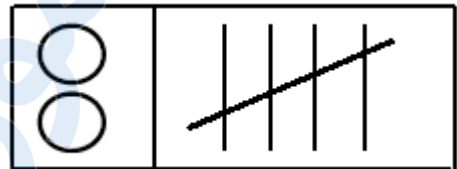
ب .



الف .

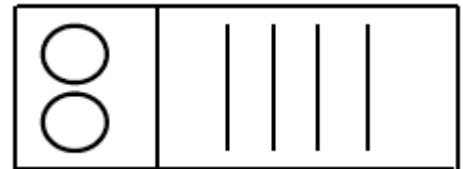


د .



ج .

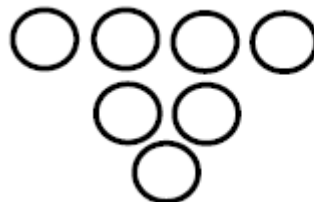
پاسخ :



۷ .

(۵ نمره)

به اندازه چوب خط ها از دایره ها خط بزنید. سپس یک واحد به تعداد باقی مانده اضافه کنید. حاصل چند مربع است؟

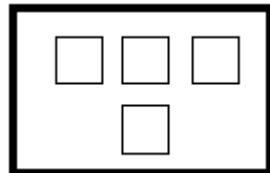




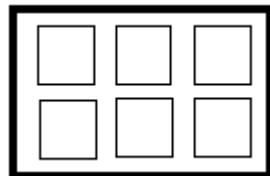
تدریس خصوصی ریاضی به صورت حضوری و آنلاین با دبیران حرفه ای و پیگیری قدرتمند در مدرسه

۴۴۰۲۵۸۶۰ - ۲۶۵۷۰۸۱۰ - ۸۸۹۰۶۹۰۹ - ۸۸۹۰۴۰۰۲

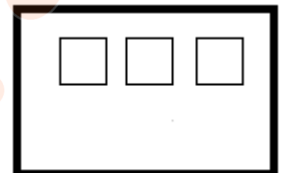
کد تهران ۰۲۱



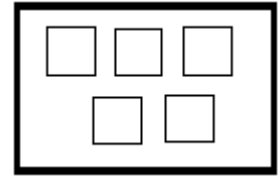
ب .



د .

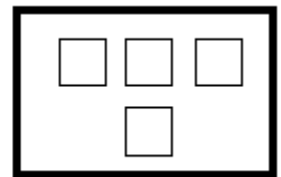
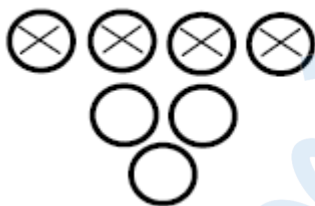


الف .



ج .

پاسخ :



۸ .

(۵ نمره)

کدام دسته از شکل های زیر الگو هستند ؟



ب .



الف .

پاسخ :



تدریس خصوصی ریاضی به صورت حضوری و آنلاین با دبیران حرفه ای و پیگیری قدرتمند در مدرسه

۸۸۹۰۴۰۰۲ - ۸۸۹۰۶۹۰۹ - ۲۶۵۷۰۸۱۰ - ۴۴۰۲۵۸۶۰

کد تهران ۰۲۱




.۹

(۵ نمره)

شکل های قبل و بعد را بکش.



پاسخ :



.۱۰


(۵ نمره)

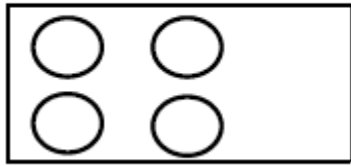


تدریس خصوصی ریاضی به صورت حضوری و آنلاین با دبیران حرفه ای و پیگیری قدرتمند در مدرسه


۴۴۰۲۵۸۶۰ - ۲۶۵۷۰۸۱۰ - ۸۸۹۰۶۹۰۹ - ۸۸۹۰۴۰۰۲

کد تهران ۰۲۱


به شکل‌های یکی  اضافه کن و رنگ کن.



پاسخ :




(۵ نمره)


به شکل‌های یکی  اضافه کن و رنگ کن.



ب .



الف .





تدریس خصوصی ریاضی به صورت حضوری و آنلاین با دبیران حرفه ای و پیگیری قدرتمند در مدرسه

۴۴۰۲۵۸۶۰ - ۲۶۵۷۰۸۱۰ - ۸۸۹۰۶۹۰۹ - ۸۸۹۰۴۰۰۲

کد تهران ۰۲۱

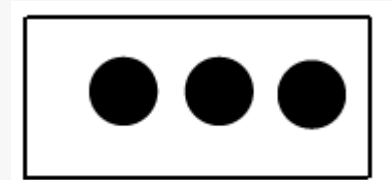


د .



ج .

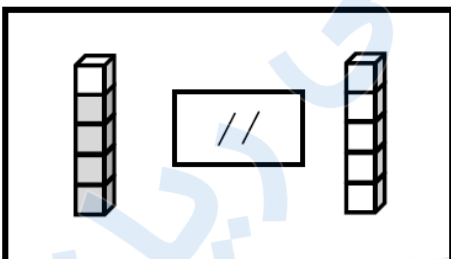
پاسخ :



۱۲ .

(۵ نمره)

از چیننه‌های رنگی به تعداد چوب‌خطها خط بزن. به تعداد باقی‌مانده از چیننه‌های سمت راست رنگ کن:



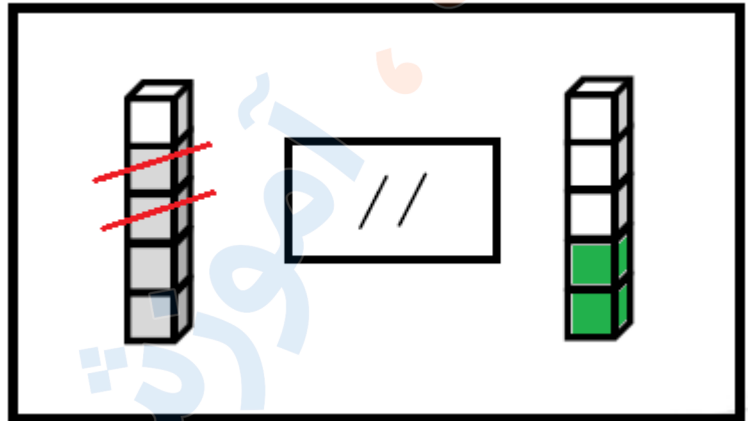
پاسخ :



تدریس خصوصی ریاضی به صورت حضوری و آنلاین با دبیران حرفه ای و پیگیری قدرتمند در مدرسه

۸۸۹۰۴۰۰۲ - ۸۸۹۰۶۹۰۹ - ۲۶۵۷۰۸۱۰ - ۴۴۰۲۵۸۶۰

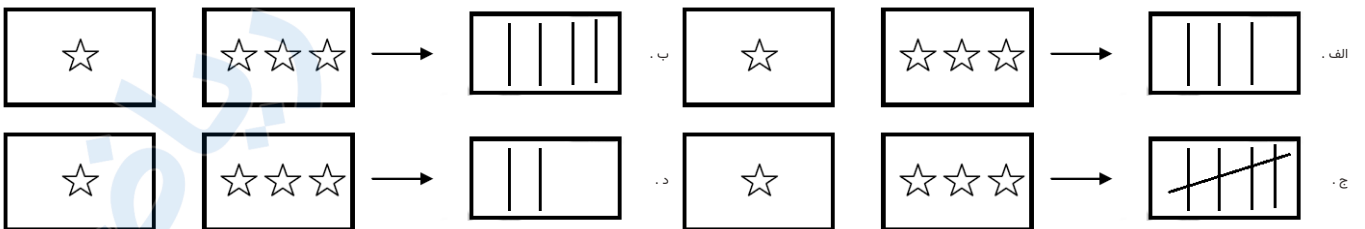
کد تهران ۰۲۱



۱۳.

(۵ نمره)

با کشیدن چوب خط بگو شکل‌های سمت راست و چپ با هم چندتا است؟



پاسخ :



تدریس خصوصی ریاضی به صورت حضوری و آنلاین با دبیران حرفه ای و پیگیری قدرتمند در مدرسه

۸۸۹۰۴۰۰۲ - ۸۸۹۰۶۹۰۹ - ۲۶۵۷۰۸۱۰ - ۴۴۰۲۵۸۶۰

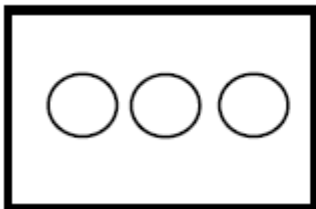
کد تهران ۰۲۱



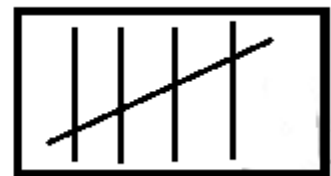
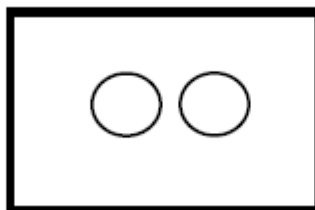
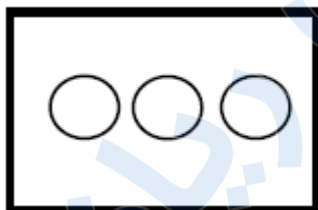
۱۴ .

(۵ نمره)

با کشیدن چوب خط بگو شکل های سمت راست و چپ با هم چقدر است؟



پاسخ :



۱۵ .



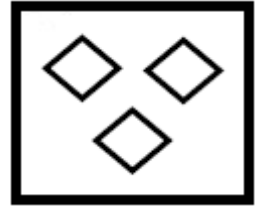
تدریس خصوصی ریاضی به صورت حضوری و آنلاین با دبیران حرفه ای و پیگیری قدرتمند در مدرسه

۸۸۹۰۴۰۰۲ - ۸۸۹۰۶۹۰۹ - ۲۶۵۷۰۸۱۰ - ۴۴۰۲۵۸۶۰

کد تهران ۰۲۱

(۵ نمره)

یک واحد از شکل کم کنید و حاصل را با عدد مشخص کنید.



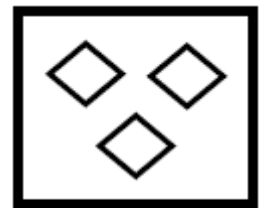
الف . ۱

ج . ۳

ب . ۲

د . ۴

پاسخ :



- ۲ -

۱۶ .

(۵ نمره)

در جای خالی مقابل چه عددی قرار می گیرد؟

۱, ۲, — —, ۴, ۵

ب . ۳

الف . ۲



تدریس خصوصی ریاضی به صورت حضوری و آنلاین با دبیران حرفه ای و پیگیری قدرتمند در مدرسه

۸۸۹۰۴۰۰۲ - ۸۸۹۰۶۹۰۹ - ۲۶۵۷۰۸۱۰ - ۴۴۰۲۵۸۶۰

کد تهران ۰۲۱

د . ۱

ج . ۶

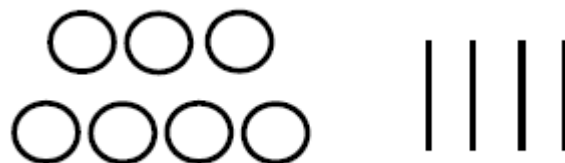
پاسخ :

۱, ۲, ۳, ۴, ۵

۱۷ .

(۵ نمره)

اگر به اندازه چوب خط ها از دایره ها خط بزنید، حاصل چند دایره است؟



ب . ۴

د . ۵

الف . ۳

ج . ۲

پاسخ :

۳

۱۸ .

(۵ نمره)




تدریس خصوصی ریاضی به صورت حضوری و آنلاین با دبیران حرفه ای و پیگیری قدرتمند در مدرسه

۸۸۹۰۴۰۰۲ - ۸۸۹۰۶۹۰۹ - ۲۶۵۷۰۸۱۰ - ۴۴۰۲۵۸۶۰

کد تهران ۰۲۱

اگر به تعداد شکل یک واحد اضافه کنیم و مربع ها را رنگ بزنیم کدام گزینه مربع های رنگ زده را نشان می دهد ؟



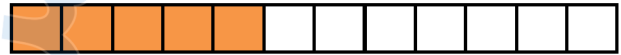
ب .



الف .



د .



ج .

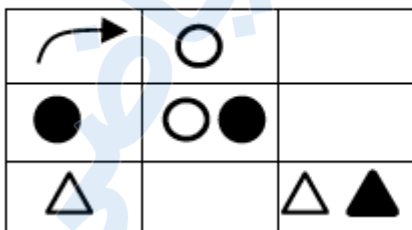
پاسخ :



۱۹ .

(۱۸ نمره)

جاهای خالی را پر کنید.





تدریس خصوصی ریاضی به صورت حضوری و آنلاین با دبیران حرفه ای و پیگیری قدرتمند در مدرسه

۸۸۹۰۴۰۰۲ - ۸۸۹۰۶۹۰۹ - ۲۶۵۷۰۸۱۰ - ۴۴۰۲۵۸۶۰

کد تهران ۰۲۱

ب .

الف .

د .

ج .

پاسخ :
