



تدریس خصوصی ریاضی به صورت حضوری و آنلاین با دبیران حرفه ای و پیگیری قدرتمند در مدرسه

۴۴۰۲۵۸۶۰ - ۲۶۵۷۰۸۱۰ - ۸۸۹۰۶۹۰۹ - ۸۸۹۰۴۰۰۲

کد تهران ۰۲۱

۱.

(۴ نمره)

ساعت ۱۸:۳۰ همان ..... بعد از ظهر است

۲.

(۴ نمره)

فروشنده ای کالایی را با ۵۰ تومان می خرد و ۵۵ تومان می فروشد که از فروش ۲ کالا ۱۰ تومان سود می کند؟ حداقل چند کالا بفروشد تا با سود آن یک جنس ۱۸ تومانی بخرد؟

۳.

(۴ نمره)

فروشنده ای کالایی را با ۸ تومان سود می فروشد. چند تا از این کالا را بفروشد تا بتواند دو تا جنس ۹ تومانی بخرد؟

۴.

(۵ نمره)

مینا ۱۰۰ تومان پول دارد. اگر یک دفتر ۴۰ تومانی و یک مداد ۲۰۰ ریالی بخرد ، چند تومان برایش باقی می ماند؟

۵.

(۴ نمره)

۸ کیلوگرم و ۸ گرم برابر است با ..... گرم.



تدریس خصوصی ریاضی به صورت حضوری و آنلاین با دبیران حرفه ای و پیگیری قدرتمند در مدرسه

۴۴۰۲۵۸۶۰ - ۲۶۵۷۰۸۱۰ - ۸۸۹۰۶۹۰۹ - ۸۸۹۰۴۰۰۲

کد تهران ۰۲۱

۶.

(۴ نمره)

۷۰۷۰ متر برابر است با ..... کیلومتر و ..... متر.

۷.

(۴ نمره)

در جای خالی چه علامتی قرار دهیم تا مقایسه صحیح باشد؟

$$\frac{7}{9} \square \frac{5}{6}$$

۸.

(۴ نمره)

با توجه به علامت، جای خالی را پر کنید.




..... مانده به عدد ۴

۹.

(۴ نمره)

۴ سانتی‌متر و ۵ میلی‌متر یعنی ..... میلی‌متر. (دبستان پورچندق - رفسنجان ۱۴۰۲)



تدریس خصوصی ریاضی به صورت حضوری و آنلاین با دبیران حرفه ای و پیگیری قدرتمند در مدرسه

۸۸۹۰۴۰۰۲ - ۸۸۹۰۶۹۰۹ - ۲۶۵۷۰۸۱۰ - ۴۴۰۲۵۸۶۰

کد تهران ۰۲۱

. ۱۰

(۵ نمره)

اگر عدد های ۳ و ۹ نشان دهنده تعداد دسته ها و عدد های ۲ و ۷ نشان دهنده تعداد اشیاء هر دسته باشند، چند عملیات ضرب می توانیم بنویسیم؟

. ۱۱

(۴ نمره)

حاصل ضرب زیر را به کمک محور پیدا کنید.

$$۵ \times ۲ =$$

. ۱۲

(۵ نمره)

مادر پانینسا برای هر پیراهن ۵ دگمه می دوزد، ۱۵ دگمه را برای چند پیراهن استفاده می کند؟

(دبستان یاس-لاهیجان ۱۴۰۲)

. ۱۳

(۴ نمره)



تدریس خصوصی ریاضی به صورت حضوری و آنلاین با دبیران حرفه ای و پیگیری قدرتمند در مدرسه

۴۴۰۲۵۸۶۰ - ۲۶۵۷۰۸۱۰ - ۸۸۹۰۶۹۰۹ - ۸۸۹۰۴۰۰۲

کد تهران ۰۲۱

یک پنج ضلعی دارای چند قطر است؟ (دبستان یاس-لاهیجان ۱۴۰۲)

۱۴.

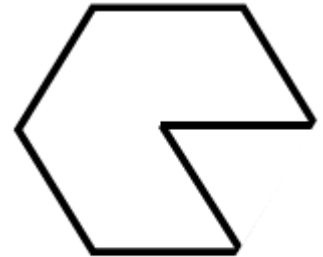
(۴ نمره)

دایره ای به شعاع ۱۵ سانتی متر داریم . قطر این دایره چند سانتی متر است ؟

۱۵.

(۴ نمره)

محیط شکل مقابل کدام یک از گزینه های زیر است؟



۸ س

۱۶.

(۴ نمره)



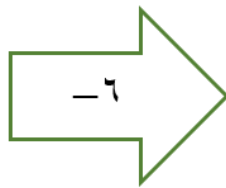
تدریس خصوصی ریاضی به صورت حضوری و آنلاین با دبیران حرفه ای و پیگیری قدرتمند در مدرسه

۴۴۰۲۵۸۶۰ - ۲۶۵۷۰۸۱۰ - ۸۸۹۰۶۹۰۹ - ۸۸۹۰۴۰۰۲

کد تهران ۰۲۱

ماشین زیر را کامل کنید. (دبستان پورچندق - رفسنجان ۱۴۰۲)

۲۴
۱۵



۴۰
۲۳

. ۱۷

(۴ نمره)

علامت مناسب قرار دهید.

هزار و دو  دو هزار و یک

. ۱۸

(۴ نمره)

مغازه داری یک شیشه شیر را ۲۰۰ تومان می‌خرد و ۲۳۰ تومان می‌فروشد. سود هر شیشه را حساب کنید.

(سرای دانش - تهران ۱۴۰۲)

. ۱۹

(۴ نمره)

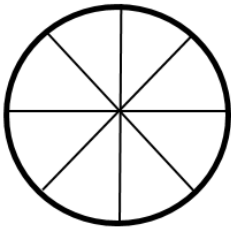


تدریس خصوصی ریاضی به صورت حضوری و آنلاین با دبیران حرفه ای و پیگیری قدرتمند در مدرسه

۴۴۰۲۵۸۶۰ - ۲۶۵۷۰۸۱۰ - ۸۸۹۰۶۹۰۹ - ۸۸۹۰۴۰۰۲

کد تهران ۰۲۱

چرخنده شکل زیر را با توجه به احتمال‌های داده شده رنگ‌آمیزی کنید. (با اسم رنگ‌ها را درون خانه‌ها بنویسید).



- احتمال رنگ زرد از همه کمتر

- احتمال رنگ سبز از همه بیشتر


- احتمال رنگ قرمز و آبی برابر

(منظور از احتمال رنگ، احتمال ایستادن رنگی از چرخنده روبه‌روی عقربه است.)

۲۰.

(۴ نمره)

با توجه به نمودار زیر در مجموع چند دانش آموز در رشته های شنا ، بدمینتون و بسکتبال ثبت نام کرده اند؟





تدریس خصوصی ریاضی به صورت حضوری و آنلاین با دبیران حرفه ای و پیگیری قدرتمند در مدرسه

۴۴۰۲۵۸۶۰ - ۲۶۵۷۰۸۱۰ - ۸۸۹۰۶۹۰۹ - ۸۸۹۰۴۰۰۲

کد تهران ۰۲۱

. ۲۱

(۵ نمره)

اطلاعات داده شده در جدول زیر مربوط به میزان علاقه‌مندی دانش‌آموزان به کتاب‌های درسی است. آن‌ها را در نمودار و به صورت ستونی نشان دهید. (دبستان یاس-لاهیجان ۱۴۰۲)

نوع کتاب	علمی	مذهبی	تاریخی	هنری
تعداد	۳۰	۶۰	۸۰	۹۰

. ۲۲

(۴ نمره)

۲ بسته ۱۰ تایی شکلات را بین ۴ نفر پخش می‌کنیم. به هر نفر چند شکلات می‌رسد؟

. ۲۳

(۴ نمره)

باقی مانده تقسیم زیر کدام گزینه است؟

$$\begin{array}{r} 7 \\ \hline 45 \end{array}$$



تدریس خصوصی ریاضی به صورت حضوری و آنلاین با دبیران حرفه ای و پیگیری قدرتمند در مدرسه

۸۸۹۰۴۰۰۲ - ۸۸۹۰۶۹۰۹ - ۲۶۵۷۰۸۱۰ - ۴۴۰۲۵۸۶۰

کد تهران ۰۲۱

. ۲۴

(۴ نمره)

در جای خالی چه عددی باید قرار بگیرد؟

$$۷۰ \times ۲۰ \times ۱۰ =$$