



تدریس خصوصی ریاضی به صورت حضوری و آنلاین با دبیران حرفه ای و پیگیری قدرتمند در مدرسه

۸۸۹۰۴۰۰۲ - ۸۸۹۰۶۹۰۹ - ۲۶۵۷۰۸۱۰ - ۴۴۰۲۵۸۶۰

کد تهران ۰۲۱

۱.

(۴ نمره)


الگوی عددی زیر را ادامه دهید. (دبستان روش نوین - دی ۱۴۰۲)

..., ..., ..., ۳۸, ۴۱, ۴۴

۲.

(۴ نمره)

شکل بعدی در الگوی زیر برابر با کدام گزینه است؟



۳.

(۴ نمره)



تدریس خصوصی ریاضی به صورت حضوری و آنلاین با دبیران حرفه ای و پیگیری قدرتمند در مدرسه

۸۸۹۰۴۰۰۲ - ۸۸۹۰۶۹۰۹ - ۲۶۵۷۰۸۱۰ - ۴۴۰۲۵۸۶۰

کد تهران ۰۲۱

ساعت چند است؟



ساعت و دقیقه است.

. ۴

(۴ نمره)

سه یکی و یک دسته ده تایی و به اضافه ۵ یکی می شود

. ۵

(۴ نمره)

فاطمه ۲۹ شکلات داشت. مادرش به او ۴۱ شکلات دیگر داد. اکنون فاطمه چند شکلات دارد؟

. ۶

(۴ نمره)

سعید ۴۱ ساله می باشد و امیر ۲۷ سال دارد. چند سال بگذرد تا امیر هم به سن ۴۱ سال برسد؟



تدریس خصوصی ریاضی به صورت حضوری و آنلاین با دبیران حرفه ای و پیگیری قدرتمند در مدرسه

۴۴۰۲۵۸۶۰ - ۲۶۵۷۰۸۱۰ - ۸۸۹۰۶۹۰۹ - ۸۸۹۰۴۰۰۲

کد تهران ۰۲۱

.۷


(۴ نمره)

درستی یا نادرستی جمله زیر را مشخص کنید. (دبستان سرای دانش الغدیر - تهران ۱۴۰۲)
«در شکل‌های هندسی، تعداد ضلع‌ها و تعداد گوشه‌ها با هم برابر است.»

.۸

(۴ نمره)

نام شکل زیر را بنویسید. (دبستان فدک نور - آذرشهر ۱۴۰۰)



.۹

(۵ نمره)

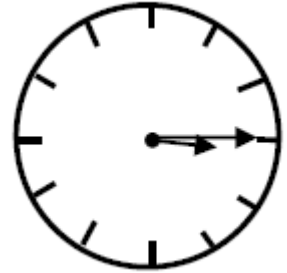


تدریس خصوصی ریاضی به صورت حضوری و آنلاین با دبیران حرفه ای و پیگیری قدرتمند در مدرسه

۴۴۰۲۵۸۶۰ - ۲۶۵۷۰۸۱۰ - ۸۸۹۰۶۹۰۹ - ۸۸۹۰۴۰۰۲

کد تهران ۰۲۱

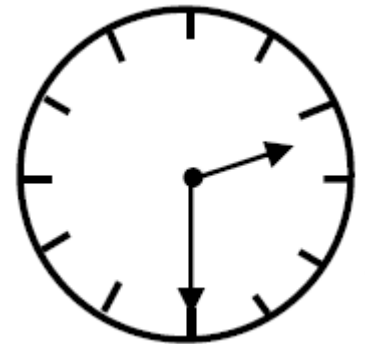
ساعت زیر چه زمانی را نشان می دهد؟



. ۱۰

(۴ نمره)

ساعت چند است؟



. ۱۱

(۴ نمره)


طبق الگوی داده شده ادامه دهید.

۱۰۰ - ۱۵۰ - ۲۰۰ - ___ - ___ - ___ - ___

تدریس خصوصی ریاضی به صورت حضوری و آنلاین با دبیران حرفه ای و پیگیری قدرتمند در مدرسه

۸۸۹۰۴۰۰۲ - ۸۸۹۰۶۹۰۹ - ۲۶۵۷۰۸۱۰ - ۴۴۰۲۵۸۶۰

کد تهران ۰۲۱



۱۲ .

(۴ نمره)

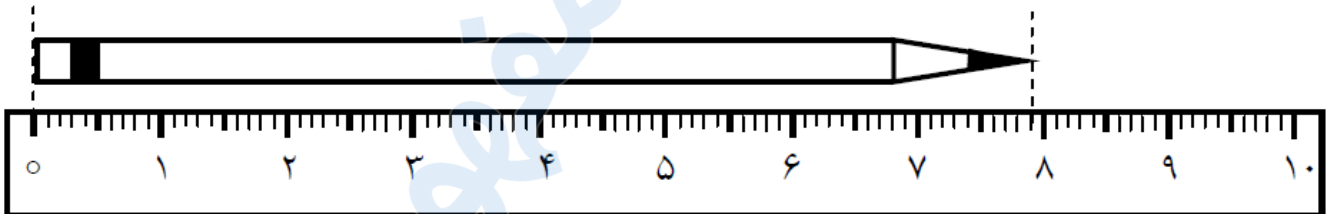
سارا ساعت ۳ بعد از ظهر خوابید و یک ساعت و نیم خواب بود. سارا ساعت چند بیدار شد؟

(دبستان روش نوین - دی ۱۴۰۲)

۱۳ .

(۵ نمره)

اندازه ی طول این مداد از سانتی متر بیشتر و از سانتی متر کم تر است .



۱۴ .

(۴ نمره)

در مزرعه ای تعدادی گوسفند و مرغ وجود دارد . آن ها روی هم ۹ سر و ۲۸ پا دارند . در این مزرعه چند گوسفند و مرغ وجود دارد ؟

۱۵ .

(۴ نمره)



تدریس خصوصی ریاضی به صورت حضوری و آنلاین با دبیران حرفه ای و پیگیری قدرتمند در مدرسه

۴۴۰۲۵۸۶۰ - ۲۶۵۷۰۸۱۰ - ۸۸۹۰۶۹۰۹ - ۸۸۹۰۴۰۰۲

کد تهران ۰۲۱

۷ سانتی‌متر و ۴ میلی‌متر = میلی‌متر

. ۱۶

(۴ نمره)

در باغی ۵۲۱ درخت سیب ، ۲۵۹ درخت پرتغال و ۱۱۷ درخت گلابی وجود دارد. این باغ چند درخت دارد؟

. ۱۷

(۴ نمره)

حاصل جمع زیر برابر با کدام گزینه است؟

$$\begin{array}{r} 428 \\ + 167 \\ \hline \end{array}$$

. ۱۸

(۵ نمره)

دو عدد زیر را مقایسه کنید. (دبستان سرای دانش-تهران ۱۴۰۲)

$$300 + 200 + 50 \square 300 + 100 + 50 + 50$$



تدریس خصوصی ریاضی به صورت حضوری و آنلاین با دبیران حرفه ای و پیگیری قدرتمند در مدرسه

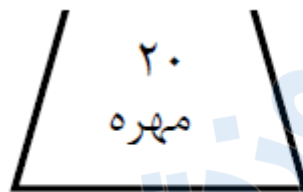
۴۴۰۲۵۸۶۰ - ۲۶۵۷۰۸۱۰ - ۸۸۹۰۶۹۰۹ - ۸۸۹۰۴۰۰۲

کد تهران ۰۲۱

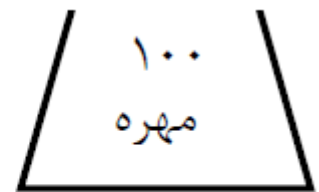
. ۱۹

(۴ نمره)

در هر کیسه (۱۰) مهره ی قرمز وجود دارد و بقیه مهره ها سفید هستند. اگر بدون نگاه کردن از هر کیسه ۱ مهره خارج کنیم ، شانس خارج شدن مهره ی سفید از کدام کیسه بیشتر است ؟



کیسه ی (الف)



کیسه ی (ب)

. ۲۰

(۴ نمره)

در داخل کیسه های ۷ تیله قرمز و ۵ تیله آبی است. (دبستان سرای دانش-تهران ۱۴۰۲)
«..... قسمت از قسمت، قرمز است.»

. ۲۱

(۵ نمره)

سکه ای را ۵ بار پرتاب کردیم و رو آمد. اگر ششمین مرتبه این سکه را پرتاب کنیم، چقدر احتمال دارد که پشت بیاید؟



تدریس خصوصی ریاضی به صورت حضوری و آنلاین با دبیران حرفه ای و پیگیری قدرتمند در مدرسه

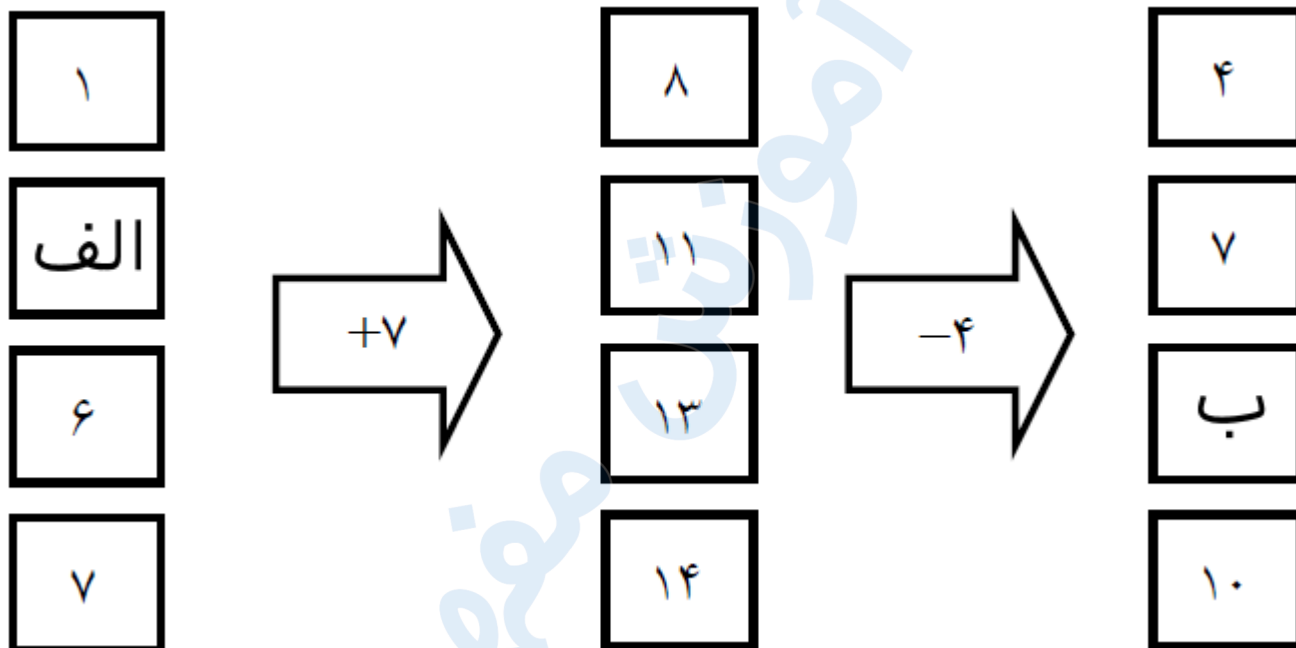
۸۸۹۰۴۰۰۲ - ۸۸۹۰۶۹۰۹ - ۲۶۵۷۰۸۱۰ - ۴۴۰۲۵۸۶۰

کد تهران ۰۲۱

. ۲۲

(۴ نمره)

در دو جای خالی (الف و ب) چه عدد هایی قرار دهیم تا جدول کامل شود ؟



. ۲۳

(۴ نمره)

دور اعداد زوج خط بکشید. (دبستان شهید پورجندی- رفسنجان ۱۴۰۲)

۷۲۱ و ۹۹۰ و ۶۸۸ و ۳۵۷ و ۸۶ و ۲۱۲

. ۲۴



تدریس خصوصی ریاضی به صورت حضوری و آنلاین با دبیران حرفه ای و پیگیری قدرتمند در مدرسه

۴۴۰۲۵۸۶۰ - ۲۶۵۷۰۸۱۰ - ۸۸۹۰۶۹۰۹ - ۸۸۹۰۴۰۰۲

کد تهران ۰۲۱

(۴ نمره)

برای نشان دادن عددهای بزرگ بهتر است از کدام نمودار استفاده کنیم؟ (دبستان سرای دانش الغدیر - تهران ۱۴۰۲)