



تدریس خصوصی ریاضی به صورت حضوری و آنلاین با دبیران حرفه ای و پیگیری قدرتمند در مدرسه

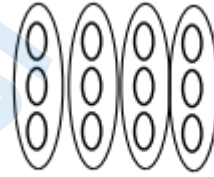
۴۴۰۲۵۸۶۰ - ۲۶۵۷۰۸۱۰ - ۸۸۹۰۶۹۰۹ - ۸۸۹۰۴۰۰۲

کد تهران ۰۲۱

. ۱

(۵ نمره)

با توجه به شکل زیر پاسخ صحیح کدام گزینه است؟



..... + ..... + ..... + ..... = .....

. ۲

(۵ نمره)

دو جعبه شکلات داریم که در هر جعبه ۲ بسته شکلات ۴ تایی می باشد. اگر ۵ شکلات هم به آن ها اضافه کنیم، در مجموع چند شکلات داریم؟

. ۳

(۵ نمره)

مریم در یک ساختمان ۹ طبقه که در هر طبقه ۳ واحد می باشد زندگی می کند. اگر واحد خانه مریم اولین واحد طبقه چهارم باشد چند واحد قبل از او می باشد؟

. ۴

(۵ نمره)

اگر هر دلار ۲۰۰۰ تومان باشد ، ارزش ۲ دلار بیشتر است یا ۴۵۰۰ ریال ؟



تدریس خصوصی ریاضی به صورت حضوری و آنلاین با دبیران حرفه ای و پیگیری قدرتمند در مدرسه

۸۸۹۰۴۰۰۲ - ۸۸۹۰۶۹۰۹ - ۲۶۵۷۰۸۱۰ - ۴۴۰۲۵۸۶۰

کد تهران ۰۲۱

۵ .

(۵ نمره)

۷ کیلوگرم و ۳۶۰ گرم یعنی ..... گرم

۶ .

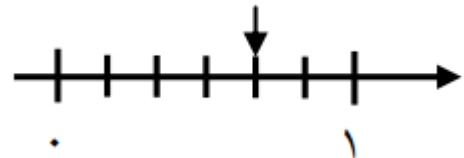
(۵ نمره)

۴ کیلوگرم و ۹۰ گرم می شود ..... گرم .

۷ .

(۵ نمره)

محور زیر چه کسری را نشان می دهد؟



۸ .

(۵ نمره)

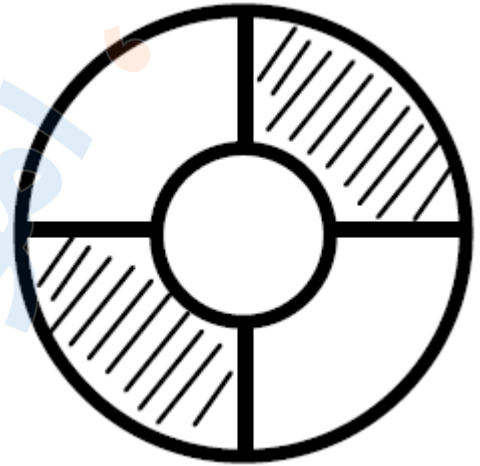


تدریس خصوصی ریاضی به صورت حضوری و آنلاین با دبیران حرفه ای و پیگیری قدرتمند در مدرسه

۸۸۹۰۴۰۰۲ - ۸۸۹۰۶۹۰۹ - ۲۶۵۷۰۸۱۰ - ۴۴۰۲۵۸۶۰

کد تهران ۰۲۱

شکل زیر چه کسری را نشان می دهد؟



.۹

(۵ نمره)

با کمک شکل دو کسر مساوی با کسر داده شده بنویسید.

$$\frac{2}{5} = \square = \square$$

.۱۰



تدریس خصوصی ریاضی به صورت حضوری و آنلاین با دبیران حرفه ای و پیگیری قدرتمند در مدرسه

۸۸۹۰۴۰۰۲ - ۸۸۹۰۶۹۰۹ - ۲۶۵۷۰۸۱۰ - ۴۴۰۲۵۸۶۰

کد تهران ۰۲۱

(۴ نمره)

مأده روزی ۷ صفحه تمرین حل می کند. پس از یک هفته چند صفحه تمرین حل می کند؟

. ۱۱

(۵ نمره)

۴ کارتون داریم. در هر کارتون ۳ جعبه است و در هر جعبه ۶ قوطی قرار دارد. اگر بخواهیم قوطی‌ها را در بسته‌های ۸ تایی بگذاریم، چند بسته خواهیم داشت؟

. ۱۲

(۵ نمره)

جاهای خالی را با  $\square$ ،  $\triangle$  و  $\circ$  پر کنید.

$$(\circ + \triangle) \times \square = (\circ \times \dots) + (\dots \times \dots)$$

. ۱۳

(۴ نمره)

شکل زیر به ترتیب چند گوشه و قطر دارد؟





تدریس خصوصی ریاضی به صورت حضوری و آنلاین با دبیران حرفه ای و پیگیری قدرتمند در مدرسه

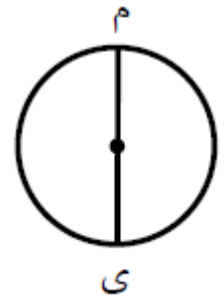
۴۴۰۲۵۸۶۰ - ۲۶۵۷۰۸۱۰ - ۸۸۹۰۶۹۰۹ - ۸۸۹۰۴۰۰۲

کد تهران ۰۲۱

۱۴.

(۵ نمره)


در دایره زیر، نام پاره خط (م ی) کدام است؟



۱۵.

(۴ نمره)

شکل زیر به ترتیب چند ضلع و قطر دارد؟



۱۶.

(۵ نمره)




تدریس خصوصی ریاضی به صورت حضوری و آنلاین با دبیران حرفه ای و پیگیری قدرتمند در مدرسه

۴۴۰۲۵۸۶۰ - ۲۶۵۷۰۸۱۰ - ۸۸۹۰۶۹۰۹ - ۸۸۹۰۴۰۰۲

کد تهران ۰۲۱

$$\begin{array}{r} 2322 \\ - 1231 \\ \hline \end{array}$$

باکس رسم شکل جواب تفریق را به دست بیاورید.



۱۷.

(۵ نمره)

مقایسه کنید.

۱۷۵۲  ۱۶۷۳

چهار هزار و پانصد و یک  چهار هزار و سیصد و هفت

۱۸.

(۴ نمره)

در حل مسئله زیر از کدام عمل ریاضی استفاده می‌کنید؟

« ۱۰ بسته داریم. در هر بسته ۲ جعبه ۴۰ تایی بیسکویت قرار دارد. چند بیسکویت داریم؟ »

۱۹.

(۵ نمره)

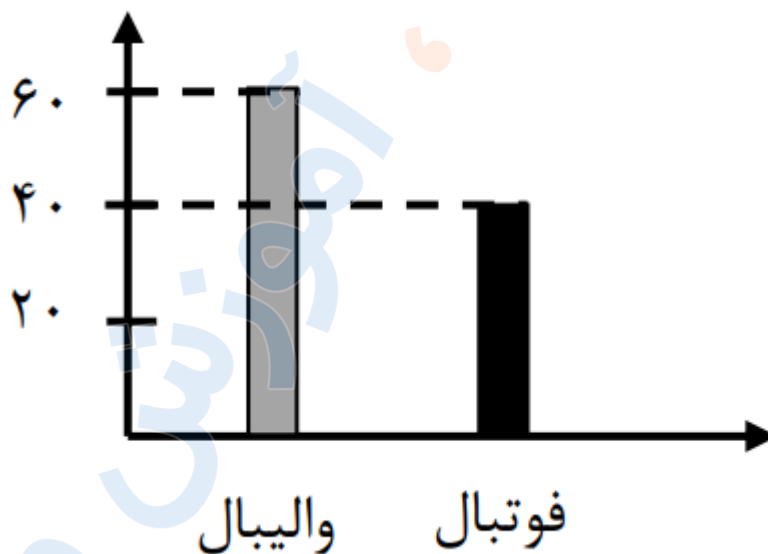


تدریس خصوصی ریاضی به صورت حضوری و آنلاین با دبیران حرفه ای و پیگیری قدرتمند در مدرسه

۴۴۰۲۵۸۶۰ - ۲۶۵۷۰۸۱۰ - ۸۸۹۰۶۹۰۹ - ۸۸۹۰۴۰۰۲

کد تهران ۰۲۱

کدام گزینه نمودار دایره ای ، نمودار ستونی زیر است؟



. ۲۰

(۴ نمره)

با توجه به جدول زیر کدام نمودار ستونی صحیح است ؟

نوع	علمی	مذهبی	تاریخی	هنری
تعداد	۶۰	۳۰	۲۰	۴۰

. ۲۱



تدریس خصوصی ریاضی به صورت حضوری و آنلاین با دبیران حرفه ای و پیگیری قدرتمند در مدرسه

۸۸۹۰۴۰۰۲ - ۸۸۹۰۶۹۰۹ - ۲۶۵۷۰۸۱۰ - ۴۴۰۲۵۸۶۰

کد تهران ۰۲۱

(۵ نمره)

با توجه به نمودار زیر در مجموع چند دانش آموز در رشته های شنا ، بدمینتون و بسکتبال ثبت نام کرده اند؟

