



تدریس خصوصی ریاضی به صورت حضوری و آنلاین با دبیران حرفه ای و پیگیری قدرتمند در مدرسه

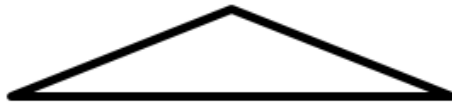
۴۴۰۲۵۸۶۰ - ۲۶۵۷۰۸۱۰ - ۸۸۹۰۶۹۰۹ - ۸۸۹۰۴۰۰۲

کد تهران ۰۲۱

۱.

(۵ نمره)

تعداد گوشه‌های هر شکل را بنویس.



۲.

(۵ نمره)

شکل‌های قبل و بعد را بکش.



۳.

(۵ نمره)

به شکل‌های یکی  اضافه کن و رنگ کن.



۴.



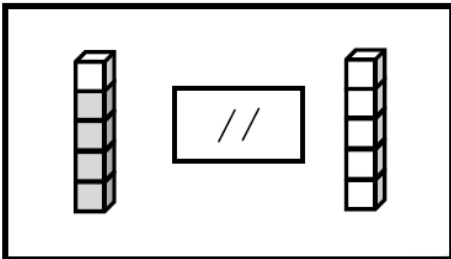
تدریس خصوصی ریاضی به صورت حضوری و آنلاین با دبیران حرفه ای و پیگیری قدرتمند در مدرسه

۴۴۰۲۵۸۶۰ - ۲۶۵۷۰۸۱۰ - ۸۸۹۰۶۹۰۹ - ۸۸۹۰۴۰۰۲

کد تهران ۰۲۱

(۴ نمره)

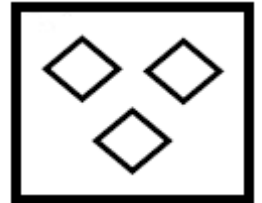
از چینه‌های رنگی به تعداد چوب‌خط‌ها خط بزن. به تعداد باقی‌مانده از چینه‌های سمت راست رنگ کن:



. ۵

(۵ نمره)

یک واحد از شکل کم کنید و حاصل را با عدد مشخص کنید.



. ۶

(۵ نمره)

اگر به تعداد شکل یک واحد اضافه کنیم و مربع‌ها را رنگ بزنیم کدام گزینه مربع‌های رنگ زده را نشان می‌دهد؟





تدریس خصوصی ریاضی به صورت حضوری و آنلاین با دبیران حرفه ای و پیگیری قدرتمند در مدرسه

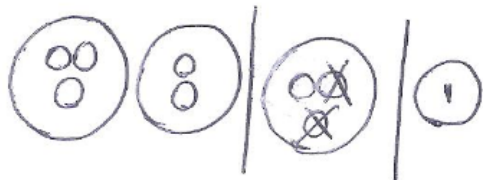
۴۴۰۲۵۸۶۰ - ۲۶۵۷۰۸۱۰ - ۸۸۹۰۶۹۰۹ - ۸۸۹۰۴۰۰۲

کد تهران ۰۲۱

۷.

(۴ نمره)

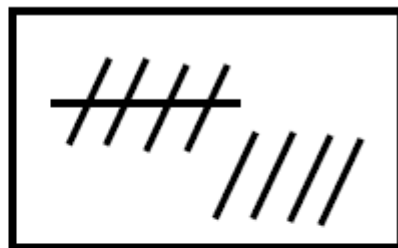
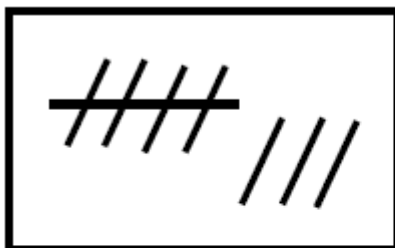
از هر شکل ۲ تا کم کن و بنویس



۸.

(۵ نمره)

عدد هر قسمت را بنویس و علامت <=> قرار بده.





تدریس خصوصی ریاضی به صورت حضوری و آنلاین با دبیران حرفه ای و پیگیری قدرتمند در مدرسه

۸۸۹۰۴۰۰۲ - ۸۸۹۰۶۹۰۹ - ۲۶۵۷۰۸۱۰ - ۴۴۰۲۵۸۶۰

کد تهران ۰۲۱

.۹

(۵ نمره)

با روش دلخواه جواب دهید.

$$۵ + ۲ =$$

.۱۰

(۴ نمره)

حاصل تفریق زیر چند می شود؟

$$۹ - ۷ = \square$$

.۱۱

(۵ نمره)

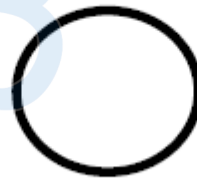
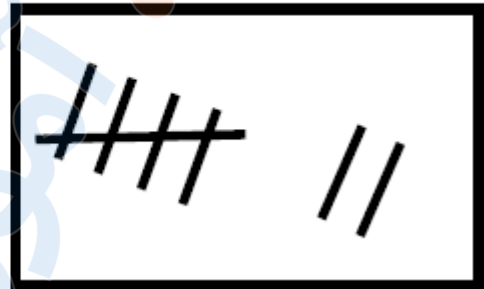
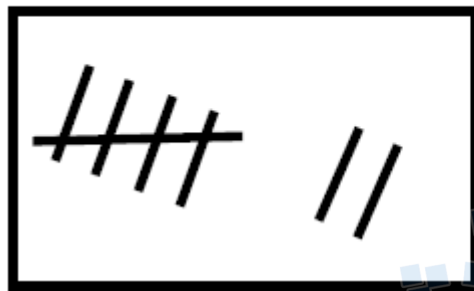


تدریس خصوصی ریاضی به صورت حضوری و آنلاین با دبیران حرفه ای و پیگیری قدرتمند در مدرسه

۸۸۹۰۴۰۰۲ - ۸۸۹۰۶۹۰۹ - ۲۶۵۷۰۸۱۰ - ۴۴۰۲۵۸۶۰

کد تهران ۰۲۱

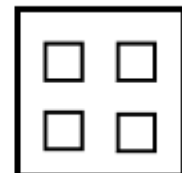
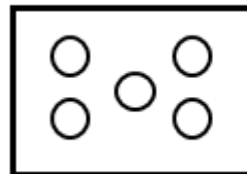
هر دسته را بشمارید و علامت مناسب <=> را انتخاب کنید.



. ۱۲

(۵ نمره)

از هر دسته از شکل‌های سمت چپ به اندازه شکل‌های سمت راست کم کنید حاصل آن چند می‌شود؟



=

. ۱۳

(۵ نمره)



تدریس خصوصی ریاضی به صورت حضوری و آنلاین با دبیران حرفه ای و پیگیری قدرتمند در مدرسه

۸۸۹۰۴۰۰۲ - ۸۸۹۰۶۹۰۹ - ۲۶۵۷۰۸۱۰ - ۴۴۰۲۵۸۶۰

کد تهران ۰۲۱

عدد مربوط به شکل داده شده را به حروف نوشته و در جدول ارزش مکانی نشان دهید.

۱۰	۱۰	۱۰	۱۰
۱۰	۱۰	۱۰	


دهتایی	یکی

حروف:

۱۴ .

(۵ نمره)

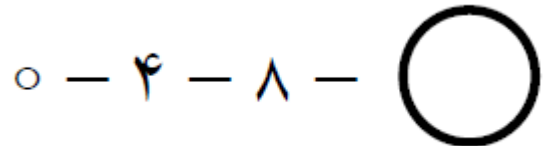
۴ تا کمتر از مثلث ها چند تا است؟



۱۵ .

(۵ نمره)

عدد بعدی در الگوی زیر چند می شود؟





تدریس خصوصی ریاضی به صورت حضوری و آنلاین با دبیران حرفه ای و پیگیری قدرتمند در مدرسه

۴۴۰۲۵۸۶۰ - ۲۶۵۷۰۸۱۰ - ۸۸۹۰۶۹۰۹ - ۸۸۹۰۴۰۰۲

کد تهران ۰۲۱

۱۶.

(۴ نمره)

شکل مقابل مربوط به کدام یک از عدد های زیر می باشد؟



۱۷.

(۵ نمره)

جواد ۳۶ شکلات داشت. ۸ تا را به دوستش علی داد. ۵ تای دیگر را به ایمان داد. حالا چند شکلات برای جواد باقی مانده است؟ (به کمک شکل)

۱۸.

(۵ نمره)

در یک تنگ ۶ ماهی بود. ۳ ماهی مرده اند. حال در تنگ چند ماهی است؟

۱۹.

(۵ نمره)

عدد (سی و نه) به رقم برابر با کدام گزینه است؟



تدریس خصوصی ریاضی به صورت حضوری و آنلاین با دبیران حرفه ای و پیگیری قدرتمند در مدرسه

۸۸۹۰۴۰۰۲ - ۸۸۹۰۶۹۰۹ - ۲۶۵۷۰۸۱۰ - ۴۴۰۲۵۸۶۰

کد تهران ۰۲۱

۲۰.

(۴ نمره)

کتابی ۲۸ صفحه دارد. مریم ۱۵ صفحه از این کتاب را خوانده است. چند صفحه باقی مانده است؟

۲۱.

(۵ نمره)

حاصل عبارت مقابل کدام است؟

$$۲۰ + ۳۰ + ۶ + ۴ =$$