



تدریس خصوصی ریاضی به صورت حضوری و آنلاین با دبیران حرفه ای و پیگیری قدرتمند در مدرسه

۴۴۰۲۵۸۶۰ - ۲۶۵۷۰۸۱۰ - ۸۸۹۰۶۹۰۹ - ۸۸۹۰۴۰۰۲

کد تهران ۰۲۱

۱.

(۵ نمره)

تعداد گوشه‌های هر شکل را بنویس.



پاسخ:



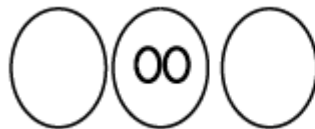
۵ گوشه



۳ گوشه

۲.

(۵ نمره)



شکل‌های قبل و بعد را بکش.

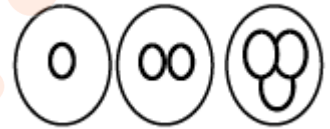
پاسخ:



تدریس خصوصی ریاضی به صورت حضوری و آنلاین با دبیران حرفه ای و پیگیری قدرتمند در مدرسه

۴۴۰۲۵۸۶۰ - ۲۶۵۷۰۸۱۰ - ۸۸۹۰۶۹۰۹ - ۸۸۹۰۴۰۰۲

کد تهران ۰۲۱



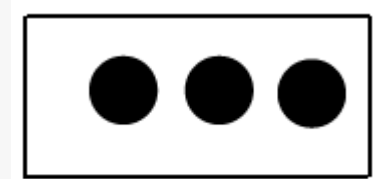
۳.

(۵ نمره)

به شکل های یکی  اضافه کن و رنگ کن.



پاسخ :



۴.

(۴ نمره)

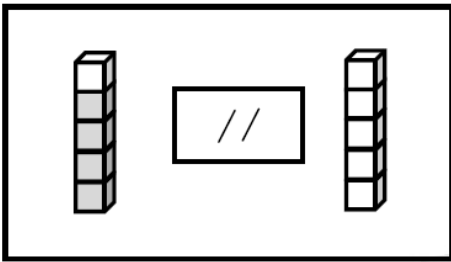


تدریس خصوصی ریاضی به صورت حضوری و آنلاین با دبیران حرفه ای و پیگیری قدرتمند در مدرسه

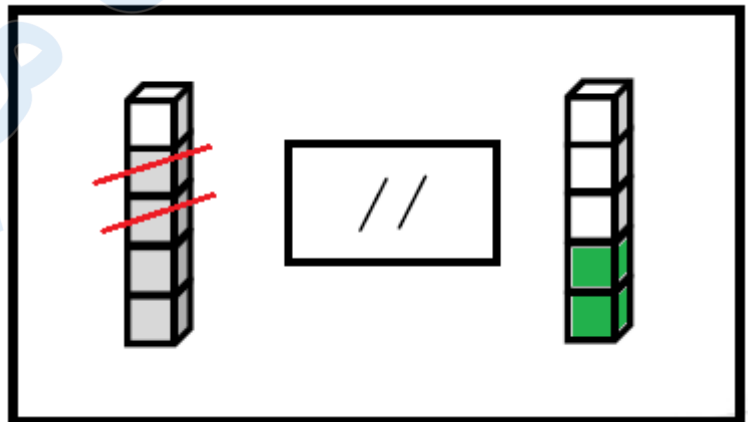
۴۴۰۲۵۸۶۰ - ۲۶۵۷۰۸۱۰ - ۸۸۹۰۶۹۰۹ - ۸۸۹۰۴۰۰۲

کد تهران ۰۲۱

از چینه‌های رنگی به تعداد چوب‌خطها خط بزن. به تعداد باقی‌مانده از چینه‌های سمت راست رنگ کن:



پاسخ:



۵.

(۵ نمره)

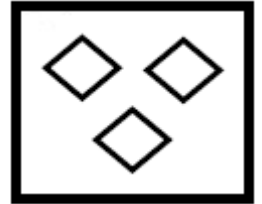


تدریس خصوصی ریاضی به صورت حضوری و آنلاین با دبیران حرفه ای و پیگیری قدرتمند در مدرسه

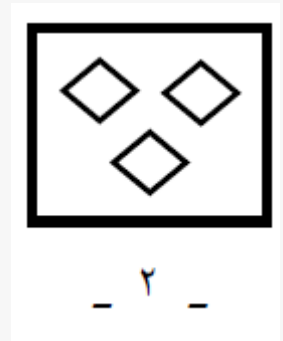
۸۸۹۰۴۰۰۲ - ۸۸۹۰۶۹۰۹ - ۲۶۵۷۰۸۱۰ - ۴۴۰۲۵۸۶۰

کد تهران ۰۲۱

یک واحد از شکل کم کنید و حاصل را با عدد مشخص کنید.



پاسخ :



۶.

(۵ نمره)

اگر به تعداد شکل یک واحد اضافه کنیم و مربع ها را رنگ بزنیم کدام گزینه مربع های رنگ زده را نشان می دهد ؟



--	--	--	--	--	--	--	--	--	--	--

پاسخ :



تدریس خصوصی ریاضی به صورت حضوری و آنلاین با دبیران حرفه ای و پیگیری قدرتمند در مدرسه

۴۴۰۲۵۸۶۰ - ۲۶۵۷۰۸۱۰ - ۸۸۹۰۶۹۰۹ - ۸۸۹۰۴۰۰۲

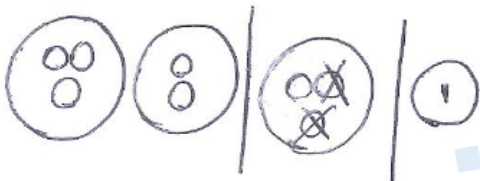
کد تهران ۰۲۱



۷.

(۴ نمره)

از هر شکل ۲ تا کم کن و بنویس



پاسخ :



تدریس خصوصی ریاضی به صورت حضوری و آنلاین با دبیران حرفه ای و پیگیری قدرتمند در مدرسه

۸۸۹۰۴۰۰۲ - ۸۸۹۰۶۹۰۹ - ۲۶۵۷۰۸۱۰ - ۴۴۰۲۵۸۶۰

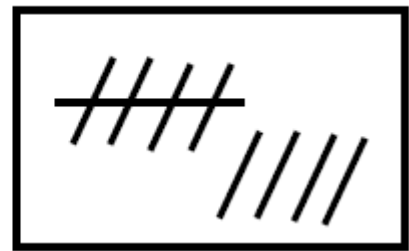
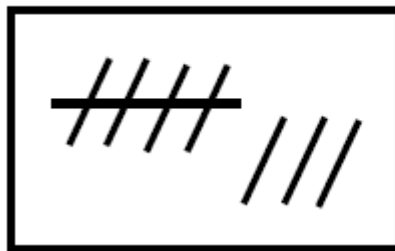
کد تهران ۰۲۱



۸.

(۵ نمره)

عدد هر قسمت را بنویس و علامت <=> قرار بده.





تدریس خصوصی ریاضی به صورت حضوری و آنلاین با دبیران حرفه ای و پیگیری قدرتمند در مدرسه

۸۸۹۰۴۰۰۲ - ۸۸۹۰۶۹۰۹ - ۲۶۵۷۰۸۱۰ - ۴۴۰۲۵۸۶۰

کد تهران ۰۲۱

پاسخ :



.۹

(۵ نمره)

با روش دلخواه جواب دهید.

$$۵ + ۲ =$$

پاسخ :

$$۵ + ۲ = ۷$$



.۱۰

(۴ نمره)



تدریس خصوصی ریاضی به صورت حضوری و آنلاین با دبیران حرفه ای و پیگیری قدرتمند در مدرسه

۸۸۹۰۴۰۰۲ - ۸۸۹۰۶۹۰۹ - ۲۶۵۷۰۸۱۰ - ۴۴۰۲۵۸۶۰

کد تهران ۰۲۱

حاصل تفریق زیر چند می شود؟

$$9 - 7 = \square$$


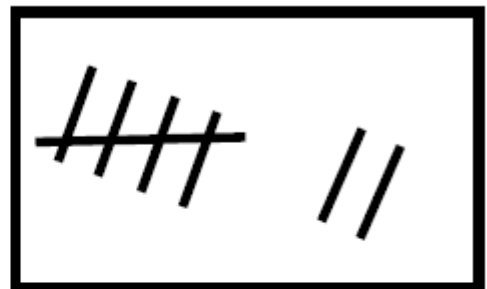
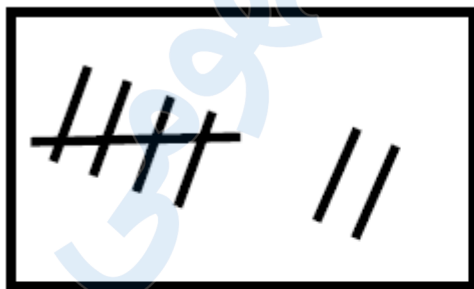
پاسخ :

۲

۱۱ .

(۵ نمره)

هر دسته را بشمارید و علامت مناسب <=> را انتخاب کنید.



پاسخ :

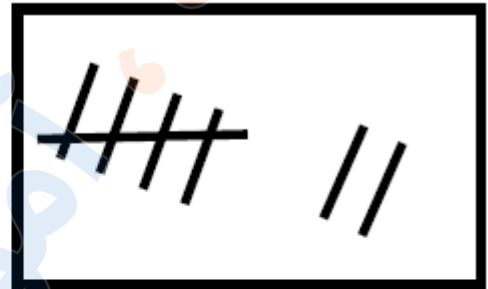
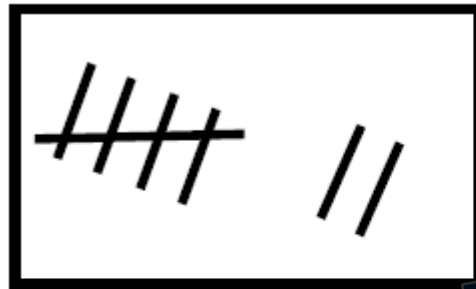




تدریس خصوصی ریاضی به صورت حضوری و آنلاین با دبیران حرفه ای و پیگیری قدرتمند در مدرسه

۸۸۹۰۴۰۰۲ - ۸۸۹۰۶۹۰۹ - ۲۶۵۷۰۸۱۰ - ۴۴۰۲۵۸۶۰

کد تهران ۰۲۱



√

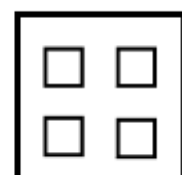
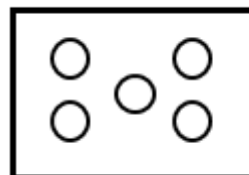


√

. ۱۲

(۵ نمره)

از هر دسته از شکل‌های سمت چپ به اندازه شکل‌های سمت راست کم کنید حاصل آن چند می‌شود؟



=

پاسخ :

$$۵ - ۴ = ۱$$



تدریس خصوصی ریاضی به صورت حضوری و آنلاین با دبیران حرفه ای و پیگیری قدرتمند در مدرسه

۸۸۹۰۴۰۰۲ - ۸۸۹۰۶۹۰۹ - ۲۶۵۷۰۸۱۰ - ۴۴۰۲۵۸۶۰

کد تهران ۰۲۱

۱۳.

(۵ نمره)

عدد مربوط به شکل داده شده را به حروف نوشته و در جدول ارزش مکانی نشان دهید.

۱۰	۱۰	۱۰	۱۰
۱۰	۱۰	۱۰	

دهتایی	یکی

حروف:

پاسخ:


دهتایی	یکی
۷	۰

حروف: هفتاد

۱۴.

(۵ نمره)

۴ تا کمتر از مثلث ها چند تا است؟





تدریس خصوصی ریاضی به صورت حضوری و آنلاین با دبیران حرفه ای و پیگیری قدرتمند در مدرسه

۸۸۹۰۴۰۰۲ - ۸۸۹۰۶۹۰۹ - ۲۶۵۷۰۸۱۰ - ۴۴۰۲۵۸۶۰

کد تهران ۰۲۱

پاسخ :

$$۱۰ - ۴ = ۶$$

۱۵ .

(۵ نمره)

عدد بعدی در الگوی زیر چند می شود ؟

$$۰ - ۴ - ۸ - \bigcirc$$

پاسخ :

$$\begin{array}{ccccccc} ۰ & - & ۴ & - & ۸ & - & \bigcirc \\ & & & & & & ۱۲ \\ \curvearrowright & & \curvearrowright & & \curvearrowright & & \\ +۴ & & +۴ & & +۴ & & \end{array}$$



تدریس خصوصی ریاضی به صورت حضوری و آنلاین با دبیران حرفه ای و پیگیری قدرتمند در مدرسه

۴۴۰۲۵۸۶۰ - ۲۶۵۷۰۸۱۰ - ۸۸۹۰۶۹۰۹ - ۸۸۹۰۴۰۰۲

کد تهران ۰۲۱

۱۶ .

(۴ نمره)

شکل مقابل مربوط به کدام یک از عدد های زیر می باشد ؟



پاسخ :

ده تایی	یکی
۳	۶

عدد به رقم: ۳۶

عدد به حروف: سی و شش

۱۷ .

(۵ نمره)

جواد ۳۶ شکلات داشت. ۸ تا را به دوستش علی داد. ۵ تای دیگر را به ایمان داد. حالا چند شکلات برای جواد باقی مانده است؟ (به کمک شکل)



تدریس خصوصی ریاضی به صورت حضوری و آنلاین با دبیران حرفه ای و پیگیری قدرتمند در مدرسه

۸۸۹۰۴۰۰۲ - ۸۸۹۰۶۹۰۹ - ۲۶۵۷۰۸۱۰ - ۴۴۰۲۵۸۶۰

کد تهران ۰۲۱

پاسخ :



$$۲۶ - ۸ - ۵ = ۲۳$$

ایمان

علی

۲۳ شکلات برای جواد باقی مانده است.

۱۸ .

(۵ نمره)

در یک تنگ ۶ ماهی بود. ۳ ماهی مرده اند. حال در تنگ چند ماهی است؟

پاسخ :

$$۶ - ۳ = ۳$$

۱۹ .

(۵ نمره)

عدد ( سی و نه ) به رقم برابر با کدام گزینه است؟

پاسخ :

$$۳۹ = \text{سی و نه}$$



تدریس خصوصی ریاضی به صورت حضوری و آنلاین با دبیران حرفه ای و پیگیری قدرتمند در مدرسه

۴۴۰۲۵۸۶۰ - ۲۶۵۷۰۸۱۰ - ۸۸۹۰۶۹۰۹ - ۸۸۹۰۴۰۰۲

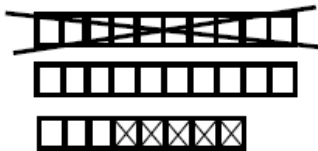
کد تهران ۰۲۱

۲۰.

(۴ نمره)

کتابی ۲۸ صفحه دارد. مریم ۱۵ صفحه از این کتاب را خوانده است. چند صفحه باقی مانده است؟

پاسخ:



$$28 - 15 = 13$$

۱۳ صفحه باقی مانده است.

۲۱.

(۵ نمره)

حاصل عبارت مقابل کدام است؟

$$20 + 30 + 6 + 4 = \square$$

پاسخ:

$$20 + 30 + 6 + 4 = \boxed{60}$$