



تدریس خصوصی ریاضی به صورت حضوری و آنلاین با دبیران حرفه ای و پیگیری قدرتمند در مدرسه

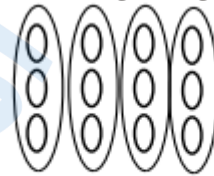
۴۴۰۲۵۸۶۰ - ۲۶۵۷۰۸۱۰ - ۸۸۹۰۶۹۰۹ - ۸۸۹۰۴۰۰۲

کد تهران ۰۲۱

۱.

(۴ نمره)

با توجه به شکل زیر پاسخ صحیح کدام گزینه است؟



$$\dots + \dots + \dots + \dots = \dots$$

۲.


(۴ نمره)


مریم در یک ساختمان ۹ طبقه زندگی می کند. واحد های این ساختمان به این ترتیب می باشند که: طبقه ی اول ۴ واحد، طبقه ی دوم ۳ واحد و به همین ترتیب طبقه ی بعدی ۴ و بعدی ۳ و تا طبقه ی نهم. اگر خانه مریم در طبقه ی هفتم و دومین واحد باشد، چند واحد قبل از او می باشد؟

۳.

(۴ نمره)

کدام گزینه شکل بعدی در الگوی زیر می باشد؟





تدریس خصوصی ریاضی به صورت حضوری و آنلاین با دبیران حرفه ای و پیگیری قدرتمند در مدرسه

۸۸۹۰۴۰۰۲ - ۸۸۹۰۶۹۰۹ - ۲۶۵۷۰۸۱۰ - ۴۴۰۲۵۸۶۰

کد تهران ۰۲۱

۴.

(۵ نمره)

الگوی عددی زیر را ادامه دهید. (دبستان پورجندق - رفسنجان ۱۴۰۲)

..., ..., ..., ۲۲۰۰, ۲۴۰۰, ۲۶۰۰

۵.

(۴ نمره)

۲ یکی و ۸ هزار تایی می شود

۶.

(۵ نمره)

۸۳۰۰ گرم یعنی کیلوگرم و گرم

۷.

(۴ نمره)

خانم میرزایی یک مسیر ۲ کیلومتری را پیاده روی می کند در بین راه ۳ بار استراحت می کند. دفعه اول بعد از یک کیلومتر، دفعه دوم ۴۰۰ متر و دفعه سوم در فاصله ۳۰۰ متری مانده به پایان مسیر استراحت می کند. خانم میرزایی از ابتدا تا سومین دفعه ای که استراحت کرده چقدر راه پیموده است؟

۸.

(۴ نمره)



تدریس خصوصی ریاضی به صورت حضوری و آنلاین با دبیران حرفه ای و پیگیری قدرتمند در مدرسه

۴۴۰۲۵۸۶۰ - ۲۶۵۷۰۸۱۰ - ۸۸۹۰۶۹۰۹ - ۸۸۹۰۴۰۰۲

کد تهران ۰۲۱

۴ تا بسته هزارتایی + ۱۲ تا بسته صد تایی + ۵ تا ده تایی + ۷ یکی برابر است با:

۹.

(۵ نمره)



در جای خالی چه علامتی قرار دهیم تا مقایسه صحیح باشد؟

$$\frac{1}{15} \square \frac{1}{50}$$

۱۰.

(۴ نمره)

شکل بعدی در الگوی زیر کدام است؟



،

۱۱.

(۴ نمره)



تدریس خصوصی ریاضی به صورت حضوری و آنلاین با دبیران حرفه ای و پیگیری قدرتمند در مدرسه

۴۴۰۲۵۸۶۰ - ۲۶۵۷۰۸۱۰ - ۸۸۹۰۶۹۰۹ - ۸۸۹۰۴۰۰۲

کد تهران ۰۲۱

علامت مناسب قرار دهید.

$\frac{1}{2}$ واحد بعد از عدد ۴ \square $\frac{1}{5}$ واحد بعد از عدد ۴

. ۱۲

(۴ نمره)

۹ متر و ۱۵ سانتی متر یعنی سانتی متر. (سرای دانش - تهران ۱۴۰۲)

. ۱۳

(۴ نمره)

به دو خطی که هیچ وقت همدیگر را قطع نمی کنند می گویند. (دبستان یاس-لاهیجان ۱۴۰۲)

. ۱۴

(۵ نمره)

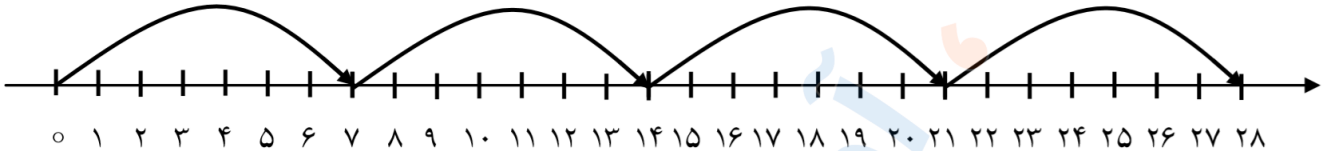


تدریس خصوصی ریاضی به صورت حضوری و آنلاین با دبیران حرفه ای و پیگیری قدرتمند در مدرسه

۸۸۹۰۴۰۰۲ - ۸۸۹۰۶۹۰۹ - ۲۶۵۷۰۸۱۰ - ۴۴۰۲۵۸۶۰

کد تهران ۰۲۱

کدام عملیات برای محور زیر صحیح است؟



.....

۱۵.

(۴ نمره)

در مستطیل طول‌های روبه‌رو و عرض‌های روبه‌رو با یکدیگر هستند. (دبستان یاس-لاهیجان ۱۴۰۲)

۱۶.

(۴ نمره)

مادر پانسیا برای هر پیراهن ۵ دگمه می‌دوزد، ۱۵ دگمه را برای چند پیراهن استفاده می‌کند؟

(دبستان یاس-لاهیجان ۱۴۰۲)

۱۷.

(۴ نمره)

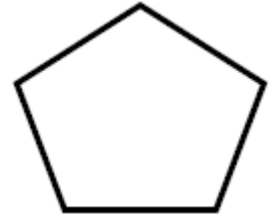


تدریس خصوصی ریاضی به صورت حضوری و آنلاین با دبیران حرفه ای و پیگیری قدرتمند در مدرسه

۸۸۹۰۴۰۰۲ - ۸۸۹۰۶۹۰۹ - ۲۶۵۷۰۸۱۰ - ۴۴۰۲۵۸۶۰

کد تهران ۰۲۱

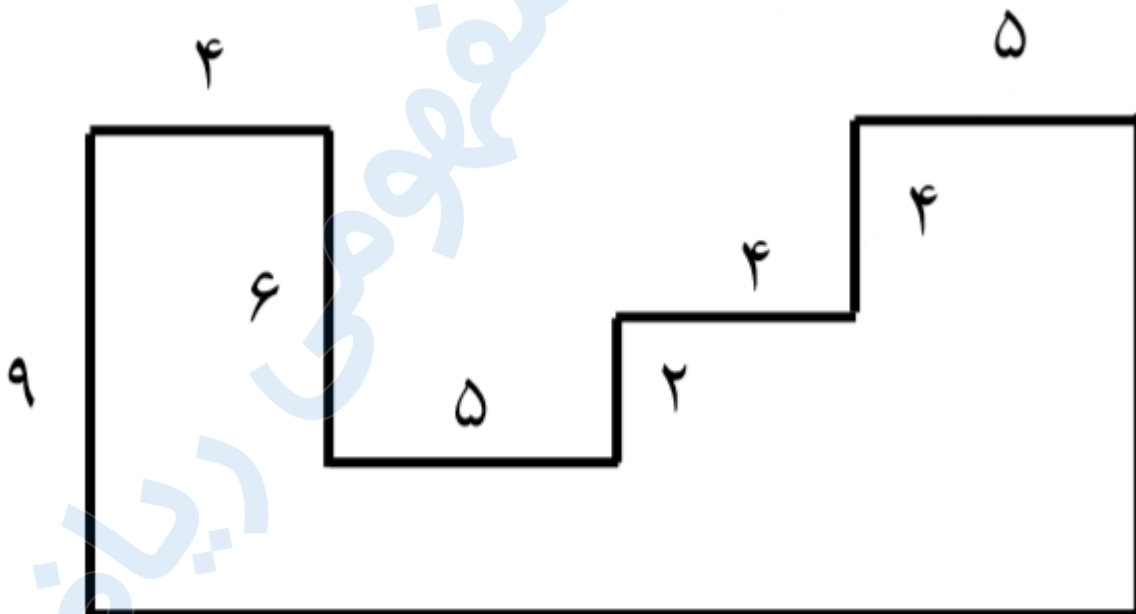
شکل زیر به ترتیب چند گوشه و قطر دارد؟



۱۸.

(۴ نمره)

محیط شکل زیر کدام گزینه است؟





تدریس خصوصی ریاضی به صورت حضوری و آنلاین با دبیران حرفه ای و پیگیری قدرتمند در مدرسه

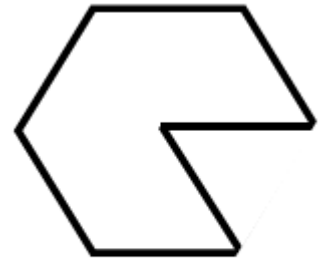
۴۴۰۲۵۸۶۰ - ۲۶۵۷۰۸۱۰ - ۸۸۹۰۶۹۰۹ - ۸۸۹۰۴۰۰۲

کد تهران ۰۲۱

۱۹.

(۴ نمره)

محیط شکل مقابل کدام یک از گزینه های زیر است؟

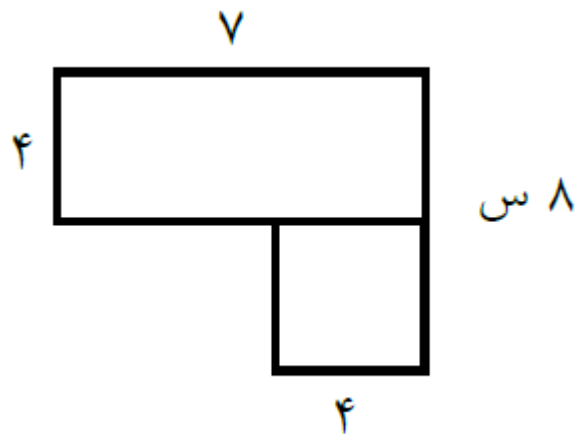


۸ س

۲۰.

(۴ نمره)

مساحت شکل مقابل کدام است؟





تدریس خصوصی ریاضی به صورت حضوری و آنلاین با دبیران حرفه ای و پیگیری قدرتمند در مدرسه

۸۸۹۰۴۰۰۲ - ۸۸۹۰۶۹۰۹ - ۲۶۵۷۰۸۱۰ - ۴۴۰۲۵۸۶۰

کد تهران ۰۲۱

. ۲۱

(۴ نمره)

حاصل جمع زیر را به روش فرآیندی انجام داده و جواب آخر را مشخص کنید.

$$\begin{array}{r} 4231 \\ + 1541 \\ \hline \end{array}$$

. ۲۲

(۴ نمره)

تفریق زیر را به روش فرآیندی انجام داده و جواب آخر را مشخص نمایید.

$$\begin{array}{r} 8671 \\ - 3154 \\ \hline \end{array}$$

. ۲۳

(۴ نمره)

فاصله ۸۹۸ تا ۱۰۰۰ چقدر است؟

. ۲۴



تدریس خصوصی ریاضی به صورت حضوری و آنلاین با دبیران حرفه ای و پیگیری قدرتمند در مدرسه

۸۸۹۰۴۰۰۲ - ۸۸۹۰۶۹۰۹ - ۲۶۵۷۰۸۱۰ - ۴۴۰۲۵۸۶۰

کد تهران ۰۲۱

(۴ نمره)

۲۳۲۲

با تکمیل شکل داده شده جواب تفریق را به دست بیاورید.

-۱۲۳۱

راهنمایی معلم:

