



تدریس خصوصی ریاضی به صورت حضوری و آنلاین با دبیران حرفه ای و پیگیری قدرتمند در مدرسه

۴۴۰۲۵۸۶۰ - ۲۶۵۷۰۸۱۰ - ۸۸۹۰۶۹۰۹ - ۸۸۹۰۴۰۰۲

کد تهران ۰۲۱

. ۱

(۴ نمره)

۸۲ برابر با هشت ده تایی و دو است

. ۲

(۴ نمره)

حاصل را به دست آورید
 $16 + 9 =$

. ۳

(۴ نمره)

برنامه ورزشی اولین دوره علی به این صورت می باشد.
۳ روز ورزش ، ۱ روز استراحت ، دوباره ۴ روز ورزش ، ۱ روز استراحت
امروز روز نهم ماه است . اگر علی دیروز ورزش را شروع کرده باشد ، این دوره را در چندمین روز ماه تمام می کند؟

. ۴

(۵ نمره)

آقای رضایی در بانک است و حدودا هر ۸ دقیقه یک بار شماره جدید خوانده می شود. شماره آقای رضایی ۵۱ می باشد و شماره ۴۸ خوانده شده است. حدودا چند دقیقه دیگر نوبت آقای رضایی می شود؟

. ۵

(۴ نمره)

سه یکی و یک دسته ده تایی و به اضافه ۵ یکی می شود



تدریس خصوصی ریاضی به صورت حضوری و آنلاین با دبیران حرفه ای و پیگیری قدرتمند در مدرسه


۸۸۹۰۴۰۰۲ - ۸۸۹۰۶۹۰۹ - ۲۶۵۷۰۸۱۰ - ۴۴۰۲۵۸۶۰

کد تهران ۰۲۱

۶.

(۴ نمره)


ساعت چند است؟



۷.

(۴ نمره)

ساعت چند است؟



ساعت و دقیقه است.



تدریس خصوصی ریاضی به صورت حضوری و آنلاین با دبیران حرفه ای و پیگیری قدرتمند در مدرسه

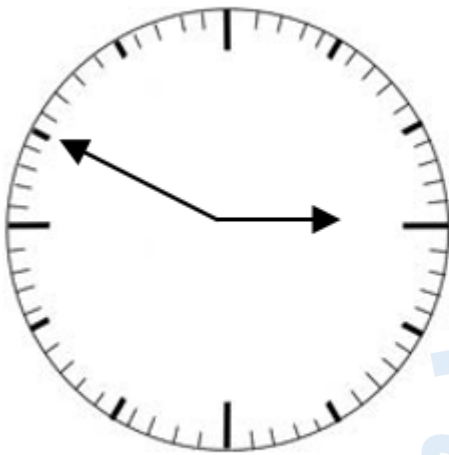
۸۸۹۰۴۰۰۲ - ۸۸۹۰۶۹۰۹ - ۲۶۵۷۰۸۱۰ - ۴۴۰۲۵۸۶۰

کد تهران ۰۲۱

. ۸

(۴ نمره)

ساعت نشان داده شده را بنویسید.



ساعت:

. ۹

(۵ نمره)

شکل پنج ضلعی را رسم کرده و خط تقارنی برای آن بیابید. (سرای دانش - خرداد ۱۴۰۲)

. ۱۰

(۴ نمره)




تدریس خصوصی ریاضی به صورت حضوری و آنلاین با دبیران حرفه ای و پیگیری قدرتمند در مدرسه

۴۴۰۲۵۸۶۰ - ۲۶۵۷۰۸۱۰ - ۸۸۹۰۶۹۰۹ - ۸۸۹۰۴۰۰۲

کد تهران ۰۲۱

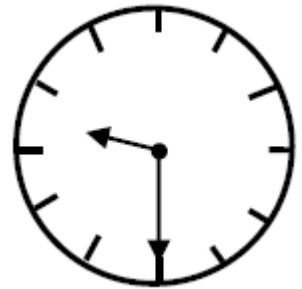
نام شکل زیر را بنویسید. (دبستان فدک نور - آذرشهر ۱۴۰۰)



. ۱۱

(۴ نمره)

زمانی که این ساعت نشان می دهد به فارسی برابر با کدام گزینه است؟



. ۱۲

(۴ نمره)




تدریس خصوصی ریاضی به صورت حضوری و آنلاین با دبیران حرفه ای و پیگیری قدرتمند در مدرسه

۴۴۰۲۵۸۶۰ - ۲۶۵۷۰۸۱۰ - ۸۸۹۰۶۹۰۹ - ۸۸۹۰۴۰۰۲

کد تهران ۰۲۱

عقربه بزرگ چند دقیقه حرکت کند تا ساعت ۳ شود؟



۱۳.

(۴ نمره)

اگر عدد ۸۹۳ را به صورت گسترده بنویسیم پاسخ صحیح کدام گزینه است؟

۱۴.

(۴ نمره)

۱۰ سکه ۱۰ ریالی برابر است با سکه ۱ ریالی .

۱۵.

(۴ نمره)

۳۴۰ یعنی یکی صدتایی و ده تایی .

۱۶.



تدریس خصوصی ریاضی به صورت حضوری و آنلاین با دبیران حرفه ای و پیگیری قدرتمند در مدرسه

۸۸۹۰۴۰۰۲ - ۸۸۹۰۶۹۰۹ - ۲۶۵۷۰۸۱۰ - ۴۴۰۲۵۸۶۰

کد تهران ۰۲۱

(۵ نمره)

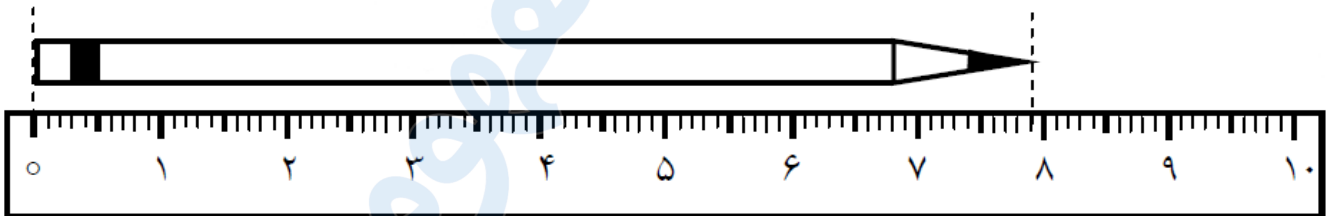
مقدار پول را به دست آورید. (دبستان سرای دانش-تهران ۱۴۰۲)



۱۷.

(۴ نمره)

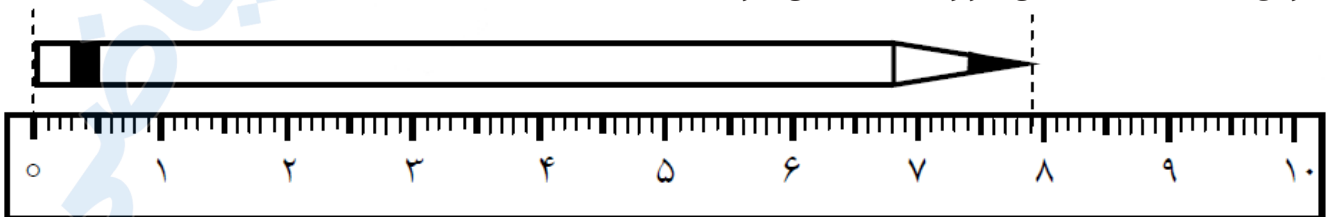
اندازه ی طول این مداد از سانتی متر بیشتر و از سانتی متر کم تر است .




۱۸.

(۴ نمره)

اندازه ی مداد سانتی متر و میلی متر است .





تدریس خصوصی ریاضی به صورت حضوری و آنلاین با دبیران حرفه ای و پیگیری قدرتمند در مدرسه

۸۸۹۰۴۰۰۲ - ۸۸۹۰۶۹۰۹ - ۲۶۵۷۰۸۱۰ - ۴۴۰۲۵۸۶۰

کد تهران ۰۲۱

. ۱۹

(۴ نمره)

۱۲۵ میلی‌متر = سانتی‌متر و میلی‌متر

. ۲۰

(۵ نمره)

در مزرعه ای تعدادی گوسفند و مرغ وجود دارد . آن ها روی هم ۹ سر و ۲۸ پا دارند . در این مزرعه چند گوسفند و مرغ وجود دارد ؟

. ۲۱

(۴ نمره)

پاسخ جمع زیر کدام گزینه است؟

$$\begin{array}{r} 471 \\ +325 \\ \hline \end{array}$$

. ۲۲

(۴ نمره)

علامت مناسب بگذارید

$$200 + 30 + 1 \quad \bigcirc \quad 231$$



تدریس خصوصی ریاضی به صورت حضوری و آنلاین با دبیران حرفه ای و پیگیری قدرتمند در مدرسه

۸۸۹۰۴۰۰۲ - ۸۸۹۰۶۹۰۹ - ۲۶۵۷۰۸۱۰ - ۴۴۰۲۵۸۶۰

کد تهران ۰۲۱

۲۳.

(۴ نمره)

قد مینا ۱۴۹ سانتی متر است . قد برادرش ۲۰ سانتی متر از او کوتاه تر است . قد برادر مینا چند سانتی متر است ؟

۲۴.

(۴ نمره)

مقایسه کنید.

۳۴۲ ۳۲۲

نهصد و نه نهصد و نود