



تدریس خصوصی ریاضی به صورت حضوری و آنلاین با دبیران حرفه ای و پیگیری قدرتمند در مدرسه

۸۸۹۰۴۰۰۲ - ۸۸۹۰۶۹۰۹ - ۲۶۵۷۰۸۱۰ - ۴۴۰۲۵۸۶۰

کد تهران ۰۲۱

۱.

(۴ نمره)

۸۲ برابر با هشت ده تایی و دو .... است

پاسخ :

۸۲ هشت ده تایی و دو یکی است

۲.

(۴ نمره)

حاصل را به دست آورید  
 $۱۶ + ۹ =$

پاسخ :

۲۵

۳.

(۴ نمره)

برنامه ورزشی اولین دوره علی به این صورت می باشد.  
۳ روز ورزش ، ۱ روز استراحت ، دوباره ۴ روز ورزش ، ۱ روز استراحت  
امروز روز نهم ماه است . اگر علی دیروز ورزش را شروع کرده باشد ، این دوره را در چندمین روز ماه تمام می کند؟

پاسخ :



تدریس خصوصی ریاضی به صورت حضوری و آنلاین با دبیران حرفه ای و پیگیری قدرتمند در مدرسه

۴۴۰۲۵۸۶۰ - ۲۶۵۷۰۸۱۰ - ۸۸۹۰۶۹۰۹ - ۸۸۹۰۴۰۰۲

کد تهران ۰۲۱

امروز نهم است ← دیروز هشتم بوده است.

$$\textcircled{8} + 3 + 1 + 4 + 1 = \textcircled{17}$$

ورزش استراحت ورزش

. ۴

(۵ نمره)

آقای رضایی در بانک است و حدوداً هر ۸ دقیقه یک بار شماره جدید خوانده می شود. شماره آقای رضایی ۵۱ می باشد و شماره ۴۸ خوانده شده است. حدوداً چند دقیقه دیگر نوبت آقای رضایی می شود؟

پاسخ :

$$51 - 48 = 3$$

$$8 + 8 + 8 = 24$$

. ۵

(۴ نمره)

سه یکی و یک دسته ده تایی و به اضافه ۵ یکی می شود .....

پاسخ :



تدریس خصوصی ریاضی به صورت حضوری و آنلاین با دبیران حرفه ای و پیگیری قدرتمند در مدرسه

۸۸۹۰۴۰۰۲ - ۸۸۹۰۶۹۰۹ - ۲۶۵۷۰۸۱۰ - ۴۴۰۲۵۸۶۰

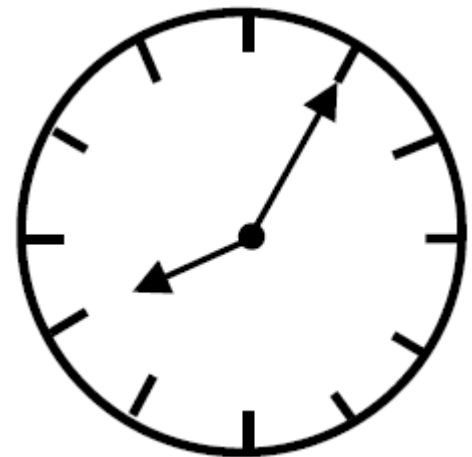
کد تهران ۰۲۱

۱۳۵۱۸

۶.

(۴ نمره)

ساعت چند است؟



پاسخ :

ساعت ۸:۵

۷.

(۴ نمره)



تدریس خصوصی ریاضی به صورت حضوری و آنلاین با دبیران حرفه ای و پیگیری قدرتمند در مدرسه

۸۸۹۰۴۰۰۲ - ۸۸۹۰۶۹۰۹ - ۲۶۵۷۰۸۱۰ - ۴۴۰۲۵۸۶۰

کد تهران ۰۲۱

ساعت چند است؟



ساعت ..... و ..... دقیقه است.

پاسخ :

ساعت ۱۱ و ۵۵ دقیقه است.

(۴ نمره)

. ۸

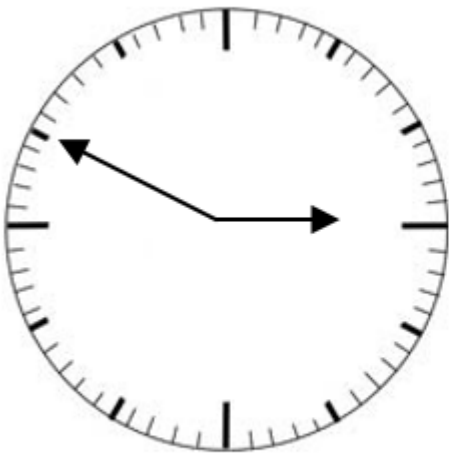


تدریس خصوصی ریاضی به صورت حضوری و آنلاین با دبیران حرفه ای و پیگیری قدرتمند در مدرسه

۸۸۹۰۴۰۰۲ - ۸۸۹۰۶۹۰۹ - ۲۶۵۷۰۸۱۰ - ۴۴۰۲۵۸۶۰

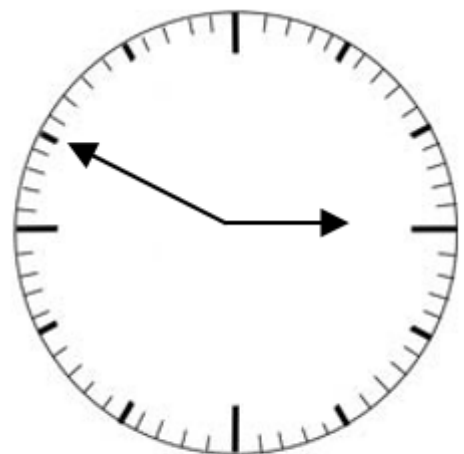
کد تهران ۰۲۱

ساعت نشان داده شده را بنویسید.



ساعت: .....

پاسخ:



ساعت: ۲ و ۵۰ دقیقه



تدریس خصوصی ریاضی به صورت حضوری و آنلاین با دبیران حرفه ای و پیگیری قدرتمند در مدرسه

۴۴۰۲۵۸۶۰ - ۲۶۵۷۰۸۱۰ - ۸۸۹۰۶۹۰۹ - ۸۸۹۰۴۰۰۲

کد تهران ۰۲۱

.۹

(۵ نمره)

شکل پنج ضلعی را رسم کرده و خط تقارنی برای آن بیابید. (سرای دانش - خرداد ۱۴۰۲)

پاسخ :



.۱۰

(۴ نمره)

نام شکل زیر را بنویسید. (دبستان فدک نور - آذرشهر ۱۴۰۰)





تدریس خصوصی ریاضی به صورت حضوری و آنلاین با دبیران حرفه ای و پیگیری قدرتمند در مدرسه

۸۸۹۰۴۰۰۲ - ۸۸۹۰۶۹۰۹ - ۲۶۵۷۰۸۱۰ - ۴۴۰۲۵۸۶۰

کد تهران ۰۲۱

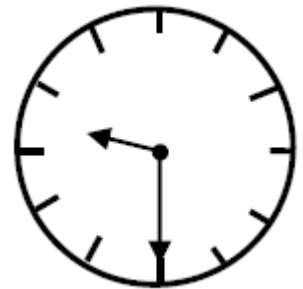
پاسخ :

دایره

. ۱۱

(۴ نمره)

زمانی که این ساعت نشان می دهد به فارسی برابر با کدام گزینه است؟




پاسخ :



تدریس خصوصی ریاضی به صورت حضوری و آنلاین با دبیران حرفه ای و پیگیری قدرتمند در مدرسه

۸۸۹۰۴۰۰۲ - ۸۸۹۰۶۹۰۹ - ۲۶۵۷۰۸۱۰ - ۴۴۰۲۵۸۶۰

کد تهران ۰۲۱

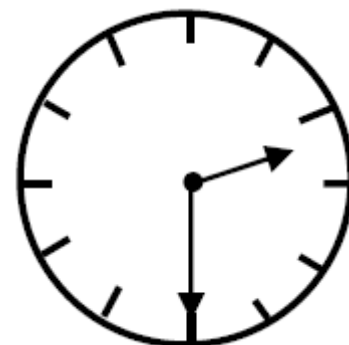


نه و نیم

۱۲.

(۴ نمره)

عقربه بزرگ چند دقیقه حرکت کند تا ساعت ۳ شود؟



پاسخ :





تدریس خصوصی ریاضی به صورت حضوری و آنلاین با دبیران حرفه ای و پیگیری قدرتمند در مدرسه

۸۸۹۰۴۰۰۲ - ۸۸۹۰۶۹۰۹ - ۲۶۵۷۰۸۱۰ - ۴۴۰۲۵۸۶۰

کد تهران ۰۲۱

۳۰ دقیقه مانده به ۳

۱۳.

(۴ نمره)

اگر عدد ۸۹۳ را به صورت گسترده بنویسیم پاسخ صحیح کدام گزینه است؟

پاسخ:

$$۸۹۳ = ۸۰۰ + ۹۰ + ۳$$

۱۴.

(۴ نمره)

۱۰ سکه ۱۰۰ ریالی برابر است با ..... سکه ۱ ریالی .

پاسخ:

۱۰ سکه ۱۰۰ ریالی برابر است با ۱۰۰ سکه ۱ ریالی .

۱۵.

(۴ نمره)



تدریس خصوصی ریاضی به صورت حضوری و آنلاین با دبیران حرفه ای و پیگیری قدرتمند در مدرسه

۴۴۰۲۵۸۶۰ - ۲۶۵۷۰۸۱۰ - ۸۸۹۰۶۹۰۹ - ۸۸۹۰۴۰۰۲

کد تهران ۰۲۱

۳۴۰ یعنی ..... یکی ..... صدتایی و ..... ده تایی .

پاسخ :

۳۴۰ یعنی ۰ یکی ۳ صدتایی و ۴ ده تایی .

. ۱۶

(۵ نمره)

مقدار پول را به دست آورید. (دبستان سرای دانش-تهران ۱۴۰۲)



پاسخ :

۴۴۴

. ۱۷

(۴ نمره)

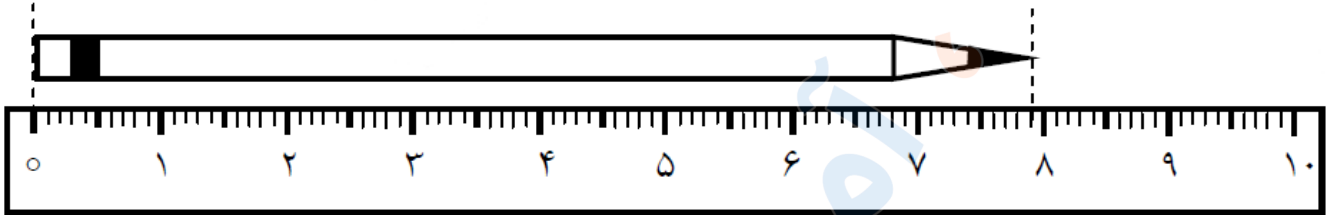


تدریس خصوصی ریاضی به صورت حضوری و آنلاین با دبیران حرفه ای و پیگیری قدرتمند در مدرسه

۸۸۹۰۴۰۰۲ - ۸۸۹۰۶۹۰۹ - ۲۶۵۷۰۸۱۰ - ۴۴۰۲۵۸۶۰

کد تهران ۰۲۱

اندازه ی طول این مداد از ..... سانتی متر بیشتر و از ..... سانتی متر کم تر است .



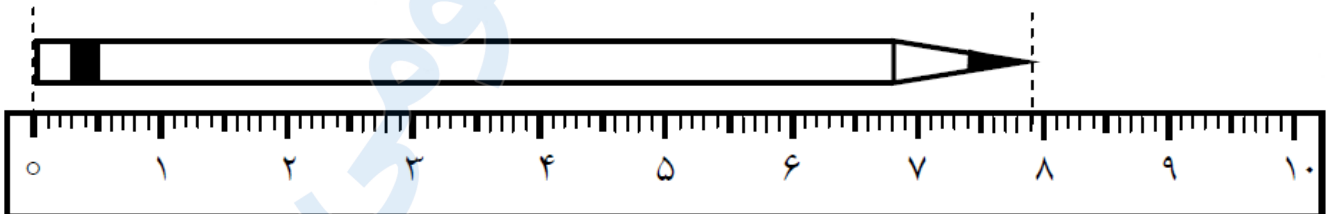
پاسخ :

اندازه ی طول این مداد از ۷ سانتی متر بیشتر و از ۸ سانتی متر کم تر است .

۱۸ .

(۴ نمره)

اندازه ی مداد ..... سانتی متر و ..... میلی متر است .



پاسخ :

اندازه ی مداد ۷ سانتی متر و ۹ میلی متر است .



تدریس خصوصی ریاضی به صورت حضوری و آنلاین با دبیران حرفه ای و پیگیری قدرتمند در مدرسه

۴۴۰۲۵۸۶۰ - ۲۶۵۷۰۸۱۰ - ۸۸۹۰۶۹۰۹ - ۸۸۹۰۴۰۰۲

کد تهران ۰۲۱

. ۱۹

(۴ نمره)

۱۲۵ میلی‌متر = ..... سانتی‌متر و ..... میلی‌متر

پاسخ :

۱۲۵ میلی‌متر = ۱۲ سانتی‌متر و ۵ میلی‌متر

. ۲۰

(۵ نمره)

در مزرعه ای تعدادی گوسفند و مرغ وجود دارد . آن ها روی هم ۹ سر و ۲۸ پا دارند . در این مزرعه چند گوسفند و مرغ وجود دارد ؟

پاسخ :

تعداد سر ها برابر است با تعداد گوسفند ها و مرغ ها

$$۵ \times ۴ = ۲۰$$

$$۴ \times ۲ = ۸$$

. ۲۱



تدریس خصوصی ریاضی به صورت حضوری و آنلاین با دبیران حرفه ای و پیگیری قدرتمند در مدرسه

۴۴۰۲۵۸۶۰ - ۲۶۵۷۰۸۱۰ - ۸۸۹۰۶۹۰۹ - ۸۸۹۰۴۰۰۲

کد تهران ۰۲۱

(۴ نمره)

پاسخ جمع زیر کدام گزینه است؟

$$\begin{array}{r} 471 \\ + 325 \\ \hline \end{array}$$

پاسخ :

$$\begin{array}{r} 471 \\ + 325 \\ \hline 796 \\ + 20 \\ \hline 816 \\ + 5 \\ \hline 821 \end{array}$$

. ۲۲

(۴ نمره)

علامت مناسب بگذارید

$$200 + 30 + 1 \quad \bigcirc \quad 231$$

پاسخ :



تدریس خصوصی ریاضی به صورت حضوری و آنلاین با دبیران حرفه ای و پیگیری قدرتمند در مدرسه

۴۴۰۲۵۸۶۰ - ۲۶۵۷۰۸۱۰ - ۸۸۹۰۶۹۰۹ - ۸۸۹۰۴۰۰۲

کد تهران ۰۲۱

$$۲۳۱ = ۲۳۱$$

. ۲۳

(۴ نمره)

قد مینا ۱۴۹ سانتی متر است . قد برادرش ۲۰ سانتی متر از او کوتاه تر است . قد برادر مینا چند سانتی متر است ؟

پاسخ :

$$۱۴۹ - ۲۰ = ۱۲۹$$

. ۲۴

(۴ نمره)

مقایسه کنید.

نهد و نه  نهد و نود  ۳۴۲  ۳۲۲

پاسخ :

نهد و نه > نهد و نود  $۳۴۲ > ۳۲۲$