



تدریس خصوصی ریاضی به صورت حضوری و آنلاین با دبیران حرفه ای و پیگیری قدرتمند در مدرسه

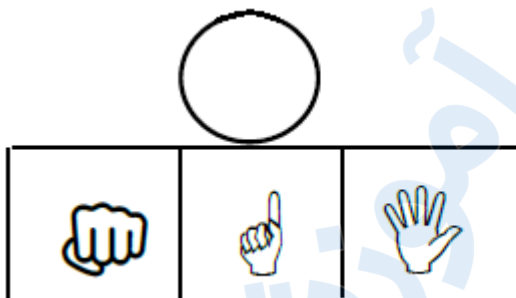
۸۸۹۰۴۰۰۲ - ۸۸۹۰۶۹۰۹ - ۲۶۵۷۰۸۱۰ - ۴۴۰۲۵۸۶۰

کد تهران ۰۲۱

۱.


(۵ نمره)

شکل مناسب را وصل کن.



۲.

(۵ نمره)

به شکل‌ها دو تا  اضافه کن و چوب خط بکش.



۳.

(۵ نمره)

ادامه بده.





تدریس خصوصی ریاضی به صورت حضوری و آنلاین با دبیران حرفه ای و پیگیری قدرتمند در مدرسه

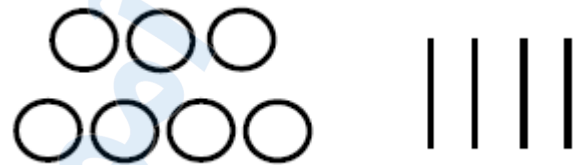
۴۴۰۲۵۸۶۰ - ۲۶۵۷۰۸۱۰ - ۸۸۹۰۶۹۰۹ - ۸۸۹۰۴۰۰۲

کد تهران ۰۲۱

. ۴

(۵ نمره)

اگر به اندازه چوب خط ها از دایره ها خط بزنید، حاصل چند دایره است؟



. ۵

(۵ نمره)

با کشیدن چوب خط بگو شکل های سمت راست و چپ با هم چندتا است؟



. ۶

(۵ نمره)




تدریس خصوصی ریاضی به صورت حضوری و آنلاین با دبیران حرفه ای و پیگیری قدرتمند در مدرسه

۸۸۹۰۴۰۰۲ - ۸۸۹۰۶۹۰۹ - ۲۶۵۷۰۸۱۰ - ۴۴۰۲۵۸۶۰

کد تهران ۰۲۱

شکلی که مشابهی ندارد را مشخص کنید.



. ۷

(۵ نمره)

با روش دلخواه جواب دهید.

$$۵ + ۲ =$$

. ۸

(۵ نمره)

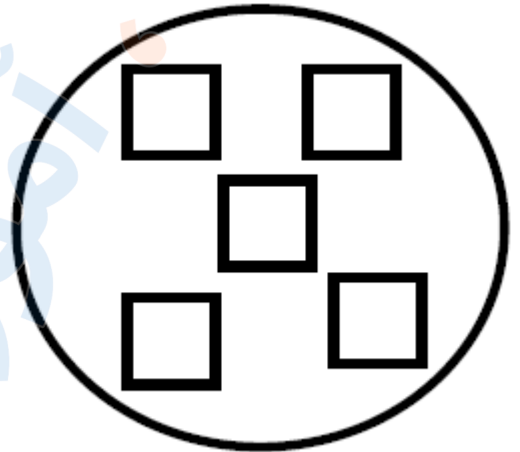


تدریس خصوصی ریاضی به صورت حضوری و آنلاین با دبیران حرفه ای و پیگیری قدرتمند در مدرسه

۸۸۹۰۴۰۰۲ - ۸۸۹۰۶۹۰۹ - ۲۶۵۷۰۸۱۰ - ۴۴۰۲۵۸۶۰


کد تهران ۰۲۱

یکی کمتر از عددی که در شکل نشان داده شده است را مشخص کنید.



.۹

(۵ نمره)



.۱۰

(۵ نمره)



تدریس خصوصی ریاضی به صورت حضوری و آنلاین با دبیران حرفه ای و پیگیری قدرتمند در مدرسه

۸۸۹۰۴۰۰۲ - ۸۸۹۰۶۹۰۹ - ۲۶۵۷۰۸۱۰ - ۴۴۰۲۵۸۶۰

کد تهران ۰۲۱

آلورا ادامه بده



۱۱.

(۵ نمره)

برای شکل زیر یک جمع مناسب انتخاب کنید.



۱۲.

(۵ نمره)

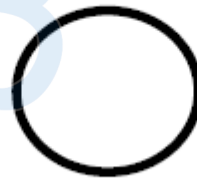
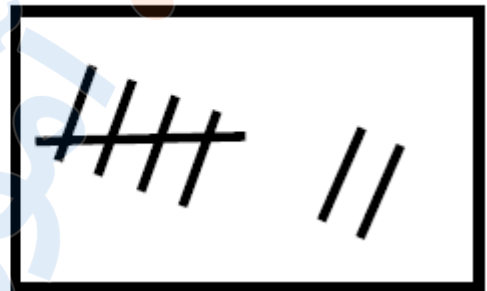
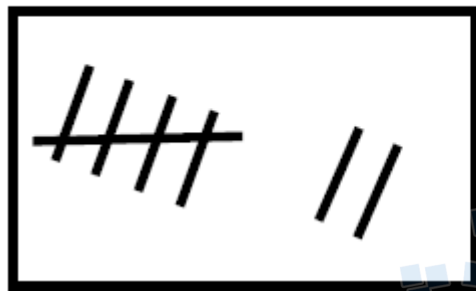


تدریس خصوصی ریاضی به صورت حضوری و آنلاین با دبیران حرفه ای و پیگیری قدرتمند در مدرسه

۴۴۰۲۵۸۶۰ - ۲۶۵۷۰۸۱۰ - ۸۸۹۰۶۹۰۹ - ۸۸۹۰۴۰۰۲

کد تهران ۰۲۱

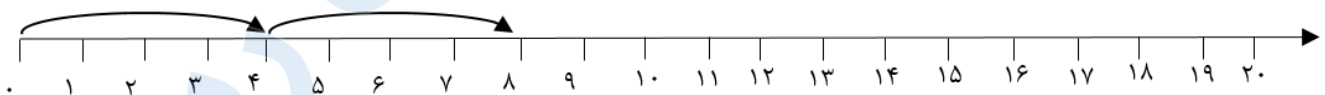
هر دسته را بشمارید و علامت مناسب <=> را انتخاب کنید.



(۵ نمره)

۱۳.

مانند نمونه روی محور ادامه بده.



۱۴.

(۵ نمره)

علی زیر میز قایم شده بود که ۴ نفر دور میز نشستند. علی چند پا در زیر میز می بیند؟



تدریس خصوصی ریاضی به صورت حضوری و آنلاین با دبیران حرفه ای و پیگیری قدرتمند در مدرسه

۸۸۹۰۴۰۰۲ - ۸۸۹۰۶۹۰۹ - ۲۶۵۷۰۸۱۰ - ۴۴۰۲۵۸۶۰

کد تهران ۰۲۱

۱۵ .

(۵ نمره)

در الگوی زیر به جای مربع چه عددی قرار می گیرد؟



۵۰ ، ۶۰ ، ۷۰

۱۶ .

(۵ نمره)

سارا ۲ تا مداد دارد. پدرش هم به اندازه مدادهای سارا به او مداد می دهد. سارا چند مداد دارد؟

۱۷ .

(۵ نمره)

کدام یک از اعداد زیر از ۲۳ کوچکتر و از ۲۱ بزرگتر است؟

۱۸ .

(۵ نمره)

پارسا ۸ مداد رنگی داشت. ۴ تا از مداد رنگی هایش گم شد. اکنون چند مداد رنگی دارد؟

۱۹ .



تدریس خصوصی ریاضی به صورت حضوری و آنلاین با دبیران حرفه ای و پیگیری قدرتمند در مدرسه

۸۸۹۰۴۰۰۲ - ۸۸۹۰۶۹۰۹ - ۲۶۵۷۰۸۱۰ - ۴۴۰۲۵۸۶۰

کد تهران ۰۲۱

(۵ نمره)

حسین سه دسته ۱۰ تایی مداد رنگی داشت. پدرش به او ۶ مداد رنگی داد. حسین چند مداد رنگی دارد؟

. ۲۰

(۵ نمره)

چند عدد بین ۶۳ تا ۶۷ وجود دارد؟