



تدریس خصوصی ریاضی به صورت حضوری و آنلاین با دبیران حرفه ای و پیگیری قدرتمند در مدرسه

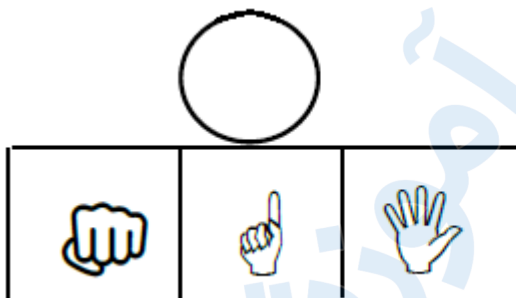
۸۸۹۰۴۰۰۲ - ۸۸۹۰۶۹۰۹ - ۲۶۵۷۰۸۱۰ - ۴۴۰۲۵۸۶۰

کد تهران ۰۲۱

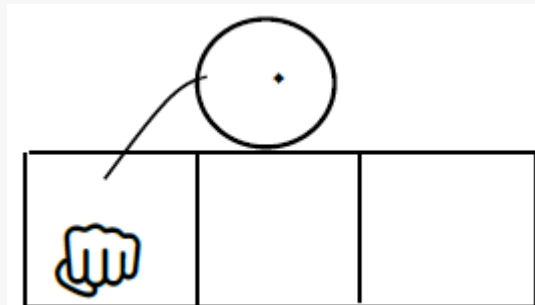
۱.

(۵ نمره)

شکل مناسب را وصل کن.





پاسخ:



۲.

(۵ نمره)

به شکل‌ها دو تا  اضافه کن و چوب خط بکش.



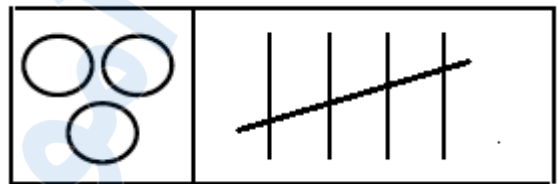


تدریس خصوصی ریاضی به صورت حضوری و آنلاین با دبیران حرفه ای و پیگیری قدرتمند در مدرسه

۸۸۹۰۴۰۰۲ - ۸۸۹۰۶۹۰۹ - ۲۶۵۷۰۸۱۰ - ۴۴۰۲۵۸۶۰

کد تهران ۰۲۱

پاسخ :



۳ .

(۵ نمره)

ادامه بده.



پاسخ :



۴ .

(۵ نمره)

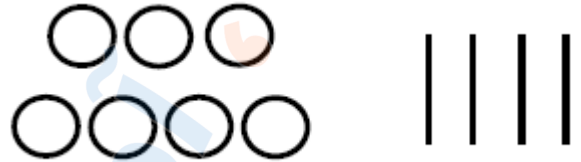


تدریس خصوصی ریاضی به صورت حضوری و آنلاین با دبیران حرفه ای و پیگیری قدرتمند در مدرسه

۴۴۰۲۵۸۶۰ - ۲۶۵۷۰۸۱۰ - ۸۸۹۰۶۹۰۹ - ۸۸۹۰۴۰۰۲

کد تهران ۰۲۱

اگر به اندازه چوب خط ها از دایره ها خط بزنید، حاصل چند دایره است؟



پاسخ :

۳

۵ .

(۵ نمره)

با کشیدن چوب خط بگو شکل های سمت راست و چپ با هم چندتا است؟



پاسخ :





تدریس خصوصی ریاضی به صورت حضوری و آنلاین با دبیران حرفه ای و پیگیری قدرتمند در مدرسه

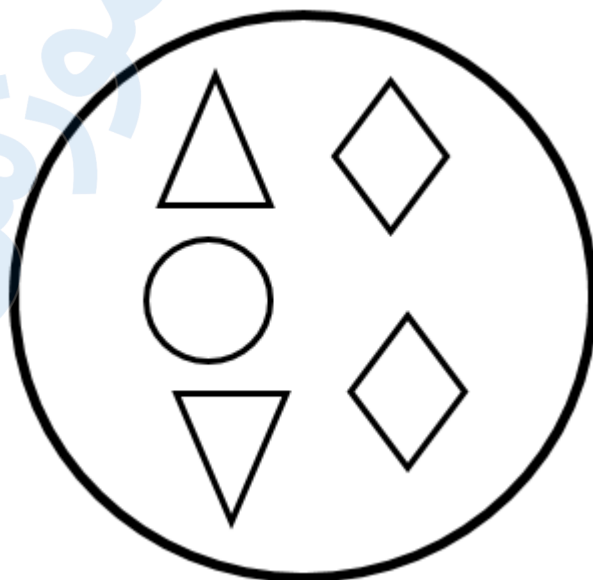
۸۸۹۰۴۰۰۲ - ۸۸۹۰۶۹۰۹ - ۲۶۵۷۰۸۱۰ - ۴۴۰۲۵۸۶۰

کد تهران ۰۲۱

۶.

(۵ نمره)

شکلی که مشابهی ندارد را مشخص کنید.



پاسخ :



۷.

(۵ نمره)



تدریس خصوصی ریاضی به صورت حضوری و آنلاین با دبیران حرفه ای و پیگیری قدرتمند در مدرسه

۴۴۰۲۵۸۶۰ - ۲۶۵۷۰۸۱۰ - ۸۸۹۰۶۹۰۹ - ۸۸۹۰۴۰۰۲

کد تهران ۰۲۱

با روش دلخواه جواب دهید.

$$۵ + ۲ =$$

پاسخ :

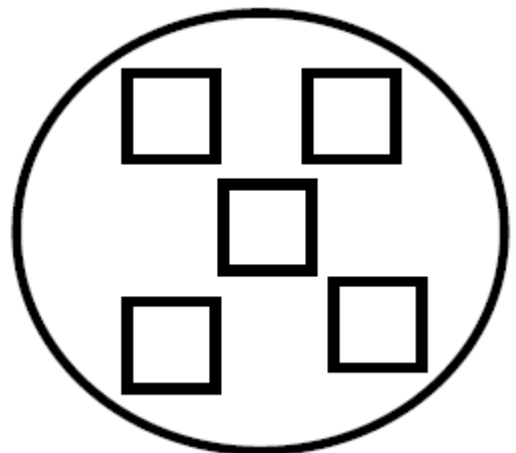
$$۵ + ۲ = ۷$$



۸ .

(۵ نمره)

یکی کمتر از عددی که در شکل نشان داده شده است را مشخص کنید.



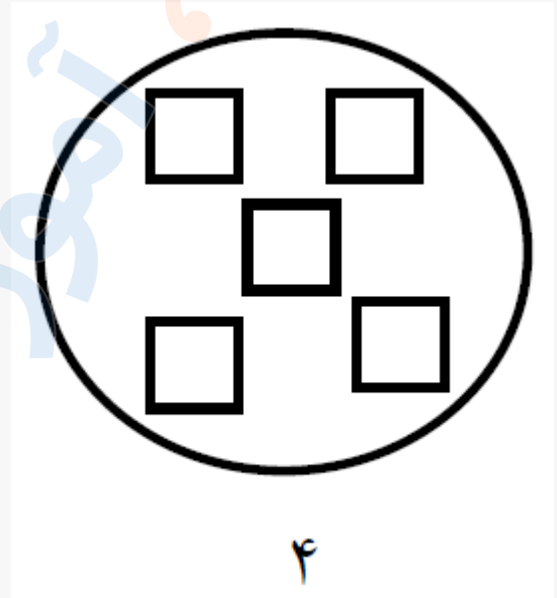


تدریس خصوصی ریاضی به صورت حضوری و آنلاین با دبیران حرفه ای و پیگیری قدرتمند در مدرسه

۸۸۹۰۴۰۰۲ - ۸۸۹۰۶۹۰۹ - ۲۶۵۷۰۸۱۰ - ۴۴۰۲۵۸۶۰

کد تهران ۰۲۱

پاسخ :




.۹

(۵ نمره)



ماترکس مکعبی ۳ تا اضافه کن و تعداد آن را بنویس



پاسخ :



تدریس خصوصی ریاضی به صورت حضوری و آنلاین با دبیران حرفه ای و پیگیری قدرتمند در مدرسه

۸۸۹۰۴۰۰۲ - ۸۸۹۰۶۹۰۹ - ۲۶۵۷۰۸۱۰ - ۴۴۰۲۵۸۶۰

کد تهران ۰۲۱




(۵ نمره)

. ۱۰

آنگورا ادامه بده



پاسخ :



(۵ نمره)

. ۱۱



تدریس خصوصی ریاضی به صورت حضوری و آنلاین با دبیران حرفه ای و پیگیری قدرتمند در مدرسه

۸۸۹۰۴۰۰۲ - ۸۸۹۰۶۹۰۹ - ۲۶۵۷۰۸۱۰ - ۴۴۰۲۵۸۶۰

کد تهران ۰۲۱

برای شکل زیر یک جمع مناسب انتخاب کنید.




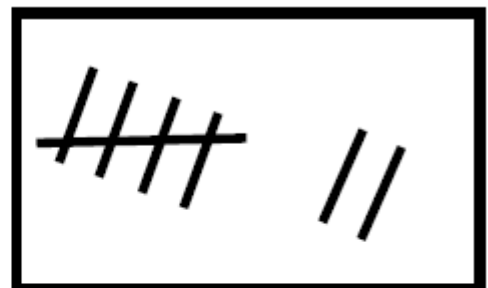
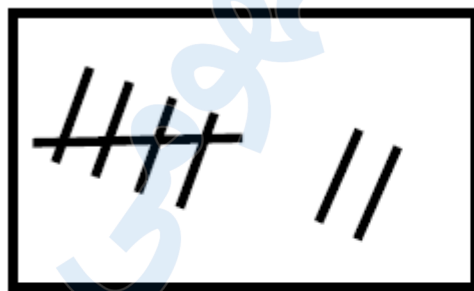
پاسخ :

$$۵ + ۵ = ۱۰$$

۱۲ .

(۵ نمره)

هر دسته را بشمارید و علامت مناسب <=> را انتخاب کنید.



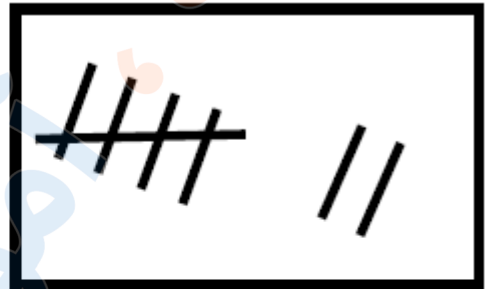
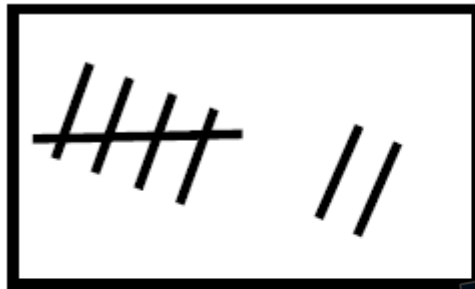
پاسخ :



تدریس خصوصی ریاضی به صورت حضوری و آنلاین با دبیران حرفه ای و پیگیری قدرتمند در مدرسه

۸۸۹۰۴۰۰۲ - ۸۸۹۰۶۹۰۹ - ۲۶۵۷۰۸۱۰ - ۴۴۰۲۵۸۶۰

کد تهران ۰۲۱



√

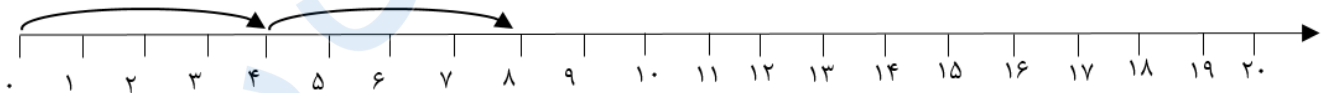


√

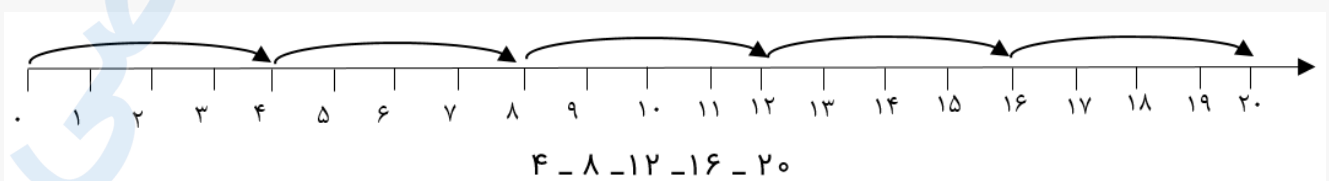
(۵ نمره)

۱۳.

مانند نمونه روی محور ادامه بده.



پاسخ:





تدریس خصوصی ریاضی به صورت حضوری و آنلاین با دبیران حرفه ای و پیگیری قدرتمند در مدرسه

۴۴۰۲۵۸۶۰ - ۲۶۵۷۰۸۱۰ - ۸۸۹۰۶۹۰۹ - ۸۸۹۰۴۰۰۲

کد تهران ۰۲۱

۱۴.

(۵ نمره)

علی زیر میز قایم شده بود که ۴ نفر دور میز نشستند. علی چند پا در زیر میز می بیند؟


پاسخ:

۸

۱۵.

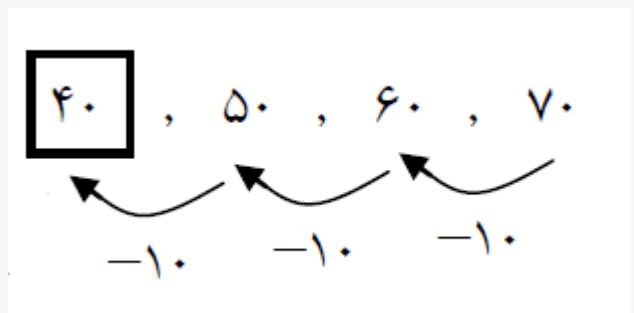
(۵ نمره)

در الگوی زیر به جای مربع چه عددی قرار می گیرد؟



۷۰، ۶۰، ۵۰،

پاسخ:





تدریس خصوصی ریاضی به صورت حضوری و آنلاین با دبیران حرفه ای و پیگیری قدرتمند در مدرسه

۸۸۹۰۴۰۰۲ - ۸۸۹۰۶۹۰۹ - ۲۶۵۷۰۸۱۰ - ۴۴۰۲۵۸۶۰

کد تهران ۰۲۱

۱۶ .

(۵ نمره)

سارا ۲ تا مداد دارد. پدرش هم به اندازه مدادهای سارا به او مداد می‌دهد. سارا چند مداد دارد؟

پاسخ :

$$۲+۲ = ۴$$

۱۷ .

(۵ نمره)

کدام یک از اعداد زیر از ۲۳ کوچکتر و از ۲۱ بزرگتر است؟

پاسخ :

۲۲

۱۸ .

(۵ نمره)

پارسا ۸ مداد رنگی داشت. ۴ تا از مداد رنگی هایش گم شد. اکنون چند مداد رنگی دارد؟

پاسخ :



تدریس خصوصی ریاضی به صورت حضوری و آنلاین با دبیران حرفه ای و پیگیری قدرتمند در مدرسه

۸۸۹۰۴۰۰۲ - ۸۸۹۰۶۹۰۹ - ۲۶۵۷۰۸۱۰ - ۴۴۰۲۵۸۶۰

کد تهران ۰۲۱

$$۸ - ۴ = \boxed{۴}$$

حالا پارسا $\boxed{۴}$ مداد رنگی دارد.

۱۹.

(۵ نمره)

حسین سه دسته ۱۰ تایی مداد رنگی داشت. پدرش به او ۶ مداد رنگی داد. حسین چند مداد رنگی دارد؟

پاسخ:



اکنون حسین ۳۶ مداد رنگی دارد.

۲۰.

(۵ نمره)

چند عدد بین ۶۳ تا ۶۷ وجود دارد؟

پاسخ:

۶۳ - $\textcircled{۶۴}$ - $\textcircled{۶۵}$ - $\textcircled{۶۶}$ - ۶۷

سه عدد بین ۶۳ تا ۶۷ وجود دارد.