



تدریس خصوصی ریاضی به صورت حضوری و آنلاین با دبیران حرفه ای و پیگیری قدرتمند در مدرسه

۴۴۰۲۵۸۶۰ - ۲۶۵۷۰۸۱۰ - ۸۸۹۰۶۹۰۹ - ۸۸۹۰۴۰۰۲

کد تهران ۰۲۱

. ۱

(۵ نمره)

عدد «پانصد و چهل و نه میلیون و هفتصد و دوازده» را به رقم بنویسید. (دبستان یاس - ۱۴۰۱)

. ۲

(۵ نمره)

در عدد ۸۳۹۶۱۲۰۴۵ رقم ۸ در طبقه و مرتبه قرار دارد. (دبستان پور جندقی - رفسنجان ۱۴۰۲)

. ۳

(۵ نمره)

کوچکترین عددی که با رقم های عدد ۵۹۲۶۷۱۰۴۴ می توان نوشت کدام است؟

. ۴

(۵ نمره)

اختلاف بزرگترین عدد سه رقمی با کوچکترین عدد سه رقمی کدام گزینه است؟

. ۵

(۵ نمره)

مرضیه $\frac{1}{4}$ پولش را بستنی و $\frac{1}{4}$ آن را دفتر خرید. اگر ۶۰۰ تومان برای او باقی مانده باشد، کل پول مرضیه چقدر بوده است؟




تدریس خصوصی ریاضی به صورت حضوری و آنلاین با دبیران حرفه ای و پیگیری قدرتمند در مدرسه

۴۴۰۲۵۸۶۰ - ۲۶۵۷۰۸۱۰ - ۸۸۹۰۶۹۰۹ - ۸۸۹۰۴۰۰۲

کد تهران ۰۲۱

(۵ نمره)

۶. مانده به عدد ۵ را روی محور نشان دهید و بگویید آن عدد چند است؟ $\frac{2}{5}$



۷.

(۵ نمره)

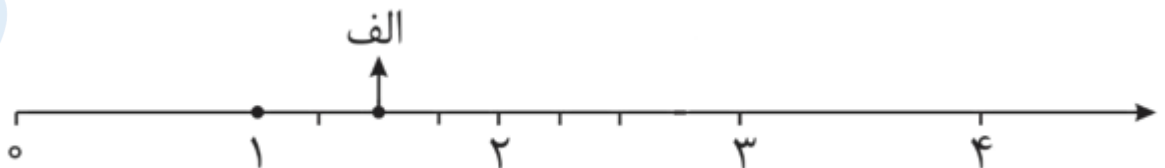
کدام گزینه جای خالی را به درستی پر می‌کند؟

$$\frac{18}{24} \dots \frac{1}{3}$$

۸.

(۵ نمره)

نقطه داده شده روی محور چه عددی را نشان می‌دهد؟





تدریس خصوصی ریاضی به صورت حضوری و آنلاین با دبیران حرفه ای و پیگیری قدرتمند در مدرسه

۴۴۰۲۵۸۶۰ - ۲۶۵۷۰۸۱۰ - ۸۸۹۰۶۹۰۹ - ۸۸۹۰۴۰۰۲

کد تهران ۰۲۱

. ۹

(۵ نمره)

یک کشاورز مقدار ۲۴۰۰ کیلوگرم گندم برداشت کرده است. اگر هر کیلو گندم را ۸۰۰۰ تومان فروخته باشد چقدر درآمد داشته است؟ (دبستان یاس - ۱۴۰۱)

. ۱۰

(۵ نمره)

کشاورزی ۳۷۵۹ مترمربع زمین کشاورزی خود را بین ۳ فرزند خود تقسیم کرد. به هر کدام چند مترمربع می رسد؟

. ۱۱

(۵ نمره)

دانش آموزی یک عمل تقسیم را انجام داده و رابطه ی امتحان تقسیم را به صورت زیر نوشته است . با توجه به این رابطه کدام گزینه صحیح است ؟
 $(72 \times 13) + 5 = 941$

. ۱۲

(۵ نمره)

علی با پول خود ۱۶۸ شکلات ۴۹ تومانی خرید و ۲۴ تومان هم برای او باقی ماند او چقدر پول داشته است؟



تدریس خصوصی ریاضی به صورت حضوری و آنلاین با دبیران حرفه ای و پیگیری قدرتمند در مدرسه

۸۸۹۰۴۰۰۲ - ۸۸۹۰۶۹۰۹ - ۲۶۵۷۰۸۱۰ - ۴۴۰۲۵۸۶۰

کد تهران ۰۲۱

. ۱۳

(۵ نمره)

۷۵۳۴۹ کیلوگرم به صورت تقریبی چند تن است؟ (دبستان روش نوین یزد - ۱۴۰۲)

. ۱۴

(۵ نمره)

۱ ساعت و ۲۰ دقیقه چند ثانیه است؟

. ۱۵

(۵ نمره)

زمان های زیر را مقایسه کنید.

۱۹ دقیقه ۲۴۰ ثانیه

. ۱۶

(۵ نمره)

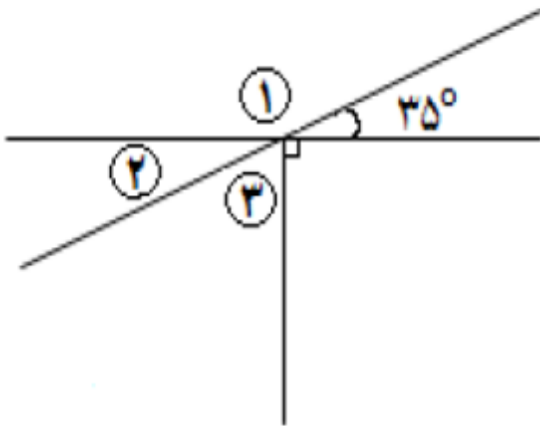


تدریس خصوصی ریاضی به صورت حضوری و آنلاین با دبیران حرفه ای و پیگیری قدرتمند در مدرسه

۸۸۹۰۴۰۰۲ - ۸۸۹۰۶۹۰۹ - ۲۶۵۷۰۸۱۰ - ۴۴۰۲۵۸۶۰

کد تهران ۰۲۱

با توجه به شکل مقابل اندازه زاویه ۳ را بیابید.



. ۱۷

(۵ نمره)

در یک ظرف ۸ لیتر شیر بود. حسین یک بار $\frac{3}{5}$ لیتر و بار دیگر $\frac{2}{3}$ لیتر از شیر داخل ظرف را خورد. چه مقدار از شیر خورده شده است؟ (دبستان پور جندقی - رفسنجان ۱۴۰۲)

. ۱۸

(۵ نمره)

حاصل جمع زیر را بیابید.

$$\begin{array}{r} \frac{3}{7} \\ + \frac{4}{5} \\ \hline \end{array}$$



تدریس خصوصی ریاضی به صورت حضوری و آنلاین با دبیران حرفه ای و پیگیری قدرتمند در مدرسه

۴۴۰۲۵۸۶۰ - ۲۶۵۷۰۸۱۰ - ۸۸۹۰۶۹۰۹ - ۸۸۹۰۴۰۰۲

کد تهران ۰۲۱

. ۱۹

(۵ نمره)

در یک پارکینگ روی هم ۱۸ دوچرخه و اتومبیل وجود دارد. اگر تعداد چرخ ها روی هم ۶۰ تا باشد در این پارکینگ چند دوچرخه و چند اتومبیل وجود دارد؟

. ۲۰

(۵ نمره)

حاصل $= ۳/۵ - ۹/۶$ برابر کدام گزینه است ؟