



تدریس خصوصی ریاضی به صورت حضوری و آنلاین با دبیران حرفه ای و پیگیری قدرتمند در مدرسه

۴۴۰۲۵۸۶۰ - ۲۶۵۷۰۸۱۰ - ۸۸۹۰۶۹۰۹ - ۸۸۹۰۴۰۰۲

کد تهران ۰۲۱

۱.

(۵ نمره)

نصف هجده تا ده میلیون، برابر است با (دبستان گل یاس - گلوگاه ۱۴۰۲)

۲.

(۵ نمره)

در الگوی زیر ۰ و Δ را بیابید.

۱، ۴، ۹، ۰، ۲۵، ۳۶، Δ

۳.

(۵ نمره)

بزرگترین عدد فرد ده رقمی که با رقم‌های ۰، ۲، ۳، ۵، ۷، ۶، ۸، ۹ و ۴ و بدون تکرار ارقام می‌توان نوشت کدام است؟

۴.

(۵ نمره)

۱۰۰ تا تا برابر است با ۳۰۰۰۰۰۰.

۵.

(۵ نمره)



تدریس خصوصی ریاضی به صورت حضوری و آنلاین با دبیران حرفه ای و پیگیری قدرتمند در مدرسه

۴۴۰۲۵۸۶۰ - ۲۶۵۷۰۸۱۰ - ۸۸۹۰۶۹۰۹ - ۸۸۹۰۴۰۰۲

کد تهران ۰۲۱

برای دوخت یک پیراهن $3\frac{1}{5}$ متر مربع پارچه لازم است و برای دوخت یک شلوار $2\frac{1}{3}$ متر مربع پارچه لازم است. برای دوخت یک دست پیراهن شلوار چه مقدار پارچه لازم داریم؟ (دبستان شهید عبدی - ۱۴۰۲)

.۶

(۵ نمره)

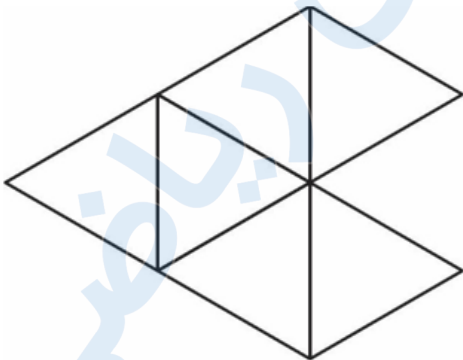
حاصل عبارت زیر را بیابید. (دبستان حسینی - تهران ۱۴۰۲)

$$9 \div \frac{3}{5} =$$

.۷

(۵ نمره)

روی شکل زیر نشان دهید $\frac{6}{4}$ به چه کسری نیاز دارد تا ۲ واحد شود؟





تدریس خصوصی ریاضی به صورت حضوری و آنلاین با دبیران حرفه ای و پیگیری قدرتمند در مدرسه

۴۴۰۲۵۸۶۰ - ۲۶۵۷۰۸۱۰ - ۸۸۹۰۶۹۰۹ - ۸۸۹۰۴۰۰۲

کد تهران ۰۲۱

۸.

(۵ نمره)

حاصل عبارت مقابل را مشخص کنید.

$$2\frac{1}{3} \times 3\frac{1}{4} =$$

۹.

(۵ نمره)

احسان می‌خواهد یک قالی ۵۰۰۰۰۰ تومانی بخرد. اگر فروشنده ۲۰٪ تخفیف برای او در نظر بگیرد، احسان چند تومان تخفیف می‌گیرد؟ (دبستان گل یاس - گلوگاه ۱۴۰۲)

۱۰.

(۵ نمره)

طنابی به طول ۳۲ متر را به نسبت ۱ به ۳ برش زده‌ایم. طول هر قسمت چند متر است؟

۱۱.

(۵ نمره)



تدریس خصوصی ریاضی به صورت حضوری و آنلاین با دبیران حرفه ای و پیگیری قدرتمند در مدرسه

۸۸۹۰۴۰۰۲ - ۸۸۹۰۶۹۰۹ - ۲۶۵۷۰۸۱۰ - ۴۴۰۲۵۸۶۰

کد تهران ۰۲۱

در شکل مقابل نسبت مساحت قسمت سفید به مساحت کل دایره چقدر است؟



۱۲.

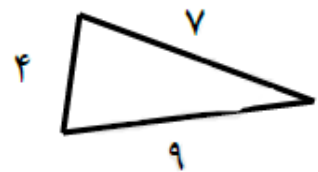
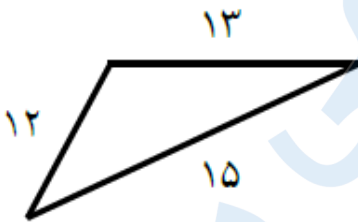
(۵ نمره)

۵۰۰ گرم چه کسری از ۵ کیلوگرم است؟

۱۳.

(۵ نمره)

با توجه به شکل زیر نسبت کوچک ترین ضلع مثلث کوچک به بزرگ ترین ضلع مثلث بزرگ پیدا کنید.



۱۴.

(۵ نمره)

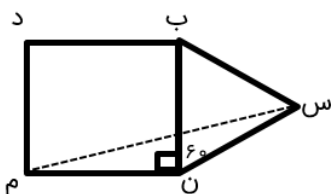


تدریس خصوصی ریاضی به صورت حضوری و آنلاین با دبیران حرفه ای و پیگیری قدرتمند در مدرسه

۸۸۹۰۴۰۰۲ - ۸۸۹۰۶۹۰۹ - ۲۶۵۷۰۸۱۰ - ۴۴۰۲۵۸۶۰

کد تهران ۰۲۱

در شکل زیر چهارضلعی مربع و مثلث «س ب ن» متساوی الاضلاع است. زاویه «س م ن» چند درجه است؟



۱۵ .

(۵ نمره)

در و قطرهای نیمساز زوایا هستند.

۱۶ .

(۵ نمره)

کدام شکل مرکز تقارن ندارد ولی بیش از یک محور تقارن دارد؟

۱۷ .

(۵ نمره)

کدام شکل مرکز تقارن دارد ولی محور تقارن ندارد؟

۱۸ .

(۵ نمره)



تدریس خصوصی ریاضی به صورت حضوری و آنلاین با دبیران حرفه ای و پیگیری قدرتمند در مدرسه

۴۴۰۲۵۸۶۰ - ۲۶۵۷۰۸۱۰ - ۸۸۹۰۶۹۰۹ - ۸۸۹۰۴۰۰۲

کد تهران ۰۲۱

عدد مخلوط کسر $\frac{۵۳}{۸}$ برابر می شود. (دبستان مهرگان - بابل ۱۴۰۲)

. ۱۹

(۵ نمره)

علامت $<=>$ بگذارید.

$$۴ + ۰/۶ \square ۷ - ۰/۳$$

. ۲۰

(۵ نمره)

حاصل ضرب زیر چند می شود؟
 $۰/۹۴ \times ۰/۲ =$

. ۲۱

(۵ نمره)

کدام یک از اعداد اعشاری زیر برابر با کسر رو به رو است؟

$$\frac{۱}{۴}$$



تدریس خصوصی ریاضی به صورت حضوری و آنلاین با دبیران حرفه ای و پیگیری قدرتمند در مدرسه

۸۸۹۰۴۰۰۲ - ۸۸۹۰۶۹۰۹ - ۲۶۵۷۰۸۱۰ - ۴۴۰۲۵۸۶۰

کد تهران ۰۲۱

۲۲.

(۵ نمره)

نمایش اعشاری حاصل عبارت مقابل کدام گزینه است؟

$$7 \times 10 + \frac{1}{10} + 3 \times \frac{1}{100} =$$