



تدریس خصوصی ریاضی به صورت حضوری و آنلاین با دبیران حرفه ای و پیگیری قدرتمند در مدرسه

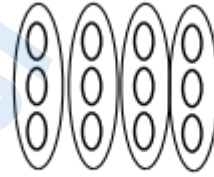
۴۴۰۲۵۸۶۰ - ۲۶۵۷۰۸۱۰ - ۸۸۹۰۶۹۰۹ - ۸۸۹۰۴۰۰۲

کد تهران ۰۲۱

۱.

(۴ نمره)

با توجه به شکل زیر پاسخ صحیح کدام گزینه است؟



..... + ..... + ..... + ..... = .....

۲.

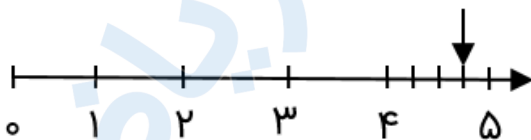
(۴ نمره)


یک ماشین ورودی - خروجی داریم که سه مرحله کار انجام داده است. ابتدا ۴ واحد و سپس ۵ واحد و در نهایت ۶ واحد به عدد ورودی اضافه کرده است. اگر عدد خروجی ۱۹ باشد، عدد ورودی چند بوده است؟

۳.

(۴ نمره)

عدد داده شده روی محور را روی ساعت نشان دهید.





تدریس خصوصی ریاضی به صورت حضوری و آنلاین با دبیران حرفه ای و پیگیری قدرتمند در مدرسه

۴۴۰۲۵۸۶۰ - ۲۶۵۷۰۸۱۰ - ۸۸۹۰۶۹۰۹ - ۸۸۹۰۴۰۰۲

کد تهران ۰۲۱

۴ .

(۴ نمره)

امروز یکشنبه، چهارمین روز ماه است، تا آخر ماه چه روزهایی یکشنبه است؟

۵ .

(۴ نمره)

الگوی عددی زیر را ادامه دهید. (دبستان پورجندق - رفسنجان ۱۴۰۲)

۱, ۳, ۶, ۱۰, ..., ..., ...

۶ .

(۴ نمره)


اگر هر دلار ۲۰۰۰ تومان باشد، ارزش ۲ دلار بیشتر است یا ۴۵۰۰ ریال؟

۷ .

(۴ نمره)

۷ کیلومتر و ۱۴ متر برابر است با ..... متر.

۸ .



تدریس خصوصی ریاضی به صورت حضوری و آنلاین با دبیران حرفه ای و پیگیری قدرتمند در مدرسه

۸۸۹۰۴۰۰۲ - ۸۸۹۰۶۹۰۹ - ۲۶۵۷۰۸۱۰ - ۴۴۰۲۵۸۶۰

کد تهران ۰۲۱

(۴ نمره)

۹۱۰۰ کیلوگرم برابر است با ..... گرم و ..... کیلوگرم.

. ۹

(۴ نمره)

۲ کیلومتر و ۳۷۵ متر = ..... متر

. ۱۰

(۴ نمره)

عبارت زیر را به عدد بنویسید. (دبستان پورجندق - رفسنجان ۱۴۰۲)

دو هزار و چهارده: .....

. ۱۱

(۴ نمره)

در یک ساختمان ۴ طبقه که در هر طبقه ۲ واحد وجود دارد، ۳ واحد خالی از سکنه می باشد. چه کسری از ساختمان خالی می باشد؟

. ۱۲

(۴ نمره)



تدریس خصوصی ریاضی به صورت حضوری و آنلاین با دبیران حرفه ای و پیگیری قدرتمند در مدرسه

۴۴۰۲۵۸۶۰ - ۲۶۵۷۰۸۱۰ - ۸۸۹۰۶۹۰۹ - ۸۸۹۰۴۰۰۲


کد تهران ۰۲۱

در جای خالی چه علامتی قرار دهیم تا مقایسه صحیح باشد؟

$$\frac{1}{15} \square \frac{1}{50}$$

(۴ نمره)

۱۳.




(۴ نمره)

۱۴.

جایگاه عدد زیر را روی محور نشان دهید. (دبستان پورجندق - رفسنجان ۱۴۰۲)

۱۱۴

۱۵.



تدریس خصوصی ریاضی به صورت حضوری و آنلاین با دبیران حرفه ای و پیگیری قدرتمند در مدرسه

۸۸۹۰۴۰۰۲ - ۸۸۹۰۶۹۰۹ - ۲۶۵۷۰۸۱۰ - ۴۴۰۲۵۸۶۰

کد تهران ۰۲۱

(۴ نمره)

جایگاه عدد زیر را روی محور نشان دهید. (دبستان پورچندق - رفسنجان ۱۴۰۲)

۱۴۴۵

. ۱۶

(۴ نمره)

احسان یک کتاب داستان خرید. او شب اول ۸ صفحه مطالعه کرد. اگر شب دوم ۵۶ صفحه مطالعه کند، احسان شب دوم چند برابر شب اول مطالعه کرده است؟

. ۱۷

(۴ نمره)

حاصل تقسیم زیر را به کمک محور پیدا کنید.

$$۱۲ \div ۳ =$$

. ۱۸

(۴ نمره)



تدریس خصوصی ریاضی به صورت حضوری و آنلاین با دبیران حرفه ای و پیگیری قدرتمند در مدرسه

۴۴۰۲۵۸۶۰ - ۲۶۵۷۰۸۱۰ - ۸۸۹۰۶۹۰۹ - ۸۸۹۰۴۰۰۲

کد تهران ۰۲۱

جاهای خالی را با  $\square$ ،  $\Delta$  و  $\bigcirc$  پر کنید.

$$(\bigcirc + \Delta) \times \square = (\bigcirc \times \dots) + (\dots \times \dots)$$

. ۱۹

(۴ نمره)

۴ کارتون داریم. در هر کارتون ۳ جعبه است و در هر جعبه ۶ قوطی قرار دارد. اگر بخواهیم قوطی‌ها را در بسته‌های ۸ تایی بگذاریم، چند بسته خواهیم داشت؟

. ۲۰

(۴ نمره)

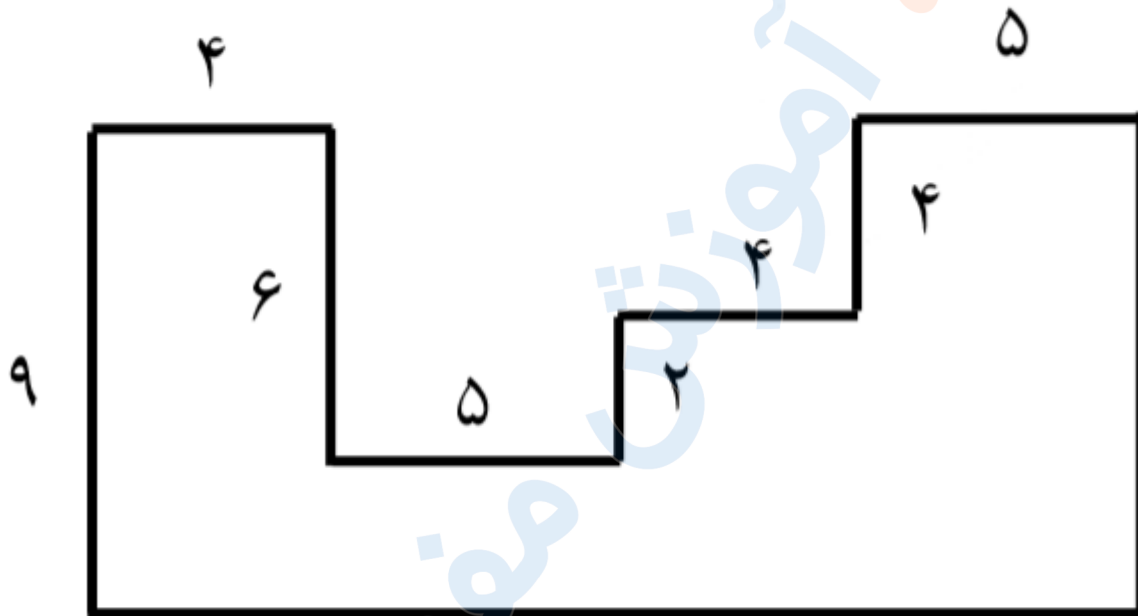


تدریس خصوصی ریاضی به صورت حضوری و آنلاین با دبیران حرفه ای و پیگیری قدرتمند در مدرسه

۸۸۹۰۴۰۰۲ - ۸۸۹۰۶۹۰۹ - ۲۶۵۷۰۸۱۰ - ۴۴۰۲۵۸۶۰

کد تهران ۰۲۱

محیط شکل زیر کدام گزینه است؟



۲۱.


(۴ نمره)

مساحت زمینی مستطیل شکل به عرض ۸ متر برابر با ۷۲ متر مربع است. طول این زمین چند سانتی متر است؟

۲۲.

(۴ نمره)

دایره ای به قطر ۸ سانتی متر و دایره ی دیگری به شعاع ۳ سانتی متر داریم. اگر این دو دایره همدیگر را قطع کنند، حداکثر چند نقطه ی برخورد بین دو دایره وجود دارد؟



تدریس خصوصی ریاضی به صورت حضوری و آنلاین با دبیران حرفه ای و پیگیری قدرتمند در مدرسه

۸۸۹۰۴۰۰۲ - ۸۸۹۰۶۹۰۹ - ۲۶۵۷۰۸۱۰ - ۴۴۰۲۵۸۶۰

کد تهران ۰۲۱

۲۳.

(۴ نمره)

اگر تمامی نقاطی که فاصله آن ها از نقطه (( م )) برابر با ۴ سانتی متر است ، مشخص کنیم ، چه شکلی به دست می آید ؟



۲۴.

(۴ نمره)

شکل زیر به ترتیب چند ضلع و چند قطر دارد؟



۲۵.

(۴ نمره)

به دو خطی که هیچ وقت همدیگر را قطع نمی کنند ..... می گویند. (دبستان یاس-لاهیجان ۱۴۰۲)