



تدریس خصوصی ریاضی به صورت حضوری و آنلاین با دبیران حرفه ای و پیگیری قدرتمند در مدرسه

۴۴۰۲۵۸۶۰ - ۲۶۵۷۰۸۱۰ - ۸۸۹۰۶۹۰۹ - ۸۸۹۰۴۰۰۲

کد تهران ۰۲۱

.۱

(۶ نمره)

ساعت ۸:۴۵ یعنی (دبستان سرای دانش الغدير - تهران ۱۴۰۲)

پاسخ:

یک ربع مانده به ۹

.۲

(۷ نمره)

با ارقام ۱، ۵، ۴، ۵ چند عدد در زنی می توان نوشت؟

پاسخ:

۵۴ - ۵۱ - ۵۰ - ۴۵ - ۴۱ - ۴۰ - ۱۵ - ۱۴ - ۱۰

اگر تیکری را هم بنویسد بهتر است . ۵۵ - ۴۴ - ۱۱



تدریس خصوصی ریاضی به صورت حضوری و آنلاین با دبیران حرفه ای و پیگیری قدرتمند در مدرسه


۴۴۰۲۵۸۶۰ - ۲۶۵۷۰۸۱۰ - ۸۸۹۰۶۹۰۹ - ۸۸۹۰۴۰۰۲

کد تهران ۰۲۱

۳.

(۷ نمره)

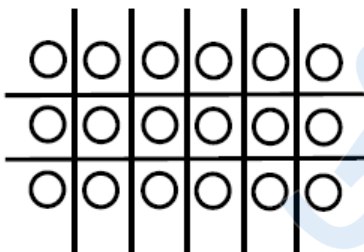
شکل زیر را دسته بندی کرده و جمله مناسب شکل را انتخاب کنید.



----- تا ----- تایی می شود .-----

----- تا ----- تایی می شود .-----

پاسخ :



۶ تا ۳ تایی می شود ۱۸

۳ تا ۶ تایی می شود ۱۸

۴.

(۷ نمره)




تدریس خصوصی ریاضی به صورت حضوری و آنلاین با دبیران حرفه ای و پیگیری قدرتمند در مدرسه

۸۸۹۰۴۰۰۲ - ۸۸۹۰۶۹۰۹ - ۲۶۵۷۰۸۱۰ - ۴۴۰۲۵۸۶۰

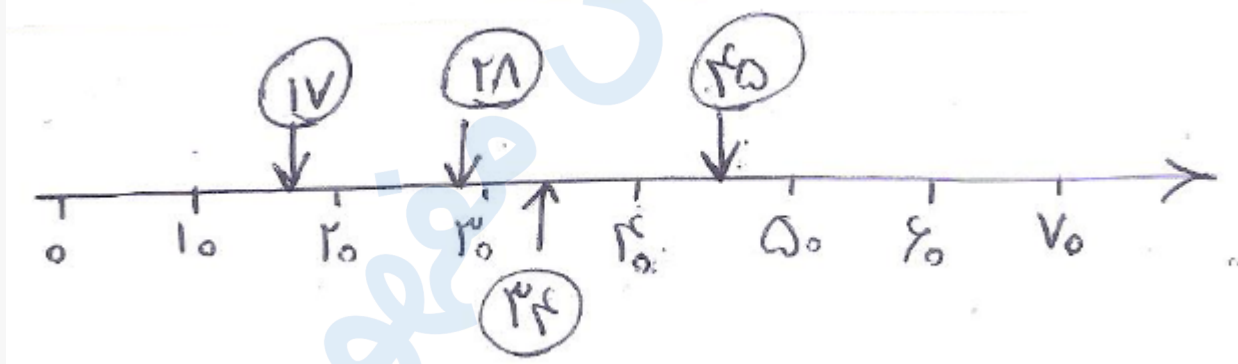
کد تهران ۰۲۱

اعداد را به طور تقریبی روی محور نشان دهید.

(۱۷) - (۲۸) - (۳۴) - (۴۵)



پاسخ:



(۷ نمره)

۵

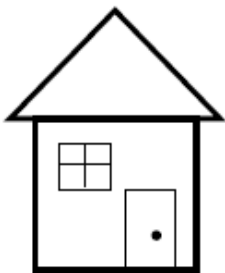


تدریس خصوصی ریاضی به صورت حضوری و آنلاین با دبیران حرفه ای و پیگیری قدرتمند در مدرسه

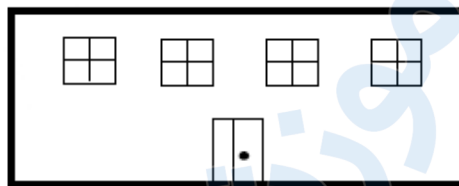
۸۸۹۰۴۰۰۲ - ۸۸۹۰۶۹۰۹ - ۲۶۵۷۰۸۱۰ - ۴۴۰۲۵۸۶۰

کد تهران ۰۲۱

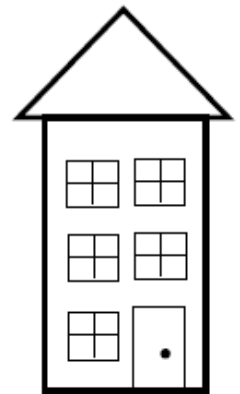
برای رفتن از خانه به مدرسه ۲ راه متفاوت وجود دارد و برای رفتن از مدرسه به کتابخانه ۳ راه مختلف وجود دارد . با استفاده از روش رسم شکل تعیین کنید به چند روش مختلف می توان از خانه به کتابخانه رفت؟



خانه

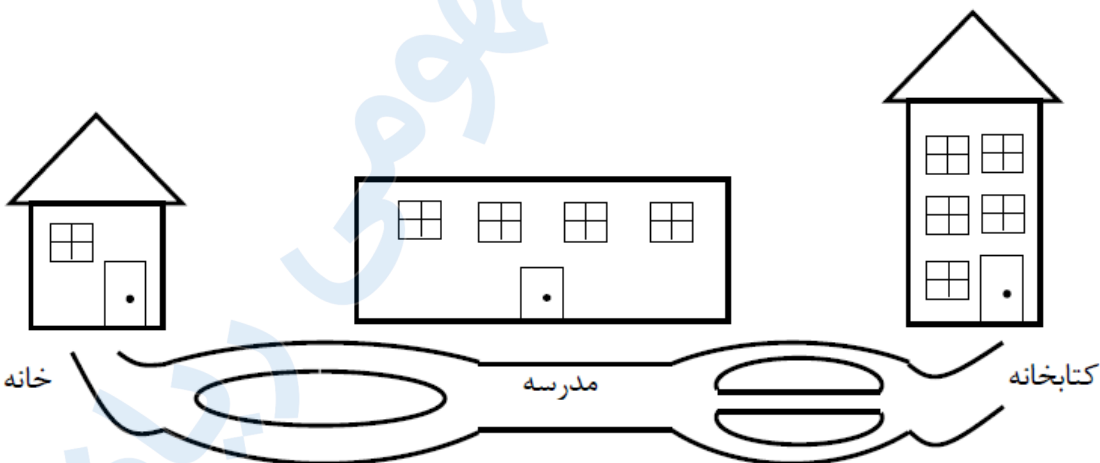


مدرسه



کتابخانه

پاسخ :



به ۶ روش مختلف می توان از خانه به کتابخانه رفت.



تدریس خصوصی ریاضی به صورت حضوری و آنلاین با دبیران حرفه ای و پیگیری قدرتمند در مدرسه

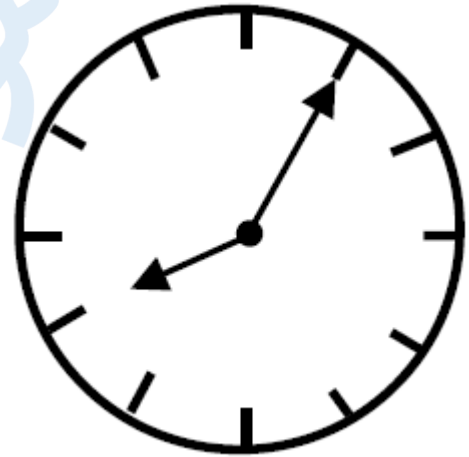
۸۸۹۰۴۰۰۲ - ۸۸۹۰۶۹۰۹ - ۲۶۵۷۰۸۱۰ - ۴۴۰۲۵۸۶۰

کد تهران ۰۲۱

۶.

(۶ نمره)

ساعت چند است؟



پاسخ :

ساعت ۵ : ۸

۷.

(۶ نمره)

شکل پنج ضلعی را رسم کرده و خط تقارنی برای آن بیابید. (سرای دانش - خرداد ۱۴۰۲)

پاسخ :



تدریس خصوصی ریاضی به صورت حضوری و آنلاین با دبیران حرفه ای و پیگیری قدرتمند در مدرسه

۴۴۰۲۵۸۶۰ - ۲۶۵۷۰۸۱۰ - ۸۸۹۰۶۹۰۹ - ۸۸۹۰۴۰۰۲

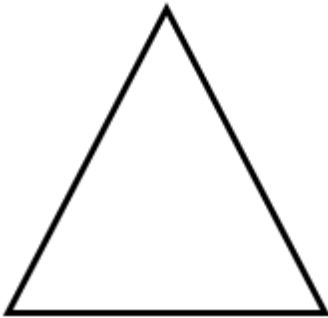
کد تهران ۰۲۱



. ۸

(۷ نمره)

نام شکل زیر را بنویسید. (دبستان فدک نور - آذرشهر ۱۴۰۰)



پاسخ :

مثلث

. ۹



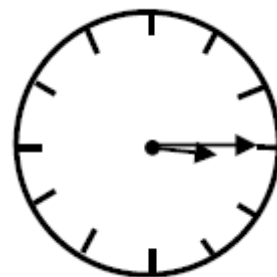
تدریس خصوصی ریاضی به صورت حضوری و آنلاین با دبیران حرفه ای و پیگیری قدرتمند در مدرسه

۸۸۹۰۴۰۰۲ - ۸۸۹۰۶۹۰۹ - ۲۶۵۷۰۸۱۰ - ۴۴۰۲۵۸۶۰

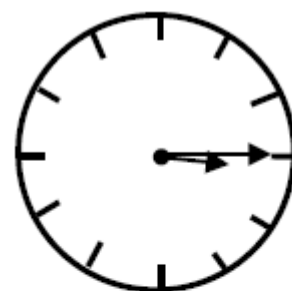
کد تهران ۰۲۱

(۷ نمره)

ساعت زیر چه زمانی را نشان می دهد؟



پاسخ :



۳:۱۵

. ۱۰

(۷ نمره)



تدریس خصوصی ریاضی به صورت حضوری و آنلاین با دبیران حرفه ای و پیگیری قدرتمند در مدرسه

۴۴۰۲۵۸۶۰ - ۲۶۵۷۰۸۱۰ - ۸۸۹۰۶۹۰۹ - ۸۸۹۰۴۰۰۲

کد تهران ۰۲۱

عدد ۶۸ به ۶۰ نزدیکتر است یا به ؟ (دبستان سما - ۱۴۰۱)

پاسخ :

۷۰ - ۷۰

. ۱۱

(۶ نمره)

مقدار پول را به دست آورید. (دبستان سرای دانش-تهران ۱۴۰۲)



پاسخ :

۴۳۰



تدریس خصوصی ریاضی به صورت حضوری و آنلاین با دبیران حرفه ای و پیگیری قدرتمند در مدرسه

۸۸۹۰۴۰۰۲ - ۸۸۹۰۶۹۰۹ - ۲۶۵۷۰۸۱۰ - ۴۴۰۲۵۸۶۰

کد تهران ۰۲۱

۱۲.

(۷ نمره)

عدد داخل مربع به کدام یک از دو عدد در دایره ها نزدیک تر است؟



پاسخ:



۱۳.

(۷ نمره)

در یک مزرعه روی هم ۸ گاو و خروس وجود دارد. اگر تعداد پاهای آن ها روی هم ۲۶ تا باشد، در این مزرعه چند گاو و چند خروس وجود دارد؟ (با استفاده از روش حدس و آزمایش)

پاسخ:



تدریس خصوصی ریاضی به صورت حضوری و آنلاین با دبیران حرفه ای و پیگیری قدرتمند در مدرسه

۴۴۰۲۵۸۶۰ - ۲۶۵۷۰۸۱۰ - ۸۸۹۰۶۹۰۹ - ۸۸۹۰۴۰۰۲

کد تهران ۰۲۱

خروس گاو
حدس اول : ، \Rightarrow تعداد پاها = $4+4+4+4+2+2+2+2=24$

با توجه به جواب آزمایش مربوط به حدس اول، تعداد گاوها باید بیش تر باشد.

خروس گاو
حدس دوم : ، \Rightarrow تعداد پاها = $4+4+4+4+4+2+2+2=26$

در این مزرعه ۵ گاو و ۳ خروس وجود دارد.

. ۱۴

(۷ نمره)

۳ میلی متر چه کسری از یک سانتی متر است؟ (دبستان سرای دانش-تهران ۱۴۰۲)

پاسخ :

$$\frac{3}{10} = 3 \text{ قسمت از } 10 \text{ قسمت مساوی}$$

. ۱۵

(۶ نمره)



تدریس خصوصی ریاضی به صورت حضوری و آنلاین با دبیران حرفه ای و پیگیری قدرتمند در مدرسه

۸۸۹۰۴۰۰۲ - ۸۸۹۰۶۹۰۹ - ۲۶۵۷۰۸۱۰ - ۴۴۰۲۵۸۶۰

کد تهران ۰۲۱

در یک مزرعه روی هم ۶ تا گاو و خروس هستند. آن ها روی هم ۲۰ پا دارند. در این مزرعه چند گاو و خروس است؟

پاسخ :

۴ تا گاو ، ۲ تا خروس