



تدریس خصوصی ریاضی به صورت حضوری و آنلاین با دبیران حرفه ای و پیگیری قدرتمند در مدرسه

۸۸۹۰۴۰۰۲ - ۸۸۹۰۶۹۰۹ - ۲۶۵۷۰۸۱۰ - ۴۴۰۲۵۸۶۰

کد تهران ۰۲۱

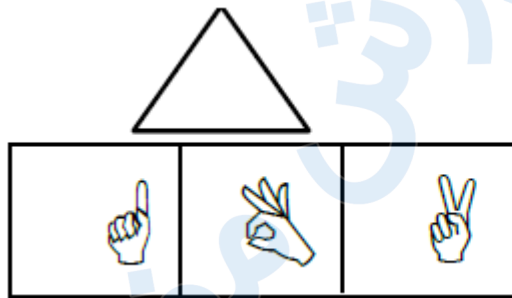
۱.

(۶ نمره)

کدام دسته از شکل های زیر الگو هستند؟

۲.

(۷ نمره)



شکل مناسب را وصل کن.

۳.

(۷ نمره)

به اندازه چوب خط ها از دایره ها خط بزنید. سپس یک واحد به تعداد باقی مانده اضافه کنید. حاصل چند مربع است؟



۴.

(۷ نمره)




تدریس خصوصی ریاضی به صورت حضوری و آنلاین با دبیران حرفه ای و پیگیری قدرتمند در مدرسه

۴۴۰۲۵۸۶۰ - ۲۶۵۷۰۸۱۰ - ۸۸۹۰۶۹۰۹ - ۸۸۹۰۴۰۰۲

کد تهران ۰۲۱

اگر به تعداد شکل یک واحد اضافه کنیم و مربع ها را رنگ بزنیم کدام گزینه مربع های رنگ زده را نشان می دهد ؟



۵.

(۶ نمره)

با کشیدن چوب خط بگو شکل های سمت راست و چپ با هم چندتا است؟



۶.

(۷ نمره)




تدریس خصوصی ریاضی به صورت حضوری و آنلاین با دبیران حرفه ای و پیگیری قدرتمند در مدرسه

۴۴۰۲۵۸۶۰ - ۲۶۵۷۰۸۱۰ - ۸۸۹۰۶۹۰۹ - ۸۸۹۰۴۰۰۲

کد تهران ۰۲۱

شکلی که مشابهی ندارد را مشخص کنید.



. ۷

(۶ نمره)

ادامه دهید.



. ۸

(۷ نمره)

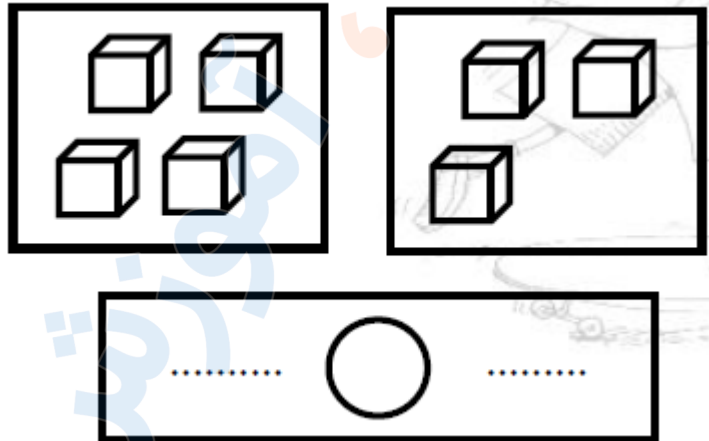


تدریس خصوصی ریاضی به صورت حضوری و آنلاین با دبیران حرفه ای و پیگیری قدرتمند در مدرسه

۴۴۰۲۵۸۶۰ - ۲۶۵۷۰۸۱۰ - ۸۸۹۰۶۹۰۹ - ۸۸۹۰۴۰۰۲

کد تهران ۰۲۱

عدد هر قسمت را بنویس و علامت <=> قرار بده.



.۹

(۶ نمره)



مانند نمونه، اعداد را بنویس و تعداد آن را بنویس.



.۱۰

(۷ نمره)



تدریس خصوصی ریاضی به صورت حضوری و آنلاین با دبیران حرفه ای و پیگیری قدرتمند در مدرسه

۴۴۰۲۵۸۶۰ - ۲۶۵۷۰۸۱۰ - ۸۸۹۰۶۹۰۹ - ۸۸۹۰۴۰۰۲

کد تهران ۰۲۱

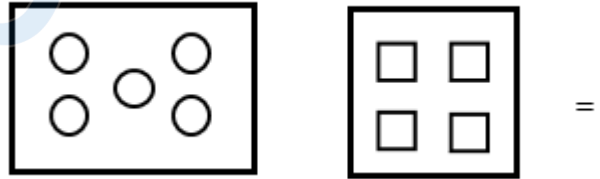
کدام یک از اعداد زیر می تواند در جای خالی قرار بگیرد تا تساوی صحیح باشد؟

$$8 \text{ () } \dots$$

. ۱۱

(۶ نمره)

از هر دسته از شکل های سمت چپ به اندازه شکل های سمت راست کم کنید حاصل آن چند می شود؟



. ۱۲

(۷ نمره)

برای شکل زیر تفریق مناسب را انتخاب کنید.



. ۱۳

(۷ نمره)



تدریس خصوصی ریاضی به صورت حضوری و آنلاین با دبیران حرفه ای و پیگیری قدرتمند در مدرسه

۸۸۹۰۴۰۰۲ - ۸۸۹۰۶۹۰۹ - ۲۶۵۷۰۸۱۰ - ۴۴۰۲۵۸۶۰

کد تهران ۰۲۱

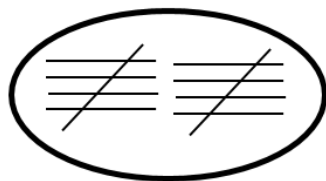
۴ تا کمتر از مثلث ها چند تا است؟




۱۴.

(۷ نمره)

مانند نمونه برای عدد داده شده، چوب خط بکشید.



= ۱۰



= ۲۵

۱۵.

(۶ نمره)

مریم خانم و همسرشان ۳ نفر مهمان دارند. چند بشقاب برای شام باید روی میز بگذارند؟