



تدریس خصوصی ریاضی به صورت حضوری و آنلاین با دبیران حرفه ای و پیگیری قدرتمند در مدرسه

۴۴۰۲۵۸۶۰ - ۲۶۵۷۰۸۱۰ - ۸۸۹۰۶۹۰۹ - ۸۸۹۰۴۰۰۲

کد تهران ۰۲۱

. ۱

(۵ نمره)

در عدد ۵۴۹۰۰۰۷۱۲ بزرگترین رقم در کدام مرتبه مکانی قرار دارد؟ (دبستان یاس - ۱۴۰۱)

. ۲

(۵ نمره)

عدد ۸۳۹۶۱۲۰۴۵ را به حروف بنویسید. (دبستان پور جندقی - رفسنجان ۱۴۰۲)

. ۳

(۵ نمره)

اختلاف بزرگترین و کوچکترین عددهای شش رقمی نوشته شده با رقم‌های ۹ و ۷ و ۵ و ۳ و ۰ و ۱ کدام است؟

. ۴

(۵ نمره)

عدد بعدی در الگوی زیر برابر با کدام گزینه است؟

---- و ۶۳۴ و ۷۲۳ و ۸۱۲

. ۵

(۵ نمره)

اگر از صدگان یک عدد چهار رقمی یک واحد کم کنیم، عدد چه تغییری می کند؟



تدریس خصوصی ریاضی به صورت حضوری و آنلاین با دبیران حرفه ای و پیگیری قدرتمند در مدرسه

۸۸۹۰۴۰۰۲ - ۸۸۹۰۶۹۰۹ - ۲۶۵۷۰۸۱۰ - ۴۴۰۲۵۸۶۰

کد تهران ۰۲۱

.۶

(۵ نمره)

حاصل عبارت زیر را به دست آورید. (دبستان یاس - ۱۴۰۱)

$$\left(2 \times \frac{3}{12} \right) + \left(\frac{3}{4} - \frac{1}{2} \right) =$$

.۷


(۵ نمره)

حاصل عبارت زیر را بیابید.

$$\frac{4}{8} + \frac{5}{24} =$$

.۸

(۵ نمره)

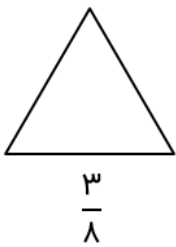


تدریس خصوصی ریاضی به صورت حضوری و آنلاین با دبیران حرفه ای و پیگیری قدرتمند در مدرسه

۸۸۹۰۴۰۰۲ - ۸۸۹۰۶۹۰۹ - ۲۶۵۷۰۸۱۰ - ۴۴۰۲۵۸۶۰

کد تهران ۰۲۱

با تقسیم شکل به قسمت‌های مساوی، کسر داده شده را با رنگ کردن نشان دهید.



۹.

(۵ نمره)

کدام گزینه ساعت ۱۵ : ۲ را به صورت عدد مخلوط نشان می‌دهد؟

۱۰.

(۵ نمره)

در جای خالی زیر چه عددی قرار دهیم تا تساوی کامل شود؟

$$\frac{9}{13} - \square = \frac{5}{13}$$

۱۱.

(۵ نمره)



تدریس خصوصی ریاضی به صورت حضوری و آنلاین با دبیران حرفه ای و پیگیری قدرتمند در مدرسه

۸۸۹۰۴۰۰۲ - ۸۸۹۰۶۹۰۹ - ۲۶۵۷۰۸۱۰ - ۴۴۰۲۵۸۶۰

کد تهران ۰۲۱

در یک خوابگاه دانشجویی تعداد ۹۸ دانشجو زندگی می کنند. اگر آن ها را بخواهیم در اتاق های ۶ نفره قرار دهیم به چند اتاق نیاز داریم؟ (دبستان یاس - ۱۴۰۱)

. ۱۲

(۵ نمره)

حاصل ضرب زیر را بیابید.

$$\begin{array}{r} 650 \\ \times 310 \\ \hline \end{array}$$

. ۱۳

(۵ نمره)

۷ تن برابر با چند کیلوگرم است؟

. ۱۴

(۵ نمره)

باغی ۳۵۰۰ کیلو گرم محصول دارد. اگر محصول این باغ را کیلویی ۵۲۰۰ تومان بفروشیم درآمد حاصل از فروش کل محصول این باغ چقدر است؟



تدریس خصوصی ریاضی به صورت حضوری و آنلاین با دبیران حرفه ای و پیگیری قدرتمند در مدرسه

۴۴۰۲۵۸۶۰ - ۲۶۵۷۰۸۱۰ - ۸۸۹۰۶۹۰۹ - ۸۸۹۰۴۰۰۲

کد تهران ۰۲۱

. ۱۵

(۵ نمره)

اگر بخواهیم در تقسیم که باقیمانده صفر باشد، خارج قسمت دو برابر شود در این صورت:

. ۱۶

(۵ نمره)

باران امروز ساعت ۷:۱۵ از خانه خارج شد و ساعت ۸:۳۰ به محل کار رسید. او چه مدت در مسیر بوده است؟

(دبستان سرای دانش - تهران ۱۴۰۲)

. ۱۷


(۵ نمره)

زمان های زیر را مقایسه کنید.

۲ ساعت و ۱۵ دقیقه ۱۷۵ دقیقه

. ۱۸

(۵ نمره)



تدریس خصوصی ریاضی به صورت حضوری و آنلاین با دبیران حرفه ای و پیگیری قدرتمند در مدرسه

۸۸۹۰۴۰۰۲ - ۸۸۹۰۶۹۰۹ - ۲۶۵۷۰۸۱۰ - ۴۴۰۲۵۸۶۰

کد تهران ۰۲۱

با توجه به اندازه‌های داده شده در مثلث زیر، زاویه سوم را بیابید و نوع مثلث را مشخص کنید.



۱۹.

(۵ نمره)

۴۳۵۰ دقیقه از ۶ روز است.

۲۰.

(۵ نمره)

کدام یک از اعداد مخلوط زیر مربوط به عبارت (۲۰ دقیقه مانده به چهار) می باشد ؟