



تدریس خصوصی ریاضی به صورت حضوری و آنلاین با دبیران حرفه ای و پیگیری قدرتمند در مدرسه

۴۴۰۲۵۸۶۰ - ۲۶۵۷۰۸۱۰ - ۸۸۹۰۶۹۰۹ - ۸۸۹۰۴۰۰۲

کد تهران ۰۲۱

۱.

(۵ نمره)

درستی یا نادرستی جمله زیر را بیابید. (دبستان گل یاس - گلوگاه ۱۴۰۲)

«اگر عدد ۴۶۷۹۳۲ هزار برابر شود، ارزش مکانی رقم، ۶ دهگان میلیون می شود.»

۲.

(۵ نمره)

عدد بعدی الگوی زیر را بیابید.

۵، ۱۰، ۱۵، ...

۳.

(۵ نمره)

۴۰۰۰۰۰۰ برابر است با تا یک میلیون و یا تا صد هزارتا

۴.

(۵ نمره)

درکارخانه تولیدی کاغذ، هر سال ۴۰۰۰۰۰۰ تن کاغذ تولید می شود. پس از ۲۰ سال چند تن کاغذ در این کارخانه تولید شده است؟



تدریس خصوصی ریاضی به صورت حضوری و آنلاین با دبیران حرفه ای و پیگیری قدرتمند در مدرسه

۴۴۰۲۵۸۶۰ - ۲۶۵۷۰۸۱۰ - ۸۸۹۰۶۹۰۹ - ۸۸۹۰۴۰۰۲

کد تهران ۰۲۱

. ۵

(۵ نمره)

یک میلیارد و دویست و سی میلیون و چهارصد و هشت را به عدد مشخص کنید.

. ۶

(۵ نمره)

حاصل عبارت زیر را بیابید. (دبستان گل یاس - گلوگاه ۱۴۰۲)

$$۱۳ - ۲\frac{۱}{۷} =$$

. ۷

(۵ نمره)

عدد مخلوط مساوی با $\frac{۲۳}{۴}$ برابر است. (دبستان حسینی - تهران ۱۴۰۲)

. ۸

(۵ نمره)




تدریس خصوصی ریاضی به صورت حضوری و آنلاین با دبیران حرفه ای و پیگیری قدرتمند در مدرسه

۴۴۰۲۵۸۶۰ - ۲۶۵۷۰۸۱۰ - ۸۸۹۰۶۹۰۹ - ۸۸۹۰۴۰۰۲

کد تهران ۰۲۱

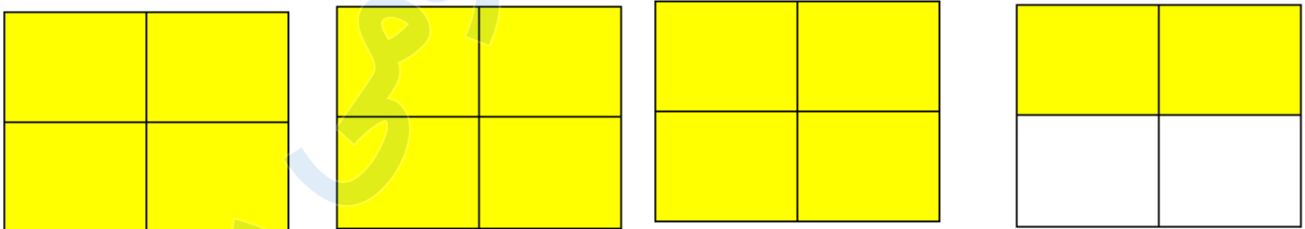
شکل زیر چه کسری را نشان می‌دهد؟



.۹

(۵ نمره)

کدام گزینه نمی‌تواند مربوط به شکل زیر باشد؟



.۱۰

(۵ نمره)

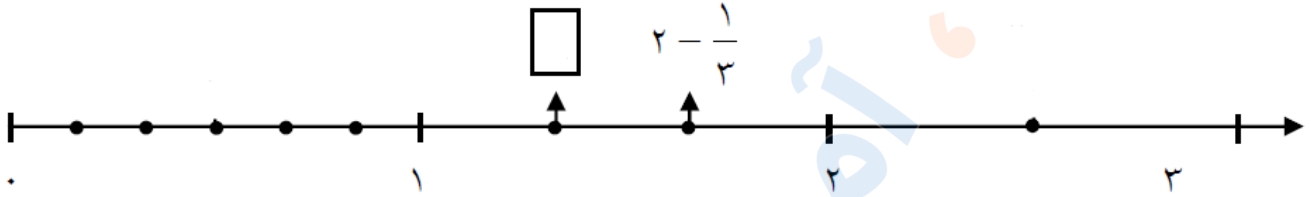


تدریس خصوصی ریاضی به صورت حضوری و آنلاین با دبیران حرفه ای و پیگیری قدرتمند در مدرسه

۴۴۰۲۵۸۶۰ - ۲۶۵۷۰۸۱۰ - ۸۸۹۰۶۹۰۹ - ۸۸۹۰۴۰۰۲

کد تهران ۰۲۱

در محور زیر ، جای خالی چه کسری را نشان می دهد ؟



. ۱۱

(۵ نمره)

صورت کسری و ساده شده ۷۲ درصد کدام است؟

. ۱۲

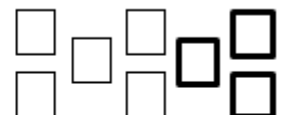
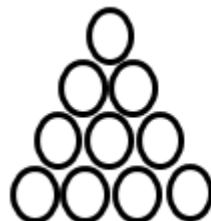
(۵ نمره)

نصف یعنی درصد ، خمس یعنی درصد ، ربع یعنی درصد.

. ۱۳

(۵ نمره)

اگر رنگ کردن هر دایره دو برابر رنگ کردن هر مربع وقت بگیرد نسبت زمان لازم برای رنگ کردن مربع های شکل مقابل به دایره ها چقدر است؟





تدریس خصوصی ریاضی به صورت حضوری و آنلاین با دبیران حرفه ای و پیگیری قدرتمند در مدرسه

۴۴۰۲۵۸۶۰ - ۲۶۵۷۰۸۱۰ - ۸۸۹۰۶۹۰۹ - ۸۸۹۰۴۰۰۲

کد تهران ۰۲۱

۱۴.

(۵ نمره)

چند درصد از عددهای زیر بر ۱۵ بخش پذیرند؟

۶۵۷۰ - ۴۶۰۵ - ۵۸۵۰ - ۴۴۵۰ - ۲۷۸۰

۱۵.

(۵ نمره)

نسبت مساحت مربع خارجی به مساحت مربع داخلی چقدر است؟

