



تدریس خصوصی ریاضی به صورت حضوری و آنلاین با دبیران حرفه ای و پیگیری قدرتمند در مدرسه

۴۴۰۲۵۸۶۰ - ۲۶۵۷۰۸۱۰ - ۸۸۹۰۶۹۰۹ - ۸۸۹۰۴۰۰۲

کد تهران ۰۲۱

. ۱

(۵ نمره)

جای خالی زیر را کامل کنید. (دبستان سما - ۱۴۰۱)

« ۷ سکه ۱۰۰ ریالی و ۴ سکه ۱۰ ریالی و ۹ سکه ۱ ریالی می شود ..... ریال.»

. ۲

(۵ نمره)

الگوی عددی زیر را ادامه دهید. (دبستان روش نوین - دی ۱۴۰۲)

..., ..., ..., ۳۸, ۴۱, ۴۴

. ۳

(۵ نمره)

حاصل عبارت زیر کدام است؟ (دبستان فدک نور - آذر شهر ۱۴۰۰)

$۱۰ + ۱۰ + ۱۰ + ۵ - ۵ = \dots$

. ۴

(۵ نمره)



تدریس خصوصی ریاضی به صورت حضوری و آنلاین با دبیران حرفه ای و پیگیری قدرتمند در مدرسه

۴۴۰۲۵۸۶۰ - ۲۶۵۷۰۸۱۰ - ۸۸۹۰۶۹۰۹ - ۸۸۹۰۴۰۰۲

کد تهران ۰۲۱

ساعت ۸:۴۵ یعنی ..... (دبستان سرای دانش الغدیر - تهران ۱۴۰۲)

(۵ نمره)

الگوی عددی زیر را ادامه دهید. (دبستان شهید پورجندقی - رفسنجان ۱۴۰۲)

۱۱ و ۱۳ و ۱۶ و ۲۰ و ...

(۵ نمره)

درستی یا نادرستی جمله زیر را مشخص کنید. (دبستان سرای دانش الغدیر - تهران ۱۴۰۲)  
«تقریب عدد ۶۵ می شود ۷۰.»

(۵ نمره)



تدریس خصوصی ریاضی به صورت حضوری و آنلاین با دبیران حرفه ای و پیگیری قدرتمند در مدرسه

۸۸۹۰۴۰۰۲ - ۸۸۹۰۶۹۰۹ - ۲۶۵۷۰۸۱۰ - ۴۴۰۲۵۸۶۰

کد تهران ۰۲۱

حاصل تفریق زیر را به دست آورید.

$$\begin{array}{r} 74 \\ - 31 \\ \hline \square \end{array}$$

۸.

(۵ نمره)

در جای خالی مقابل کدام یک از اعداد زیر باید قرار بگیرد؟

$$20 + \square + 20 = 70$$

۹.

(۵ نمره)



تدریس خصوصی ریاضی به صورت حضوری و آنلاین با دبیران حرفه ای و پیگیری قدرتمند در مدرسه

۴۴۰۲۵۸۶۰ - ۲۶۵۷۰۸۱۰ - ۸۸۹۰۶۹۰۹ - ۸۸۹۰۴۰۰۲

کد تهران ۰۲۱

شکل زیر چه ساعتی را نشان می دهد؟



. ۱۰

(۵ نمره)

شکل زیر چه عملیاتی را نشان می دهد ( جمع یا تفریق )



. ۱۱

(۵ نمره)

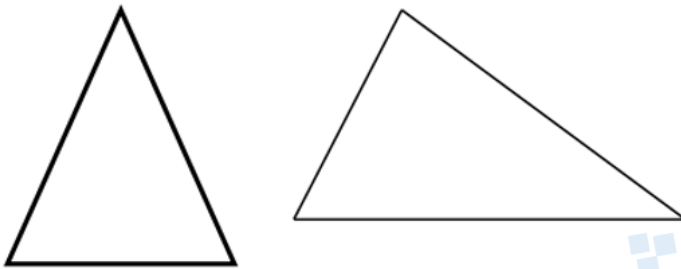


تدریس خصوصی ریاضی به صورت حضوری و آنلاین با دبیران حرفه ای و پیگیری قدرتمند در مدرسه

۴۴۰۲۵۸۶۰ - ۲۶۵۷۰۸۱۰ - ۸۸۹۰۶۹۰۹ - ۸۸۹۰۴۰۰۲

کد تهران ۰۲۱

شباهت شکل‌های زیر را بنویسید. (دبستان روش نوین - دی ۱۴۰۲)



(۵ نمره)

. ۱۲

خط تقارن شکل زیر را رسم کنید. (دبستان سما - ۱۴۰۱)



(۵ نمره)

. ۱۳




تدریس خصوصی ریاضی به صورت حضوری و آنلاین با دبیران حرفه ای و پیگیری قدرتمند در مدرسه

۸۸۹۰۴۰۰۲ - ۸۸۹۰۶۹۰۹ - ۲۶۵۷۰۸۱۰ - ۴۴۰۲۵۸۶۰

کد تهران ۰۲۱

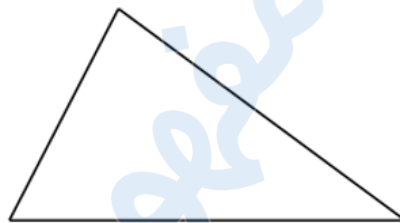
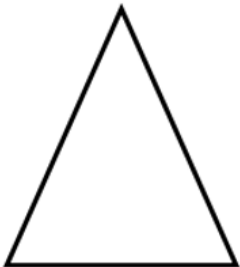
کدام یک از شکل‌های زیر خط تقارن ندارد؟ (دبستان سما - ۱۴۰۱)



. ۱۴

(۵ نمره)

تفاوت شکل‌های زیر را بنویسید. (دبستان روش نوین - دی ۱۴۰۲)



. ۱۵

(۵ نمره)

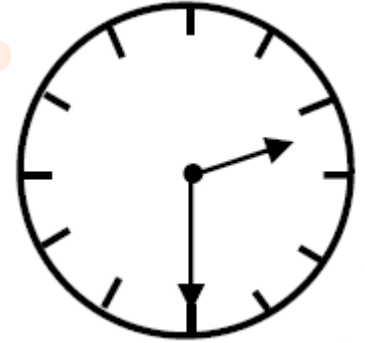


تدریس خصوصی ریاضی به صورت حضوری و آنلاین با دبیران حرفه ای و پیگیری قدرتمند در مدرسه

۴۴۰۲۵۸۶۰ - ۲۶۵۷۰۸۱۰ - ۸۸۹۰۶۹۰۹ - ۸۸۹۰۴۰۰۲

کد تهران ۰۲۱

عقربه بزرگ چند دقیقه حرکت کند تا ساعت ۳ شود؟



. ۱۶

(۵ نمره)

با توجه به شکل زیر ۱۵ دقیقه دیگر چه ساعتی است؟ (دبستان سما - ۱۴۰۱)



. ۱۷

(۵ نمره)



تدریس خصوصی ریاضی به صورت حضوری و آنلاین با دبیران حرفه ای و پیگیری قدرتمند در مدرسه

۴۴۰۲۵۸۶۰ - ۲۶۵۷۰۸۱۰ - ۸۸۹۰۶۹۰۹ - ۸۸۹۰۴۰۰۲

کد تهران ۰۲۱

با توجه به شکل زیر ساعت چند است؟ (دبستان سما - ۱۴۰۱)



. ۱۸

(۵ نمره)

تعداد شکل زیر را شمرده و به عدد بنویسید. (دبستان سما - ۱۴۰۱)



. ۱۹

(۵ نمره)





تدریس خصوصی ریاضی به صورت حضوری و آنلاین با دبیران حرفه ای و پیگیری قدرتمند در مدرسه

۴۴۰۲۵۸۶۰ - ۲۶۵۷۰۸۱۰ - ۸۸۹۰۶۹۰۹ - ۸۸۹۰۴۰۰۲

کد تهران ۰۲۱

جای خالی زیر را کامل کنید. (دبستان سما - ۱۴۰۱)

« عدد ۲۵۸ یعنی ..... یکی و ..... ده تایی و ..... صدتایی. »

. ۲۰

(۵ نمره)

۳ دسته صد تایی و ۵ دسته ده تایی و دو یکی می شود .....