



تدریس خصوصی ریاضی به صورت حضوری و آنلاین با دبیران حرفه ای و پیگیری قدرتمند در مدرسه

۴۴۰۲۵۸۶۰ - ۲۶۵۷۰۸۱۰ - ۸۸۹۰۶۹۰۹ - ۸۸۹۰۴۰۰۲

کد تهران ۰۲۱

۱.

(۵ نمره)

جای خالی زیر را کامل کنید. (دبستان سما - ۱۴۰۱)

« ۷ سکه ۱۰۰ ریالی و ۴ سکه ۱۰ ریالی و ۹ سکه ۱ ریالی می شود ریال.»

پاسخ :

۷۴۹

۲.

(۵ نمره)

الگوی عددی زیر را ادامه دهید. (دبستان روش نوین - دی ۱۴۰۲)

..., ..., ..., ۳۸, ۴۱, ۴۴

پاسخ :

۲۹, ۳۲, ۳۵



تدریس خصوصی ریاضی به صورت حضوری و آنلاین با دبیران حرفه ای و پیگیری قدرتمند در مدرسه

۴۴۰۲۵۸۶۰ - ۲۶۵۷۰۸۱۰ - ۸۸۹۰۶۹۰۹ - ۸۸۹۰۴۰۰۲

کد تهران ۰۲۱

۳.

(۵ نمره)

حاصل عبارت زیر کدام است؟ (دبستان فدک نور - آذرشهر ۱۴۰۰)

$$۱۰ + ۱۰ + ۱۰ + ۵ - ۵ = \dots$$

پاسخ:

$$۱۰ + ۱۰ + ۱۰ + ۵ - ۵ = ۳۰$$

۴.

(۵ نمره)

ساعت ۸:۴۵ یعنی (دبستان سرای دانش الغدير - تهران ۱۴۰۲)

پاسخ:

یک ربع مانده به ۹

۵.



تدریس خصوصی ریاضی به صورت حضوری و آنلاین با دبیران حرفه ای و پیگیری قدرتمند در مدرسه

۴۴۰۲۵۸۶۰ - ۲۶۵۷۰۸۱۰ - ۸۸۹۰۶۹۰۹ - ۸۸۹۰۴۰۰۲

کد تهران ۰۲۱

(۵ نمره)

الگوی عددی زیر را ادامه دهید. (دبستان شهید پورجندقی- رفسنجان ۱۴۰۲)

... و ۲۰ و ۱۶ و ۱۳ و ۱۱

پاسخ :

۳۸ و ۳۱ و ۲۵

.۶

(۵ نمره)

درستی یا نادرستی جمله زیر را مشخص کنید. (دبستان سرای دانش الغدیر - تهران ۱۴۰۲)

«تقریب عدد ۶۵ می شود ۷۰.»

پاسخ :

درست

.۷



تدریس خصوصی ریاضی به صورت حضوری و آنلاین با دبیران حرفه ای و پیگیری قدرتمند در مدرسه

۸۸۹۰۴۰۰۲ - ۸۸۹۰۶۹۰۹ - ۲۶۵۷۰۸۱۰ - ۴۴۰۲۵۸۶۰

کد تهران ۰۲۱

(۵ نمره)

حاصل تفریق زیر را به دست آورید.

$$\begin{array}{r} 74 \\ - 31 \\ \hline \square \end{array}$$

پاسخ :

۴۳

. ۸

(۵ نمره)

در جای خالی مقابل کدام یک از اعداد زیر باید قرار بگیرد؟

$$20 + \square + 20 = 70$$

پاسخ :

$$20 + 30 + 20 = 70$$



تدریس خصوصی ریاضی به صورت حضوری و آنلاین با دبیران حرفه ای و پیگیری قدرتمند در مدرسه

۸۸۹۰۴۰۰۲ - ۸۸۹۰۶۹۰۹ - ۲۶۵۷۰۸۱۰ - ۴۴۰۲۵۸۶۰

کد تهران ۰۲۱

۹.

(۵ نمره)

شکل زیر چه ساعتی را نشان می دهد؟



پاسخ :

۲ : ۱۰

۱۰.

(۵ نمره)



تدریس خصوصی ریاضی به صورت حضوری و آنلاین با دبیران حرفه ای و پیگیری قدرتمند در مدرسه

۴۴۰۲۵۸۶۰ - ۲۶۵۷۰۸۱۰ - ۸۸۹۰۶۹۰۹ - ۸۸۹۰۴۰۰۲

کد تهران ۰۲۱

شکل زیر چه عملیاتی را نشان می دهد (جمع یا تفریق)



پاسخ :

$$\begin{array}{r} 13 \\ + 8 \\ \hline 21 \end{array}$$

(۵ نمره)

. ۱۱

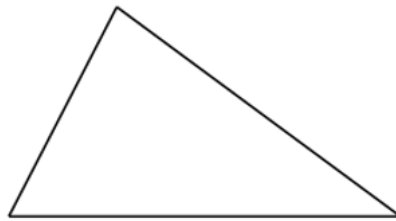
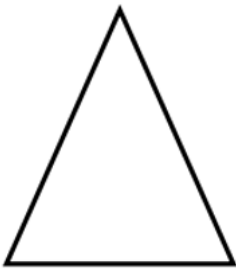


تدریس خصوصی ریاضی به صورت حضوری و آنلاین با دبیران حرفه ای و پیگیری قدرتمند در مدرسه

۴۴۰۲۵۸۶۰ - ۲۶۵۷۰۸۱۰ - ۸۸۹۰۶۹۰۹ - ۸۸۹۰۴۰۰۲

کد تهران ۰۲۱

شباهت شکل‌های زیر را بنویسید. (دبستان روش نوین - دی ۱۴۰۲)



پاسخ :

شباهت: هر دو شکل هندسی بوده و سه ضلع و سه گوشه دارند.

(۵ نمره)

. ۱۲

خط تقارن شکل زیر را رسم کنید. (دبستان سما - ۱۴۰۱)





تدریس خصوصی ریاضی به صورت حضوری و آنلاین با دبیران حرفه ای و پیگیری قدرتمند در مدرسه

۸۸۹۰۴۰۰۲ - ۸۸۹۰۶۹۰۹ - ۲۶۵۷۰۸۱۰ - ۴۴۰۲۵۸۶۰

کد تهران ۰۲۱

پاسخ :




۱۳ .

(۵ نمره)

کدام یک از شکل‌های زیر خط تقارن ندارد؟ (دبستان سما - ۱۴۰۱)



پاسخ :





تدریس خصوصی ریاضی به صورت حضوری و آنلاین با دبیران حرفه ای و پیگیری قدرتمند در مدرسه

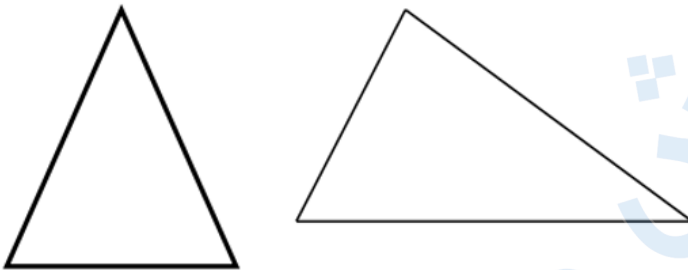
۴۴۰۲۵۸۶۰ - ۲۶۵۷۰۸۱۰ - ۸۸۹۰۶۹۰۹ - ۸۸۹۰۴۰۰۲

کد تهران ۰۲۱

۱۴.

(۵ نمره)

تفاوت شکل‌های زیر را بنویسید. (دبستان روش نوین - دی ۱۴۰۲)



پاسخ:

تفاوت: مثلث اول دارای سه ضلع برابر می‌باشد اما این در مثلث دوم صادق نیست.

۱۵.

(۵ نمره)

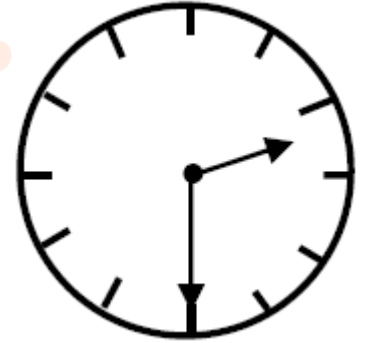


تدریس خصوصی ریاضی به صورت حضوری و آنلاین با دبیران حرفه ای و پیگیری قدرتمند در مدرسه

۸۸۹۰۴۰۰۲ - ۸۸۹۰۶۹۰۹ - ۲۶۵۷۰۸۱۰ - ۴۴۰۲۵۸۶۰

کد تهران ۰۲۱

عقربه بزرگ چند دقیقه حرکت کند تا ساعت ۳ شود؟



پاسخ :

۳۰ دقیقه مانده به ۳

۱۶ .

(۵ نمره)

با توجه به شکل زیر ۱۵ دقیقه دیگر چه ساعتی است؟ (دبستان سما - ۱۴۰۱)





تدریس خصوصی ریاضی به صورت حضوری و آنلاین با دبیران حرفه ای و پیگیری قدرتمند در مدرسه

۴۴۰۲۵۸۶۰ - ۲۶۵۷۰۸۱۰ - ۸۸۹۰۶۹۰۹ - ۸۸۹۰۴۰۰۲

کد تهران ۰۲۱

پاسخ :

۰۷:۰۰

۱۷.

(۵ نمره)

با توجه به شکل زیر ساعت چند است؟ (دبستان سما - ۱۴۰۱)



پاسخ :

۶:۴۵



تدریس خصوصی ریاضی به صورت حضوری و آنلاین با دبیران حرفه ای و پیگیری قدرتمند در مدرسه

۴۴۰۲۵۸۶۰ - ۲۶۵۷۰۸۱۰ - ۸۸۹۰۶۹۰۹ - ۸۸۹۰۴۰۰۲

کد تهران ۰۲۱

. ۱۸

(۵ نمره)

تعداد شکل زیر را شمرده و به عدد بنویسید. (دبستان سما - ۱۴۰۱)



پاسخ:

۲۵۸

. ۱۹

(۵ نمره)

جای خالی زیر را کامل کنید. (دبستان سما - ۱۴۰۱)

« عدد ۲۵۸ یعنی یکی و ده تایی و صدتایی. »

پاسخ:

۲ - ۵ - ۸



تدریس خصوصی ریاضی به صورت حضوری و آنلاین با دبیران حرفه ای و پیگیری قدرتمند در مدرسه

۸۸۹۰۴۰۰۲ - ۸۸۹۰۶۹۰۹ - ۲۶۵۷۰۸۱۰ - ۴۴۰۲۵۸۶۰

کد تهران ۰۲۱

۲۰.

(۵ نمره)

۳ دسته صد تایی و ۵ دسته ده تایی و دو یکی می شود

پاسخ :

۳ دسته صد تایی و ۵ دسته ده تایی و دو یکی می شود ۳۵۲.