



تدریس خصوصی ریاضی به صورت حضوری و آنلاین با دبیران حرفه ای و پیگیری قدرتمند در مدرسه

۸۸۹۰۴۰۰۲ - ۸۸۹۰۶۹۰۹ - ۲۶۵۷۰۸۱۰ - ۴۴۰۲۵۸۶۰

کد تهران ۰۲۱

۱.

(۷ نمره)

اگر الگوی زیر را کامل کنیم اولین عدد کدام گزینه است؟

..... ، ۷۰۰ ، ۸۰۰

۲.

(۷ نمره)

یک میز ۴ پایه دارد. ۴ میز چند پایه دارد؟ (با کمک جدول زیر جواب دهید)

تعداد میز	۱	۲	۳	۴
تعداد پایه‌ها	۴	.....	.....	.....

۳.

(۷ نمره)

در جای خالی چه عبارتی باید قرار بگیرد؟

۱۲	○	۲۴
۷		۱۹
۸		۲۰

۴.

(۷ نمره)

در ۳ آپارتمان ۵ طبقه ۴ واحدی که هر واحد ۲ پنجره دارد . چند پنجره وجود دارد ؟



تدریس خصوصی ریاضی به صورت حضوری و آنلاین با دبیران حرفه ای و پیگیری قدرتمند در مدرسه

۸۸۹۰۴۰۰۲ - ۸۸۹۰۶۹۰۹ - ۲۶۵۷۰۸۱۰ - ۴۴۰۲۵۸۶۰

کد تهران ۰۲۱

۵ .

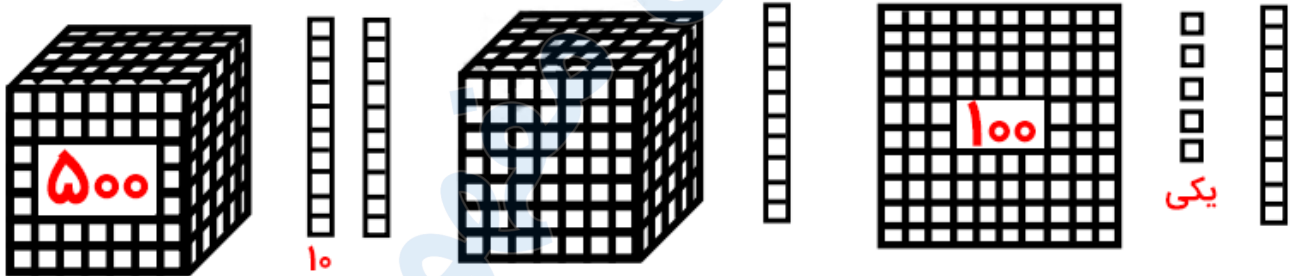
(۷ نمره)

سارا ۱۵ سال سن دارد . مادرش از او ۲۰ سال بزرگ تر است و پدرش از او ۲۵ سال بزرگ تر است . پدر و مادر سارا روی هم چند سال سن دارند ؟

۶ .

(۶ نمره)

شکل زیر چه عددی را نشان می دهد؟



۷ .

(۷ نمره)

۴ صد تایی و ۵ ده تایی و سه هزار تایی و ۵ یکی می شود .....

۸ .

(۶ نمره)

۵۲۰۰ گرم یعنی ..... کیلوگرم و ..... گرم.



تدریس خصوصی ریاضی به صورت حضوری و آنلاین با دبیران حرفه ای و پیگیری قدرتمند در مدرسه

۴۴۰۲۵۸۶۰ - ۲۶۵۷۰۸۱۰ - ۸۸۹۰۶۹۰۹ - ۸۸۹۰۴۰۰۲

کد تهران ۰۲۱

۹.

(۷ نمره)

۶۰ متر و ۲ کیلومتر می شود ..... متر.

۱۰.

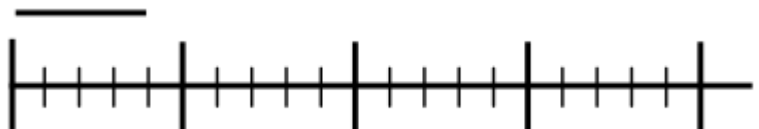
(۶ نمره)

با اسکناس‌های زیر به چند طریق می توان یک شکلات ۲۰۰ تومانی خرید؟




۱۱.

(۷ نمره)



طول خط ..... قسمت از ..... قسمت است.



تدریس خصوصی ریاضی به صورت حضوری و آنلاین با دبیران حرفه ای و پیگیری قدرتمند در مدرسه

۸۸۹۰۴۰۰۲ - ۸۸۹۰۶۹۰۹ - ۲۶۵۷۰۸۱۰ - ۴۴۰۲۵۸۶۰

کد تهران ۰۲۱

۱۲.

(۶ نمره)

کدام گزینه نمودار زیر را به درستی توصیف می کند؟



۱۳.

(۷ نمره)

ستاره و مینو هر کدام یک پیتزا گرفته‌اند. ستاره پیتزای خود را نصف می کند و  $\frac{1}{4}$  آن را می خورد و مینو  $\frac{3}{8}$  از پیتزای خود را می خورد. کدامیک بیش تر خورده است؟

۱۴.

(۶ نمره)

یک قطر از ..... شعاع درست شده است. (دبستان پورچندق - رفسنجان ۱۴۰۲)

۱۵.

(۷ نمره)



تدریس خصوصی ریاضی به صورت حضوری و آنلاین با دبیران حرفه ای و پیگیری قدرتمند در مدرسه

۸۸۹۰۴۰۰۲ - ۸۸۹۰۶۹۰۹ - ۲۶۵۷۰۸۱۰ - ۴۴۰۲۵۸۶۰

کد تهران ۰۲۱

جایگاه عدد زیر را روی محور نشان دهید. (دبستان پورجندق - رفسنجان ۱۴۰۲)

۱۱۴