



تدریس خصوصی ریاضی به صورت حضوری و آنلاین با دبیران حرفه ای و پیگیری قدرتمند در مدرسه

۴۴۰۲۵۸۶۰ - ۲۶۵۷۰۸۱۰ - ۸۸۹۰۶۹۰۹ - ۸۸۹۰۴۰۰۲

کد تهران ۰۲۱

۱.

(۷ نمره)

حاصل جمع زیر کدام گزینه است؟

$$4+8=$$

۲.

(۶ نمره)

چند عدد دو رقمی می توان نوشت که دهگان آن ۳، ۲، ۱ و یکان آن ۵، ۴ باشد؟ (استعداد یابی)

۳.


(۷ نمره)

رضا دو بسته شکلات ۸ قسمتی دارد. ۳ شکلات از بسته اول و ۴ شکلات از بسته دوم خورده است. چند شکلات باقی مانده است؟

۴.

(۷ نمره)

ساعت چند است؟



ساعت و دقیقه است.



تدریس خصوصی ریاضی به صورت حضوری و آنلاین با دبیران حرفه ای و پیگیری قدرتمند در مدرسه

۴۴۰۲۵۸۶۰ - ۲۶۵۷۰۸۱۰ - ۸۸۹۰۶۹۰۹ - ۸۸۹۰۴۰۰۲

کد تهران ۰۲۱

۵.

(۶ نمره)

عدد بعدی در الگوی زیر کدام است؟

----- و ۲۸ و ۲۶ و ۲۵ و ۲۳

۶.

(۷ نمره)

اگر جدول زیر را کامل کنیم پاسخ صحیح کدام گزینه است؟

-	۸	۳
۱۲		
۸		

۷.

(۶ نمره)



تدریس خصوصی ریاضی به صورت حضوری و آنلاین با دبیران حرفه ای و پیگیری قدرتمند در مدرسه

۸۸۹۰۴۰۰۲ - ۸۸۹۰۶۹۰۹ - ۲۶۵۷۰۸۱۰ - ۴۴۰۲۵۸۶۰

کد تهران ۰۲۱

سعید ۳۷ سال دارد و رضا ۱۴ سال از سعید کوچکتر است ، مجموع سن آنها چقدر است؟

. ۸


(۷ نمره)

فاطمه ۲۹ شکلات داشت. مادرش به او ۴۱ شکلات دیگر داد. اکنون فاطمه چند شکلات دارد؟

. ۹

(۷ نمره)

ساعت چند است؟



ساعت و دقیقه است.

. ۱۰

(۷ نمره)



تدریس خصوصی ریاضی به صورت حضوری و آنلاین با دبیران حرفه ای و پیگیری قدرتمند در مدرسه

۸۸۹۰۴۰۰۲ - ۸۸۹۰۶۹۰۹ - ۲۶۵۷۰۸۱۰ - ۴۴۰۲۵۸۶۰

کد تهران ۰۲۱

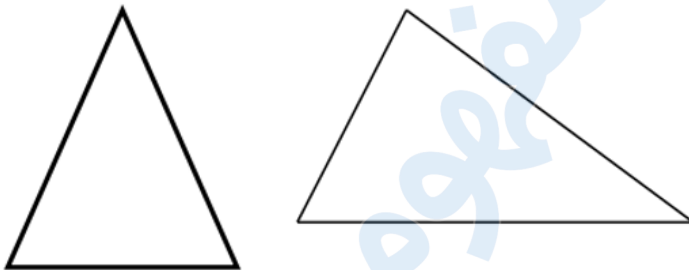
شکل زیر مربوط به کدام یک از عملیات های زیر است؟



. ۱۱

(۷ نمره)

تفاوت شکل های زیر را بنویسید. (دبستان روش نوین - دی ۱۴۰۲)



. ۱۲

(۷ نمره)

دانش آموزی با چوب کبریت های زیر یک چندضلعی می سازد. او چند چوب کبریت دیگر لازم دارد تا شکلی بسازد که ۱۵ گوشه داشته باشد؟





تدریس خصوصی ریاضی به صورت حضوری و آنلاین با دبیران حرفه ای و پیگیری قدرتمند در مدرسه

۴۴۰۲۵۸۶۰ - ۲۶۵۷۰۸۱۰ - ۸۸۹۰۶۹۰۹ - ۸۸۹۰۴۰۰۲

کد تهران ۰۲۱

۱۳.

(۷ نمره)

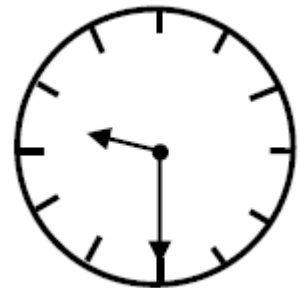


ساعت را بگردید.

۱۴.

(۶ نمره)

ساعت زیر چه زمانی را نشان می دهد؟



۱۵.

(۶ نمره)



تدریس خصوصی ریاضی به صورت حضوری و آنلاین با دبیران حرفه ای و پیگیری قدرتمند در مدرسه

۸۸۹۰۴۰۰۲ - ۸۸۹۰۶۹۰۹ - ۲۶۵۷۰۸۱۰ - ۴۴۰۲۵۸۶۰

کد تهران ۰۲۱

کدام یک از شکل های زیر خط تقارن ندارد؟

مدرسه ، آموزش مفهومی ریاضی