



تدریس خصوصی ریاضی به صورت حضوری و آنلاین با دبیران حرفه ای و پیگیری قدرتمند در مدرسه

۴۴۰۲۵۸۶۰ - ۲۶۵۷۰۸۱۰ - ۸۸۹۰۶۹۰۹ - ۸۸۹۰۴۰۰۲

کد تهران ۰۲۱

۱.

(۷ نمره)

حاصل جمع زیر کدام گزینه است؟

$$۴+۸=$$

پاسخ :

$$۸+۴=۱۲$$

۲.

(۶ نمره)

چند عدد دو رقمی می توان نوشت که دهگان آن ۳ ، ۲ ، ۱ و یکان آن ۵ ، ۴ باشد؟ (استعداد یابی)

پاسخ :

۱۴ ، ۱۵ ، ۲۴ ، ۲۵ ، ۳۴ ، ۳۵

۳.

(۷ نمره)

رضا دو بسته شکلات ۸ قسمتی دارد. ۳ شکلات از بسته اول و ۴ شکلات از بسته دوم خورده است. چند شکلات باقی مانده است؟

پاسخ :



تدریس خصوصی ریاضی به صورت حضوری و آنلاین با دبیران حرفه ای و پیگیری قدرتمند در مدرسه

۸۸۹۰۴۰۰۲ - ۸۸۹۰۶۹۰۹ - ۲۶۵۷۰۸۱۰ - ۴۴۰۲۵۸۶۰

کد تهران ۰۲۱

$$۸ + ۸ = ۱۶$$


خورده شده است.  $۳ + ۴ = ۷$

حل: باقی مانده  $۱۶ - ۷ = \boxed{۹}$

۴.


(۷ نمره)

ساعت چند است؟



ساعت ..... و ..... دقیقه است.

پاسخ:



ساعت ۲ و ۴۰ دقیقه است.



تدریس خصوصی ریاضی به صورت حضوری و آنلاین با دبیران حرفه ای و پیگیری قدرتمند در مدرسه

۴۴۰۲۵۸۶۰ - ۲۶۵۷۰۸۱۰ - ۸۸۹۰۶۹۰۹ - ۸۸۹۰۴۰۰۲

کد تهران ۰۲۱

۵.

(۶ نمره)

عدد بعدی در الگوی زیر کدام است؟

--- و ۲۸ و ۲۶ و ۲۵ و ۲۳

پاسخ:

۳۱ و ۲۹ و ۲۸ و ۲۶ و ۲۵ و ۲۳

۶.

(۷ نمره)



تدریس خصوصی ریاضی به صورت حضوری و آنلاین با دبیران حرفه ای و پیگیری قدرتمند در مدرسه

۴۴۰۲۵۸۶۰ - ۲۶۵۷۰۸۱۰ - ۸۸۹۰۶۹۰۹ - ۸۸۹۰۴۰۰۲

کد تهران ۰۲۱

اگر جدول زیر را کامل کنیم پاسخ صحیح کدام گزینه است؟

-	۸	۳
۱۲		
۸		

پاسخ :

-	۸	۳
۱۲	۴	۳
۸	۰	۵



تدریس خصوصی ریاضی به صورت حضوری و آنلاین با دبیران حرفه ای و پیگیری قدرتمند در مدرسه

۸۸۹۰۴۰۰۲ - ۸۸۹۰۶۹۰۹ - ۲۶۵۷۰۸۱۰ - ۴۴۰۲۵۸۶۰

کد تهران ۰۲۱

. ۷

(۶ نمره)

سعید ۳۷ سال دارد و رضا ۱۴ سال از سعید کوچکتر است ، مجموع سن آنها چقدر است؟

پاسخ :

$$\begin{array}{r} 37 \\ - 14 \\ \hline 23 \end{array}$$

سن رضا ۲۳

$$\begin{array}{r} 37 \\ + 23 \\ \hline \boxed{60} \end{array}$$

. ۸

(۷ نمره)

فاطمه ۲۹ شکلات داشت. مادرش به او ۴۱ شکلات دیگر داد. اکنون فاطمه چند شکلات دارد؟

پاسخ :



تدریس خصوصی ریاضی به صورت حضوری و آنلاین با دبیران حرفه ای و پیگیری قدرتمند در مدرسه

۸۸۹۰۴۰۰۲ - ۸۸۹۰۶۹۰۹ - ۲۶۵۷۰۸۱۰ - ۴۴۰۲۵۸۶۰

کد تهران ۰۲۱


$$\begin{array}{r} ۲۹ \\ + ۴۱ \\ \hline ۶۹ \\ + ۱ \\ \hline ۷۰ \end{array}$$

اکنون فاطمه ۷۰ شکلات دارد.

.۹

(۷ نمره)

ساعت چند است؟



ساعت ..... و ..... دقیقه است.

پاسخ:

ساعت ۱۱ و ۵۵ دقیقه است.

.۱۰



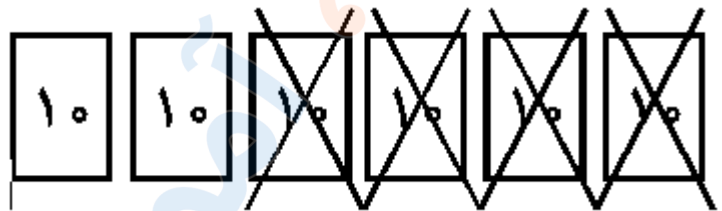
تدریس خصوصی ریاضی به صورت حضوری و آنلاین با دبیران حرفه ای و پیگیری قدرتمند در مدرسه

۴۴۰۲۵۸۶۰ - ۲۶۵۷۰۸۱۰ - ۸۸۹۰۶۹۰۹ - ۸۸۹۰۴۰۰۲

کد تهران ۰۲۱

(۷ نمره)

شکل زیر مربوط به کدام یک از عملیات های زیر است؟



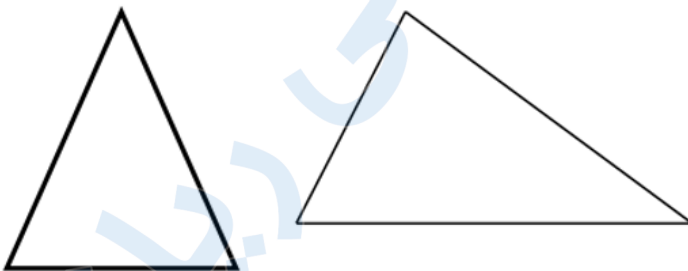
پاسخ :

$$۶۰ - ۴۰ = ۲۰$$

. ۱۱

(۷ نمره)

تفاوت شکل های زیر را بنویسید. (دبستان روش نوین - دی ۱۴۰۲)



پاسخ :

تفاوت: مثلث اول دارای سه ضلع برابر می باشد اما این در مثلث دوم صادق نیست.



تدریس خصوصی ریاضی به صورت حضوری و آنلاین با دبیران حرفه ای و پیگیری قدرتمند در مدرسه

۴۴۰۲۵۸۶۰ - ۲۶۵۷۰۸۱۰ - ۸۸۹۰۶۹۰۹ - ۸۸۹۰۴۰۰۲

کد تهران ۰۲۱

۱۲.

(۷ نمره)

دانش آموزی با چوب کبریت های زیر یک چندضلعی می سازد. او چند چوب کبریت دیگر لازم دارد تا شکلی بسازد که ۱۵ گوشه داشته باشد؟



پاسخ:

تعداد این چوب کبریت ها ۶ تا است.  $۹ = ۱۵ - ۶$  (۹ ضلع دیگر - ۹ چوب کبریت دیگر لازم است تا ۱۵ ضلعی ساخته شود).

۱۳.

(۷ نمره)



ساعت را بگردید.





تدریس خصوصی ریاضی به صورت حضوری و آنلاین با دبیران حرفه ای و پیگیری قدرتمند در مدرسه

۸۸۹۰۴۰۰۲ - ۸۸۹۰۶۹۰۹ - ۲۶۵۷۰۸۱۰ - ۴۴۰۲۵۸۶۰

کد تهران ۰۲۱

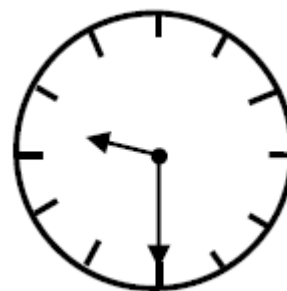
پاسخ :



۱۴ .

(۶ نمره)

ساعت زیر چه زمانی را نشان می دهد؟



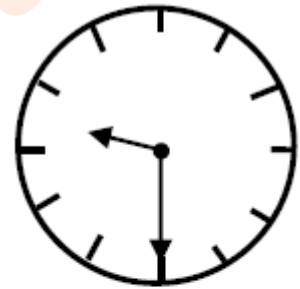
پاسخ :



تدریس خصوصی ریاضی به صورت حضوری و آنلاین با دبیران حرفه ای و پیگیری قدرتمند در مدرسه

۸۸۹۰۴۰۰۲ - ۸۸۹۰۶۹۰۹ - ۲۶۵۷۰۸۱۰ - ۴۴۰۲۵۸۶۰

کد تهران ۰۲۱



۹:۳۰

۱۵ .

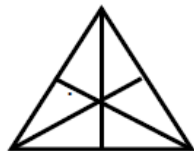
(۶ نمره)

کدام یک از شکل های زیر خط تقارن ندارد؟

پاسخ :



خط تقارن ندارد.



۳ خط تقارن دارد.



۱ خط تقارن دارد.



۱ خط تقارن دارد.