



تدریس خصوصی ریاضی به صورت حضوری و آنلاین با دبیران حرفه ای و پیگیری قدرتمند در مدرسه

۸۸۹۰۴۰۰۲ - ۸۸۹۰۶۹۰۹ - ۲۶۵۷۰۸۱۰ - ۴۴۰۲۵۸۶۰

کد تهران ۰۲۱

. ۱

(۱۰ نمره)

شکلی بکش که دو خط تقارن داشته باشد.

. ۲

(۱۰ نمره)

مقایسه کنید. ($\lt \ = \ >$)

$$۱ + ۲ \square ۲ + ۱$$

. ۳

(۱۰ نمره)

با روش دلخواه جواب دهید.

$$۵ + ۲ =$$

. ۴

(۱۰ نمره)



تدریس خصوصی ریاضی به صورت حضوری و آنلاین با دبیران حرفه ای و پیگیری قدرتمند در مدرسه

۸۸۹۰۴۰۰۲ - ۸۸۹۰۶۹۰۹ - ۲۶۵۷۰۸۱۰ - ۴۴۰۲۵۸۶۰

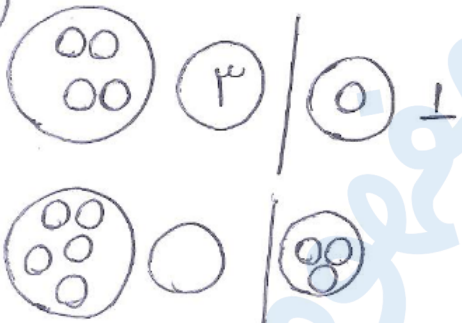
کد تهران ۰۲۱

جای خالی را پر کن
۷۰ ۶۰ ۵۰ ۴۰ ۳۰ ۲۰ ۱۰

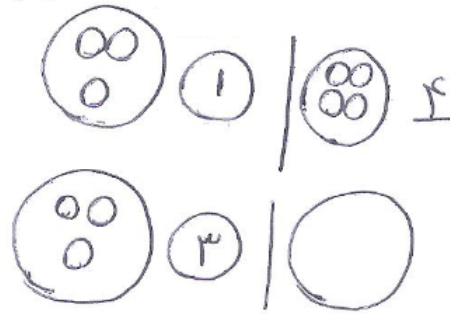
(۱۰ نمره)

۵.

(الف)

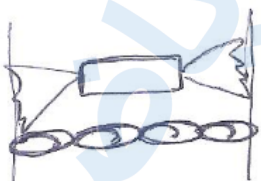


مانند نمونه جای خالی را پر کن



(۱۰ نمره)

۶.



برابر است ---



تدریس خصوصی ریاضی به صورت حضوری و آنلاین با دبیران حرفه ای و پیگیری قدرتمند در مدرسه

۸۸۹۰۴۰۰۲ - ۸۸۹۰۶۹۰۹ - ۲۶۵۷۰۸۱۰ - ۴۴۰۲۵۸۶۰

کد تهران ۰۲۱

. ۷

(۱۰ نمره)

شکل بعدی کدام است؟



. ۸

(۱۰ نمره)

جدول زیر را کامل کنید.

| | | | | | |
|---|---|---|---|---|---|
| ۶ | ۴ | ۵ | ۱ | ۳ | ۲ |
| ۱ | | | ۶ | ۴ | ۵ |
| ۴ | ۵ | | | | ۱ |
| ۳ | ۲ | | ۴ | ۵ | ۶ |
| ۵ | ۶ | | ۲ | ۱ | ۳ |
| ۲ | ۱ | ۳ | ۵ | ۶ | ۴ |



تدریس خصوصی ریاضی به صورت حضوری و آنلاین با دبیران حرفه ای و پیگیری قدرتمند در مدرسه

۴۴۰۲۵۸۶۰ - ۲۶۵۷۰۸۱۰ - ۸۸۹۰۶۹۰۹ - ۸۸۹۰۴۰۰۲

کد تهران ۰۲۱

۹.


(۱۰ نمره)

شکل‌ها را به عدد مناسب وصل کن. ۰ - ۲ - ۴ - ۳ - ۵ - ۶ - ۱



۱۰.

(۱۰ نمره)



برابر ... است.