



تدریس خصوصی ریاضی به صورت حضوری و آنلاین با دبیران حرفه ای و پیگیری قدرتمند در مدرسه

۸۸۹۰۴۰۰۲ - ۸۸۹۰۶۹۰۹ - ۲۶۵۷۰۸۱۰ - ۴۴۰۲۵۸۶۰

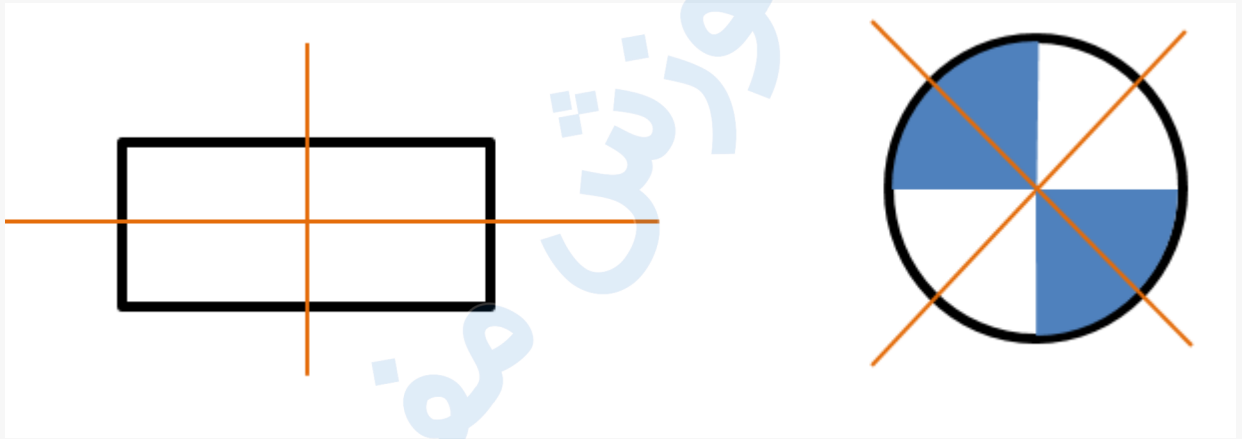
کد تهران ۰۲۱

۱.

(۱۰ نمره)

شکلی بکش که دو خط تقارن داشته باشد.

پاسخ :



۲.

(۱۰ نمره)

مقایسه کنید. ( $\ll\gg$ )

$$1 + 2 \square 2 + 1$$

پاسخ :



تدریس خصوصی ریاضی به صورت حضوری و آنلاین با دبیران حرفه ای و پیگیری قدرتمند در مدرسه

۸۸۹۰۴۰۰۲ - ۸۸۹۰۶۹۰۹ - ۲۶۵۷۰۸۱۰ - ۴۴۰۲۵۸۶۰

کد تهران ۰۲۱

$$1 + 2 = 3 \quad \boxed{=} \quad 2 + 1 = 3$$

(۱۰ نمره)

. ۳

با روش دلخواه جواب دهید.

$$5 + 2 =$$

پاسخ :

$$5 + 2 = 7$$



(۱۰ نمره)

. ۴

جای خالی را پر کن

۷



تدریس خصوصی ریاضی به صورت حضوری و آنلاین با دبیران حرفه ای و پیگیری قدرتمند در مدرسه

۸۸۹۰۴۰۰۲ - ۸۸۹۰۶۹۰۹ - ۲۶۵۷۰۸۱۰ - ۴۴۰۲۵۸۶۰

کد تهران ۰۲۱

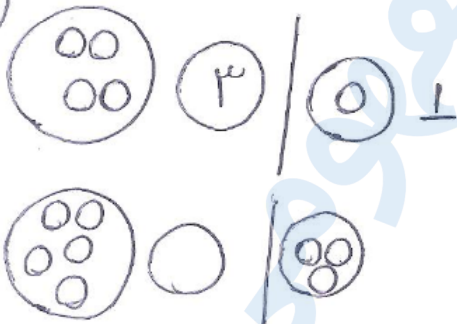
پاسخ :

۷۰ ، ۶۰ ، ۵۰ ، ۴۰ ، ۳۰ ، ۲۰ ، ۱۰ ، ۰

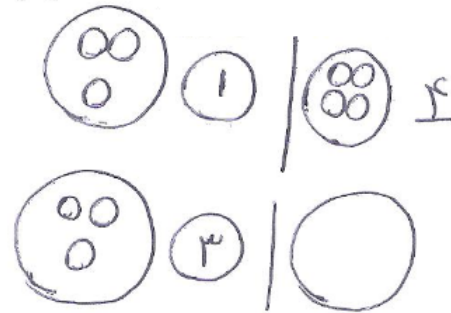
۵.

(۱۰ نمره)

(الف)




مانند نمونه های جلای را پر کن (ب)



پاسخ :

(الف)



(ب)





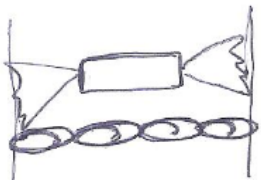
تدریس خصوصی ریاضی به صورت حضوری و آنلاین با دبیران حرفه ای و پیگیری قدرتمند در مدرسه

۸۸۹۰۴۰۰۲ - ۸۸۹۰۶۹۰۹ - ۲۶۵۷۰۸۱۰ - ۴۴۰۲۵۸۶۰

کد تهران ۰۲۱

۶.

(۱۰ نمره)



برابر است

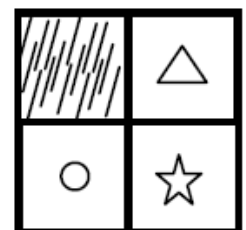
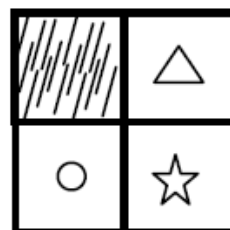
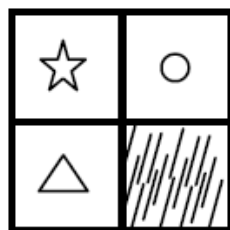
پاسخ:



۷.

(۱۰ نمره)

شکل بعدی کدام است؟




پاسخ:



تدریس خصوصی ریاضی به صورت حضوری و آنلاین با دبیران حرفه ای و پیگیری قدرتمند در مدرسه

۸۸۹۰۴۰۰۲ - ۸۸۹۰۶۹۰۹ - ۲۶۵۷۰۸۱۰ - ۴۴۰۲۵۸۶۰

کد تهران ۰۲۱



۸.

(۱۰ نمره)

جدول زیر را کامل کنید.

۶	۴	۵	۱	۳	۲
۱			۶	۴	۵
۴	۵				۱
۳	۲		۴	۵	۶
۵	۶		۲	۱	۳
۲	۱	۳	۵	۶	۴

پاسخ :



تدریس خصوصی ریاضی به صورت حضوری و آنلاین با دبیران حرفه ای و پیگیری قدرتمند در مدرسه

۴۴۰۲۵۸۶۰ - ۲۶۵۷۰۸۱۰ - ۸۸۹۰۶۹۰۹ - ۸۸۹۰۴۰۰۲

کد تهران ۰۲۱

۶	۴	۵	۱	۳	۲
۱	۳	۲	۶	۴	۵
۴	۵	۶	۳	۲	۱
۳	۲	۱	۴	۵	۶
۵	۶	۴	۲	۱	۳
۲	۱	۳	۵	۶	۴

۹.

(۱۰ نمره)

شکل‌ها را با عدد مناسب وصل کن. ۰ - ۲ - ۴ - ۳ - ۵ - ۶ - ۱



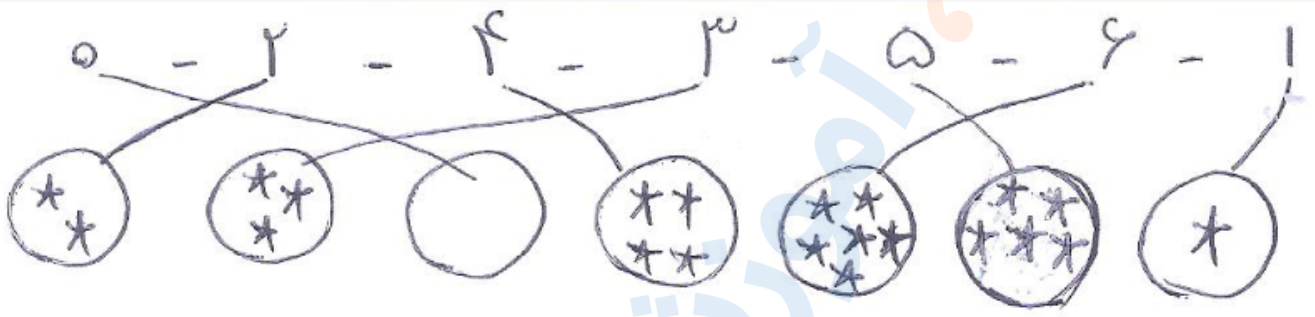


تدریس خصوصی ریاضی به صورت حضوری و آنلاین با دبیران حرفه ای و پیگیری قدرتمند در مدرسه

۸۸۹۰۴۰۰۲ - ۸۸۹۰۶۹۰۹ - ۲۶۵۷۰۸۱۰ - ۴۴۰۲۵۸۶۰


کد تهران ۰۲۱

پاسخ :



۱۰.

(۱۰ نمره)



برابر ... است .

پاسخ :

