



تدریس خصوصی ریاضی به صورت حضوری و آنلاین با دبیران حرفه ای و پیگیری قدرتمند در مدرسه

۸۸۹۰۴۰۰۲ - ۸۸۹۰۶۹۰۹ - ۲۶۵۷۰۸۱۰ - ۴۴۰۲۵۸۶۰

کد تهران ۰۲۱

. ۱

(۱۰ نمره)

در هر جعبه ۳ عدد یک است. ۲ جعبه داریم. که چند جعبه دیگر بخریم تا ۹ کیک داشته باشیم؟ (با روش دلخواه جواب دهید.)

. ۲

(۱۰ نمره)

با روش دلخواه جواب دهید.

+	۳	۴
۲		
۴		

. ۳

(۱۰ نمره)

جای خالی را پر کنید.

$$۱ + ۴ + ۰ + ۱ + \square = ۲ + ۲ + ۱ + ۱ + ۲$$



تدریس خصوصی ریاضی به صورت حضوری و آنلاین با دبیران حرفه ای و پیگیری قدرتمند در مدرسه

۸۸۹۰۴۰۰۲ - ۸۸۹۰۶۹۰۹ - ۲۶۵۷۰۸۱۰ - ۴۴۰۲۵۸۶۰

کد تهران ۰۲۱

.۴

(۱۰ نمره)


با روش دلخواه جواب دهید.

$$\underline{\quad} + 5 = 8$$

.۵

(۱۰ نمره)

مقایسه کنید.



.۶

(۱۰ نمره)

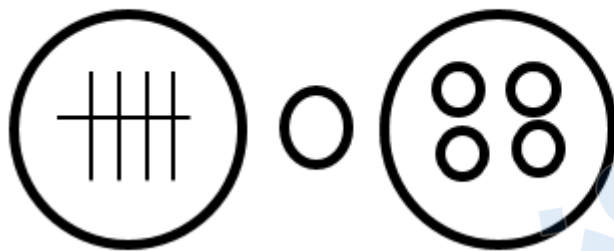


تدریس خصوصی ریاضی به صورت حضوری و آنلاین با دبیران حرفه ای و پیگیری قدرتمند در مدرسه

۸۸۹۰۴۰۰۲ - ۸۸۹۰۶۹۰۹ - ۲۶۵۷۰۸۱۰ - ۴۴۰۲۵۸۶۰

کد تهران ۰۲۱

مقایسه کنید. ( $\leq$ ).




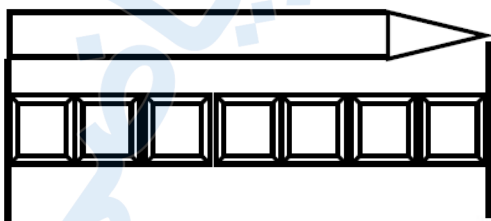
(۱۰ نمره)



آلورا ادامه بده

(۱۰ نمره)

اندازه مداد چند شکل کوچک است؟





تدریس خصوصی ریاضی به صورت حضوری و آنلاین با دبیران حرفه ای و پیگیری قدرتمند در مدرسه

۸۸۹۰۴۰۰۲ - ۸۸۹۰۶۹۰۹ - ۲۶۵۷۰۸۱۰ - ۴۴۰۲۵۸۶۰

کد تهران ۰۲۱

۹.

(۱۰ نمره)

اندازه مداد چند شکل کوچک است؟

