



تدریس خصوصی ریاضی به صورت حضوری و آنلاین با دبیران حرفه ای و پیگیری قدرتمند در مدرسه

۴۴۰۲۵۸۶۰ - ۲۶۵۷۰۸۱۰ - ۸۸۹۰۶۹۰۹ - ۸۸۹۰۴۰۰۲

کد تهران ۰۲۱

۱.

(۱۰ نمره)

در هر جعبه ۳ عدد کیک است. ۲ جعبه داریم. که چند جعبه دیگر بخریم تا ۹ کیک داشته باشیم؟ (با روش دلخواه جواب دهید.)

پاسخ:



یک جعبه دیگر

۶ کیک

$$۶ + ۳ = ۹$$

۲.

(۱۰ نمره)

با روش دلخواه جواب دهید.

+	۳	۴
۲		
۴		

پاسخ:



تدریس خصوصی ریاضی به صورت حضوری و آنلاین با دبیران حرفه ای و پیگیری قدرتمند در مدرسه

۸۸۹۰۴۰۰۲ - ۸۸۹۰۶۹۰۹ - ۲۶۵۷۰۸۱۰ - ۴۴۰۲۵۸۶۰

کد تهران ۰۲۱

+	۳	۴
۲	۵	۶
۴	۷	۸

(۱۰ نمره)

۳.

جای خالی را پر کنید.

$$۱ + ۴ + ۰ + ۱ + \square = ۲ + ۲ + ۱ + ۱ + ۲$$

پاسخ:

با راهنمایی معلم و با روش دلخواه

$$\underbrace{۱ + ۴ + ۰ + ۱ + \square}_{۶} = \underbrace{۲ + ۲ + ۱ + ۱ + ۲}_{۸}$$



تدریس خصوصی ریاضی به صورت حضوری و آنلاین با دبیران حرفه ای و پیگیری قدرتمند در مدرسه

۸۸۹۰۴۰۰۲ - ۸۸۹۰۶۹۰۹ - ۲۶۵۷۰۸۱۰ - ۴۴۰۲۵۸۶۰

کد تهران ۰۲۱

۴.

(۱۰ نمره)

با روش دلخواه جواب دهید.

$$\underline{\quad} + 5 = 8$$

پاسخ:

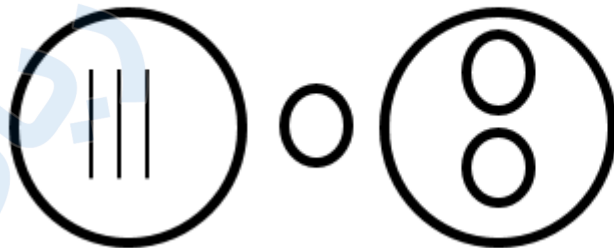
$$3 + 5 = 8$$



۵.

(۱۰ نمره)

مقایسه کنید.



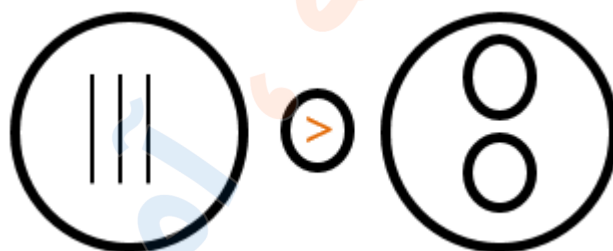
پاسخ:



تدریس خصوصی ریاضی به صورت حضوری و آنلاین با دبیران حرفه ای و پیگیری قدرتمند در مدرسه

۸۸۹۰۴۰۰۲ - ۸۸۹۰۶۹۰۹ - ۲۶۵۷۰۸۱۰ - ۴۴۰۲۵۸۶۰

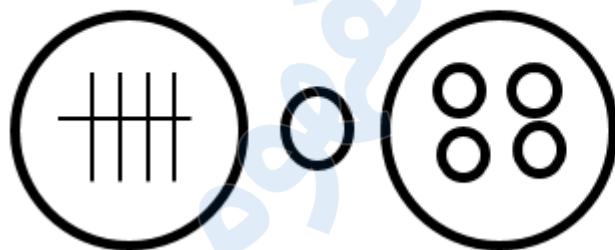
کد تهران ۰۲۱



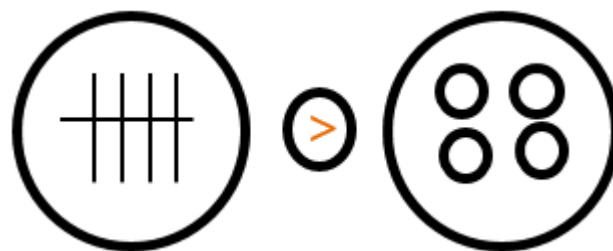
۶.

(۱۰ نمره)

مقایسه کنید. (<=>)



پاسخ :





تدریس خصوصی ریاضی به صورت حضوری و آنلاین با دبیران حرفه ای و پیگیری قدرتمند در مدرسه

۴۴۰۲۵۸۶۰ - ۲۶۵۷۰۸۱۰ - ۸۸۹۰۶۹۰۹ - ۸۸۹۰۴۰۰۲

کد تهران ۰۲۱


۷.

(۱۰ نمره)

آنگورا ادامه بده



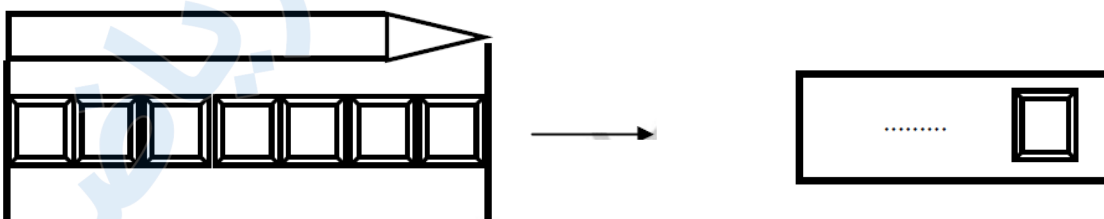
پاسخ:



۸.

(۱۰ نمره)

اندازه مداد چند شکل کوچک است؟



پاسخ:



تدریس خصوصی ریاضی به صورت حضوری و آنلاین با دبیران حرفه ای و پیگیری قدرتمند در مدرسه

۸۸۹۰۴۰۰۲ - ۸۸۹۰۶۹۰۹ - ۲۶۵۷۰۸۱۰ - ۴۴۰۲۵۸۶۰


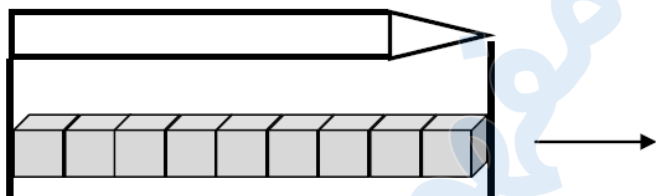
کد تهران ۰۲۱



۹.

(۱۰ نمره)

اندازه مداد چند شکل کوچک است؟



پاسخ :

