



تدریس خصوصی ریاضی به صورت حضوری و آنلاین با دبیران حرفه ای و پیگیری قدرتمند در مدرسه

۸۸۹۰۴۰۰۲ - ۸۸۹۰۶۹۰۹ - ۲۶۵۷۰۸۱۰ - ۴۴۰۲۵۸۶۰

کد تهران ۰۲۱

۱.

(۱۰ نمره)

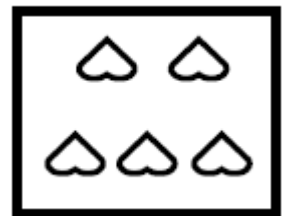
اگر به اندازه چوب خط ها از دایره ها خط بزنید، حاصل چند مربع است؟



۲.

(۱۰ نمره)

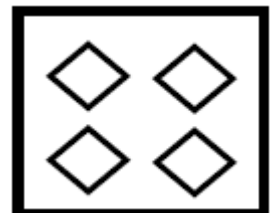
عدد مناسب برای شکل مقابل را انتخاب کنید.



۳.

(۱۰ نمره)

عدد مناسب برای شکل مقابل را انتخاب کنید.





تدریس خصوصی ریاضی به صورت حضوری و آنلاین با دبیران حرفه ای و پیگیری قدرتمند در مدرسه

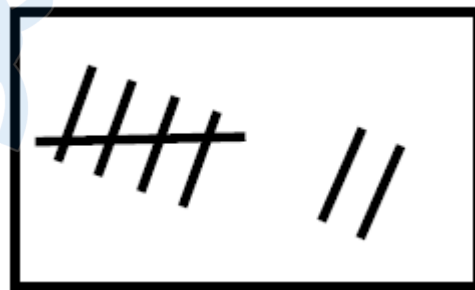
۴۴۰۲۵۸۶۰ - ۲۶۵۷۰۸۱۰ - ۸۸۹۰۶۹۰۹ - ۸۸۹۰۴۰۰۲

کد تهران ۰۲۱

۴.

(۱۰ نمره)

عددی که با چوب خط های مقابل برابر است را مشخص کنید.



۵.

(۱۰ نمره)

یک واحد از شکل کم کنید و حاصل را با عدد مشخص کنید.



۶.

(۱۰ نمره)

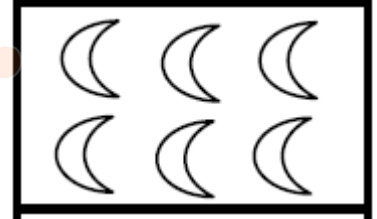


تدریس خصوصی ریاضی به صورت حضوری و آنلاین با دبیران حرفه ای و پیگیری قدرتمند در مدرسه

۴۴۰۲۵۸۶۰ - ۲۶۵۷۰۸۱۰ - ۸۸۹۰۶۹۰۹ - ۸۸۹۰۴۰۰۲

کد تهران ۰۲۱

کدام گزینه عدد ماهها را نشان می‌دهد؟



(۱۰ نمره)

. ۷

جدول زیر را کامل کنید.

۶	۴	۵	۱	۳	۲
۱			۶	۴	۵
۴	۵				۱
۳	۲		۴	۵	۶
۵	۶		۲	۱	۳
۲	۱	۳	۵	۶	۴

(۱۰ نمره)

. ۸

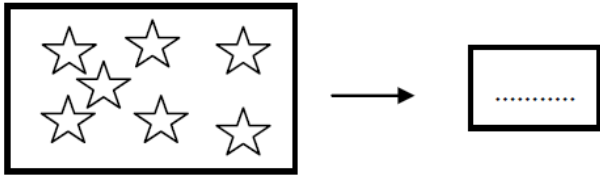


تدریس خصوصی ریاضی به صورت حضوری و آنلاین با دبیران حرفه ای و پیگیری قدرتمند در مدرسه

۸۸۹۰۴۰۰۲ - ۸۸۹۰۶۹۰۹ - ۲۶۵۷۰۸۱۰ - ۴۴۰۲۵۸۶۰

کد تهران ۰۲۱

عددی بنویسید که ۴ تا کمتر از ستاره‌ها باشد؟



(۱۰ نمره)

۰ ، ۱ ، ۲ ، ۳ ، ۴ ، ۵ ، ۶ ، ۷

جاهای خالی را پر کن.

(۱۰ نمره)

با روش دلخواه جواب دهید.

$$۵ + ۲ =$$