



تدریس خصوصی ریاضی به صورت حضوری و آنلاین با دبیران حرفه ای و پیگیری قدرتمند در مدرسه

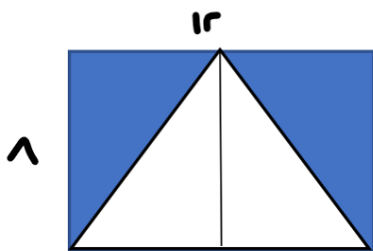
۸۸۹۰۴۰۰۲ - ۸۸۹۰۶۹۰۹ - ۲۶۵۷۰۸۱۰ - ۴۴۰۲۵۸۶۰

کد تهران ۰۲۱

۱.

(۲ نمره)

مساحت قسمت رنگ شده شکل مقابل را به دست آورید. (دبستان پور جندقی - رفسنجان ۱۴۰۲)



۲.

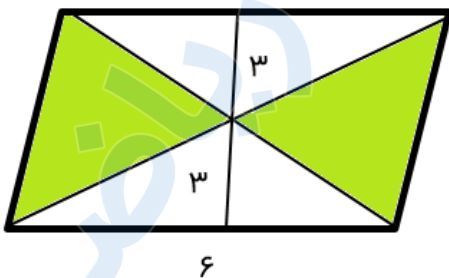
(۲ نمره)

در یک پارکینگ روی هم ۱۸ دوچرخه و اتومبیل وجود دارد. اگر تعداد چرخ ها روی هم ۶۰ تا باشد در این پارکینگ چند دوچرخه و چند اتومبیل وجود دارد؟

۳.

(۲ نمره)

در شکل مساحت قسمت رنگی چند سانتی متر مربع است؟





تدریس خصوصی ریاضی به صورت حضوری و آنلاین با دبیران حرفه ای و پیگیری قدرتمند در مدرسه

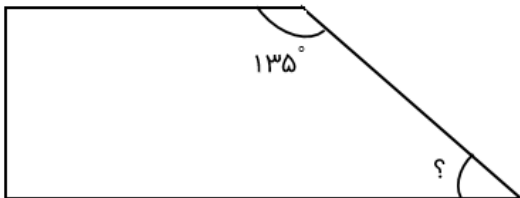
۴۴۰۲۵۸۶۰ - ۲۶۵۷۰۸۱۰ - ۸۸۹۰۶۹۰۹ - ۸۸۹۰۴۰۰۲

کد تهران ۰۲۱

. ۴

(۲ نمره)

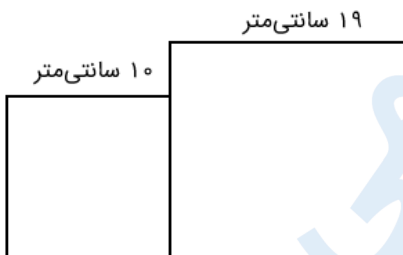
اندازه زاویه خواسته شده در شکل مقابل را بدست آورید.



. ۵

(۲ نمره)

محیط شکل روبه‌رو را به دست آورید. (شکل‌ها مربع هستند).



. ۶

(۲ نمره)

متوازی الاضلاعی داریم که ارتفاع آن ۵ و قاعده ی آن ۷ است. مساحت این متوازی الاضلاع چند می شود؟



تدریس خصوصی ریاضی به صورت حضوری و آنلاین با دبیران حرفه ای و پیگیری قدرتمند در مدرسه

۴۴۰۲۵۸۶۰ - ۲۶۵۷۰۸۱۰ - ۸۸۹۰۶۹۰۹ - ۸۸۹۰۴۰۰۲

کد تهران ۰۲۱

۷.

(۲ نمره)

مساحت زمینی مستطیل شکل به طول ۲۰۰ متر و عرض ۸۹ متر چقدر می شود؟

۸.

(۲ نمره)

محیط شکل زیر چند متر و مساحت آن چند سانتی متر مربع است؟

۴/۲



۱/۸

۹.

(۲ نمره)

یک باغچه به شکل زیر را قطعه بندی کرده اند تا در هر قسمت آن یک نوع سبزی بکارند. اگر مساحت باغچه ۸ متر مربع باشد، مساحت هر مربع چند متر مربع است و اندازه هر ضلع مربع چند متر است؟




تدریس خصوصی ریاضی به صورت حضوری و آنلاین با دبیران حرفه ای و پیگیری قدرتمند در مدرسه

۴۴۰۲۵۸۶۰ - ۲۶۵۷۰۸۱۰ - ۸۸۹۰۶۹۰۹ - ۸۸۹۰۴۰۰۲

کد تهران ۰۲۱

. ۱۰

(۲ نمره)

ارتفاع مثلثی ۲۰ سانتی‌متر و قاعده آن ۱۵ سانتی‌متر است. مساحت این مثلث چند سانتی‌متر مربع است؟