



تدریس خصوصی ریاضی به صورت حضوری و آنلاین با دبیران حرفه ای و پیگیری قدرتمند در مدرسه

۴۴۰۲۵۸۶۰ - ۲۶۵۷۰۸۱۰ - ۸۸۹۰۶۹۰۹ - ۸۸۹۰۴۰۰۲

کد تهران ۰۲۱

. ۱

(۲ نمره)

اگر از ۷۵ سیب زرد و قرمز جعبه‌ای ۵۲ سیب زرد باشد، چند سیب قرمز است؟ (سرای دانش - خرداد ۱۴۰۲)

پاسخ :

$$75 - 52 = 23$$

. ۲

(۲ نمره)

۴۵ نفر در یک کلاس هستند. بعد از مدتی ۱۲ نفر از بیرون وارد کلاس می‌شوند و ۱۴ نفر دیگر از کلاس بیرون می‌روند. اکنون تعداد افرادی که سر کلاس هستند، چند نفر هستند؟

پاسخ :

$$45 + 12 - 14 = 43$$

. ۳

(۲ نمره)

سعید ۴۱ ساله می باشد و امیر ۲۷ سال دارد. چند سال بگذرد تا امیر هم به سن ۴۱ سال برسد ؟

پاسخ :



تدریس خصوصی ریاضی به صورت حضوری و آنلاین با دبیران حرفه ای و پیگیری قدرتمند در مدرسه

۸۸۹۰۴۰۰۲ - ۸۸۹۰۶۹۰۹ - ۲۶۵۷۰۸۱۰ - ۴۴۰۲۵۸۶۰

کد تهران ۰۲۱

$$۴۱ - ۲۷ = ۱۴$$

. ۴

(۲ نمره)

علی ۴۹ تومان پول دارد. برادرش ۳۰ تومان بیش تر از علی دارد. این دو برادر روی هم چند تومان پول دارند؟

پاسخ:

$$\text{پول علی : } ۴۹ + ۳۰ = ۷۹$$

$$\text{کل پول هر دو : } ۴۹ + ۷۹ = ۱۲۸$$

. ۵

(۲ نمره)

سامان یک کتاب ۳۰ صفحه ای دارد و می خواهد در روز های چهارشنبه و پنج شنبه و جمعه آن را بخواند. اگر روز چهارشنبه ۶ صفحه و در روز های بعدی یک صفحه بیشتر از شب قبل بخواند چند صفحه باقی مانده است؟

پاسخ:

$$۶ + ۷ + ۸ = ۲۱$$

$$۳۰ - ۲۱ = ۹$$



تدریس خصوصی ریاضی به صورت حضوری و آنلاین با دبیران حرفه ای و پیگیری قدرتمند در مدرسه

۸۸۹۰۴۰۰۲ - ۸۸۹۰۶۹۰۹ - ۲۶۵۷۰۸۱۰ - ۴۴۰۲۵۸۶۰

کد تهران ۰۲۱

۶.

(۲ نمره)

سعید ۴۱ ساله می باشد و امیر ۲۷ سال دارد. چند سال بگذرد تا امیر هم به سن ۴۱ سال برسد؟

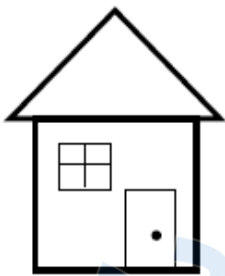
پاسخ :

$$۴۱ - ۲۷ = ۱۴$$

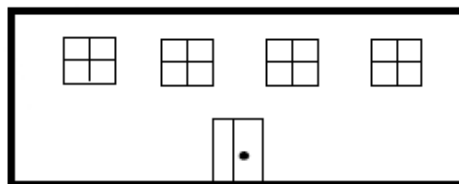
۷.

(۲ نمره)

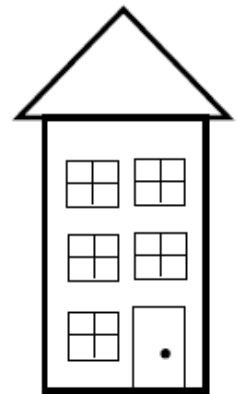
برای رفتن از خانه به مدرسه ۲ راه متفاوت وجود دارد و برای رفتن از مدرسه به کتابخانه ۳ راه مختلف وجود دارد . با استفاده از روش رسم شکل تعیین کنید به چند روش مختلف می توان از خانه به کتابخانه رفت؟



خانه



مدرسه



کتابخانه

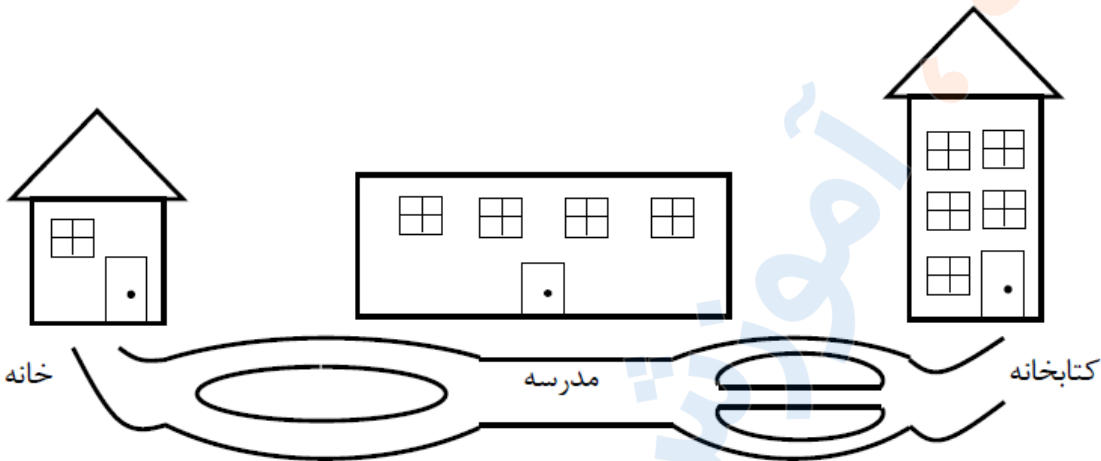
پاسخ :



تدریس خصوصی ریاضی به صورت حضوری و آنلاین با دبیران حرفه ای و پیگیری قدرتمند در مدرسه

۸۸۹۰۴۰۰۲ - ۸۸۹۰۶۹۰۹ - ۲۶۵۷۰۸۱۰ - ۴۴۰۲۵۸۶۰

کد تهران ۰۲۱



به ۶ روش مختلف می توان از خانه به کتابخانه رفت.

۸.

(۲ نمره)

فاطمه ۲۹ شکلات داشت. مادرش به او ۴۱ شکلات دیگر داد. اکنون فاطمه چند شکلات دارد؟

پاسخ:

$$\begin{array}{r} 29 \\ + 41 \\ \hline 69 \\ + 1 \\ \hline 70 \end{array}$$

اکنون فاطمه شکلات دارد.



تدریس خصوصی ریاضی به صورت حضوری و آنلاین با دبیران حرفه ای و پیگیری قدرتمند در مدرسه

۴۴۰۲۵۸۶۰ - ۲۶۵۷۰۸۱۰ - ۸۸۹۰۶۹۰۹ - ۸۸۹۰۴۰۰۲

کد تهران ۰۲۱

۹.

(۲ نمره)

حسین ۵۷ دقیقه دوید. اگر برادرش ۲۹ دقیقه کم تر از او دویده باشد، برادر حسین چند دقیقه دویده است؟

پاسخ :

$$\begin{array}{r} 57 \\ -29 \\ \hline 28 \\ -9 \\ \hline 19 \end{array}$$

برادر حسین دقیقه دویده است.

۱۰.

(۲ نمره)

سعید ۳۷ سال دارد و رضا ۱۴ سال از سعید کوچکتر است ، مجموع سن آنها چقدر است؟

پاسخ :



تدریس خصوصی ریاضی به صورت حضوری و آنلاین با دبیران حرفه ای و پیگیری قدرتمند در مدرسه

۸۸۹۰۴۰۰۲ - ۸۸۹۰۶۹۰۹ - ۲۶۵۷۰۸۱۰ - ۴۴۰۲۵۸۶۰

کد تهران ۰۲۱

$$\begin{array}{r} ۳۷ \\ - ۱۴ \\ \hline ۲۳ \end{array}$$

سن رضا

$$\begin{array}{r} ۳۷ \\ + ۲۳ \\ \hline \boxed{۶۰} \end{array}$$